


A. 12000

B. 120 000

C. 1 200

D. 120

Câu 106. Hình dưới đây có bao nhiêu đoạn thẳng?



A. 6 đoạn thẳng

B. 18 đoạn thẳng

C. 15 đoạn thẳng

D. 12 đoạn thẳng

Câu 107. Nếu viết ra giấy các số từ 1 đến 100 thì phải viết chữ số 9 bao nhiêu lần?

A. 19 lần

B. 20 lần

C. 11 lần

D. 10 lần

Câu 108.



Hình trên có bao nhiêu đoạn thẳng?

A. 15 đoạn thẳng.

B. 10 đoạn thẳng.

C. 5 đoạn thẳng.

D. 12 đoạn thẳng.

Câu 109. Số "hai mươi triệu không nghìn bốn trăm linh tám " viết là:

A. 2000408

B. 20004008

C. 2040008

D. 20000408

Câu 110. Cho 4 chữ số: 1, 0, 2, 4. Hỏi viết được bao nhiêu số có 3 chữ số khác nhau?

A. 18 số

B. 6 số

C. 12 số

D. 24 số

Câu 111. Kết quả của phép tính $\frac{3}{5} \times \frac{2}{7}$ là:

A. $\frac{5}{35}$

B. $\frac{6}{35}$

C. $\frac{5}{12}$

D. $\frac{6}{12}$

Câu 112. Chữ số 8 trong số 7685320705 có giá trị là:

A. 8000000

B. 800000

C. 800000000

D. 80000000

Câu 113. Phân số bé nhất trong các phân số dưới đây là:

A. $\frac{11}{23}$

B. $\frac{1}{2}$

C. $\frac{10}{22}$

D. $\frac{4}{11}$

Câu 114. Một người nuôi 40 con thỏ. Sau khi bán $\frac{1}{5}$ số con thỏ, người đó nhốt đều số thỏ còn lại vào 8 chuồng. Hỏi mỗi chuồng nhốt mấy con thỏ?

A. 6 con thỏ

B. 4 con thỏ

C. 5 con thỏ

D. 32 con thỏ

Câu 115. Trong các biểu thức dưới đây, biểu thức nào có giá trị bé nhất?

A. $\frac{2}{5} \times \frac{5}{2}$

B. $1 + \frac{3}{4}$

C. $\frac{5}{4} - \frac{3}{8}$

D. $1 : \frac{2}{3}$

Câu 116. Tìm số tự nhiên a lớn nhất để: $238 \times a < 1193$

A. $a = 4$

B. $a = 3$

C. $a = 6$

D. $a = 5$

Câu 117. $4 \text{ m}^2 2 \text{ dm}^2 = \dots \text{ dm}^2$. Số thích hợp điền vào chỗ chấm là:

A. 4020

B. 420

C. 42

D. 402

Câu 118. Một lớp học có 18 học sinh nữ và 12 học sinh nam. Hỏi số học sinh nam chiếm bao nhiêu phần số học sinh cả lớp?

A. $\frac{2}{5}$

B. $\frac{3}{5}$

C. $\frac{3}{2}$

D. $\frac{2}{3}$

Câu 119. Số 3 có thể viết thành:

A. $\frac{30}{10}$

B. $\frac{3}{10}$

C. $\frac{30}{3}$

D. $\frac{30}{30}$

Câu 120. Trong các số dưới đây, số nào không thuộc dãy số: 2, 5, 8, 11, 14, ...

A. 2 333

B. 23 456

C. 21 345

D. 2 000

Câu 121. Hôm nay là ngày thứ năm. Hỏi 100 ngày sau sẽ là ngày thứ mấy của tuần lễ.

A. Thứ bảy

B. Thứ hai

C. Chủ nhật

D. Thứ sáu

Câu 122. Cho 6 số: 1, 2, 3, 4, 5, 6. Hỏi có bao nhiêu cách chọn 3 số từ các số đã cho để tổng 3 số đó là 1 số chẵn?

A. 8

B. 10

C. 9

D. 11

Câu 123. Chữ cái thứ 100 của dãy: KINHMONKINHMONKINH ... là chữ cái nào?

A. Chữ N

B. Chữ I

C. Chữ K

D. Chữ O

Câu 124. Điền thêm số tiếp theo vào dãy số sau cho hợp quy luật: 2, 5, 11, 23,

A. 41

B. 35

C. 34

D. 47

Câu 125. Kết quả của phép chia $13800 : 24$ là:

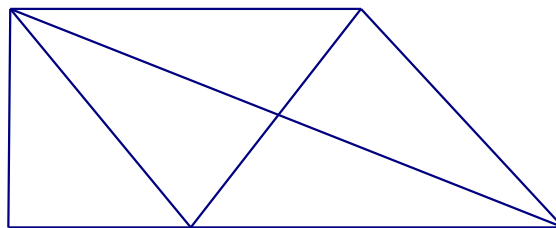
A. 557

B. 575

C. 455

D. 475

Câu 126.



Hình trên có bao nhiêu hình tam giác, bao nhiêu hình tứ giác?

A. 10 hình tam giác, 4 hình tứ giác.

B. 9 hình tam giác, 3 hình tứ giác.

C. 9 hình tam giác, 4 hình tứ giác.

D. 10 hình tam giác, 3 hình tứ giác.

Câu 127. Phân số bằng phân số $\frac{5}{7}$ là:

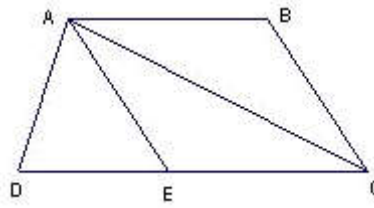
A. $\frac{12}{40}$

B. $\frac{11}{42}$

C. $\frac{16}{20}$

D. $\frac{25}{35}$

Câu 128. Cho hình vẽ:



Đỉnh A là đỉnh chung của bao nhiêu hình tam giác?

A. 4 hình

B. 6 hình

C. 2 hình

D. 3 hình

Câu 129. Nhân 4 số tự nhiên liên tiếp với nhau, 3 bạn được 3 kết quả như dưới đây. Hỏi kết quả nào đúng?

A. cả 3 đều sai

B. 6284

C. 6824

D. 8624

Câu 130. Số gồm 7 triệu, 2 trăm nghìn, 5 nghìn, 8 trăm, 3 đơn vị viết là:

A. 70250803

B. 7205083

C. 7205803

D. 725803

Câu 131. Phân số nào dưới đây bằng phân số $\frac{5}{8}$?

A. $\frac{10}{24}$

B. $\frac{15}{24}$

C. $\frac{15}{16}$

D. $\frac{20}{24}$

Câu 132. Tổng của 4 số là 130. Trung bình cộng của 3 số đầu là 40. Hỏi số thứ tư bằng bao nhiêu?

A. 30

B. 10

C. 40

D. 90

Câu 133. Có 2.135 quyển vở được xếp vào 7 thùng. Hỏi 5 thùng đó có bao nhiêu quyển vở?

A. 1.525 quyển

B. 35 quyển

C. 705 quyển

D. 305 quyển

Câu 134. Phân số còn thiếu trong dãy sau: $\frac{1}{2}$, $\frac{1}{12}$, $\frac{1}{30}$, $\frac{1}{56}$, , $\frac{1}{132}$ là:

A. $\frac{1}{94}$

B. $\frac{1}{90}$

C. $\frac{1}{86}$

D. $\frac{1}{98}$

Câu 135. Kết quả của phép tính $1 + \frac{3}{4}$ là:

A. $\frac{4}{4}$

B. $\frac{7}{4}$

C. $\frac{6}{4}$

D. $\frac{5}{4}$

Câu 136. Phân số bé nhất trong các phân số dưới đây là:

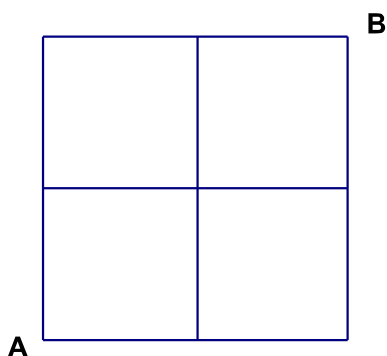
A. $\frac{7}{11}$

B. $\frac{7}{12}$

C. $\frac{6}{11}$

D. $\frac{6}{10}$

Câu 137.



Biết cạnh của mỗi ô vuông trong hình vẽ trên đều dài 1cm. Em hãy tìm xem có bao nhiêu đường gấp khúc đi từ A tới B dài 4 cm.

- A.** 5 đường **B.** 4 đường **C.** 6 đường **D.** 3 đường

Câu 138. Có bao nhiêu số có 2 chữ số?

- A.** 99 **B.** 89 **C.** 50 **D.** 90

Câu 139. Kết quả của phép tính $\frac{4}{5}$ phút - $\frac{3}{4}$ phút = giây là:

- A.** 5 giây **B.** 3 giây **C.** 2 giây **D.** 4 giây

Câu 140. Kết quả của biểu thức $\frac{3}{5} - \frac{1}{5} \times \frac{1}{6}$ là:

- A.** $\frac{17}{30}$ **B.** $\frac{1}{15}$ **C.** $\frac{23}{55}$ **D.** $\frac{17}{150}$

Câu 141. Một hình chữ nhật có chiều dài 12 cm, chiều rộng 8 cm. Hỏi một hình vuông có cùng chu vi với hình chữ nhật đó thì có diện tích là bao nhiêu?

- A.** 40 cm² **B.** 160 cm² **C.** 96 cm² **D.** 100 cm²

Câu 142. Số gồm có năm vạn tám nghìn hai chục và sáu đơn vị được viết là:

- A.** 58 260 **B.** 58 206 **C.** 508 026 **D.** 58 026

Câu 143. $1 \text{ km}^2 265 \text{ m}^2 = \dots\dots\dots \text{ m}^2$. Số thích hợp điền vào ụ trống là:

- A.** 1000265 **B.** 10265 **C.** 100265 **D.** 1265

Câu 144. Để số 2007a chia hết cho cả 2 và 3 thì a bằng:

- A.** 2 **B.** 8 **C.** 6 **D.** 4

Câu 145. Biểu thức nào sau đây có kết quả bằng 34×78 ?

- A.** $(30 \times 78) + (4 \times 78)$ **B.** $(30 + 78) + (4 + 78)$
C. $(30 \times 78) \times (4 \times 78)$ **D.** $(30 + 78) \times (4 \times 78)$

Câu 146. Dãy số: 2, 4, 6, 8, 10, ,100 có bao nhiêu chữ số:

- A.** 98 **B.** 97 **C.** 100 **D.** 99

Câu 148. Giá trị của biểu thức $\frac{5}{6} - \frac{1}{3} \times 2$ là:

A. $\frac{3}{6}$

B. $\frac{8}{3}$

C. $\frac{1}{6}$

D. $\frac{6}{6}$

Câu 149. Trung bình cộng của 4 số là 14, biết trung bình cộng của 3 số trong 4 số là 15. Tìm số còn lại

A. 15

B. 13

C. 11

D. 12

Câu 150. Trung bình số đo chiều cao của 3 bạn nam và 4 bạn nữ là 140cm. Chiều cao của bạn nam thứ tư là 124cm. Hỏi trung bình số đo chiều cao của 4 bạn nam và 4 bạn nữ đó là bao nhiêu?

A. 128cm

B. 140cm

C. 124cm

D. 138cm

Câu 151. Số lớn nhất trong các số 876459; 867459; 867549; 876549 là:

A. 876549

B. 867459

C. 867549

D. 876459

Câu 152. Phân số nào sau đây bằng phân số $\frac{3}{7}$?

A. $\frac{8}{14}$

B. $\frac{3}{5}$

C. $\frac{6}{16}$

D. $\frac{9}{21}$

Câu 153. Hằng ngày Lan thường tập chạy. Ngày thứ nhất Lan chạy được 500m, ngày thứ hai chạy được 620m, ngày thứ ba chạy được 500m. Như vậy trong ba ngày, trung bình mỗi ngày Lan chạy được là:

A. 500m

B. 560m

C. 520m

D. 540m

Câu 154. Cho 4 chữ số: 1, 2, 3, 4. Từ 4 chữ số đó viết được bao nhiêu số chẵn có 3 chữ số khác nhau

A. 15 số

B. 12 số

C. 24 số

D. 10 số

A. 33

B. 36

C. 163

D. 243

Câu 156. Biết: $A = 345\ 678 - a$; $B = 345\ 768 - a$ Hãy so sánh A và B:

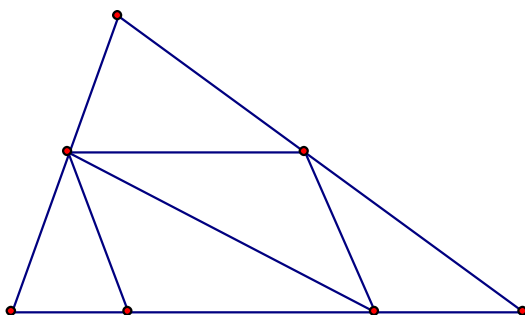
A. $A > B$

B. Không thể so sánh được

C. $B > A$

D. $A = B$

Câu 157.



Hình trên có số đoạn thẳng là:

A. 16 đoạn

B. 13 đoạn

C. 15 đoạn

D. 18 đoạn

Câu 158. Số còn thiếu trong dãy : 1 , 4 , 10 , 22 , là:

A. 46

B. 36

C. 44

D. 32

Câu 159. Bốn giờ bằng một phần mấy của một ngày?

A. $\frac{1}{12}$ ngày

B. $\frac{1}{4}$ ngày

C. $\frac{1}{6}$ ngày

D. $\frac{1}{3}$ ngày

Câu 161. Chu vi một hình chữ nhật gấp 10 lần chiều rộng. Hỏi chiều dài gấp mấy lần chiều rộng?


A. 3 lần

B. 4 lần

C. 2 lần

D. 5 lần

Câu 162.



Biết cạnh của mỗi ô vuông trong hình trên đều dài 1cm. Tổng diện tích của tất cả các hình vuông có trong hình trên là:

A. 24 cm²

B. 4 cm²

C. 8 cm²

D. 16 cm²

Câu 163. Điền số còn thiếu vào dãy số sau sao cho hợp lí: 1, 3, 4, 7, ,18

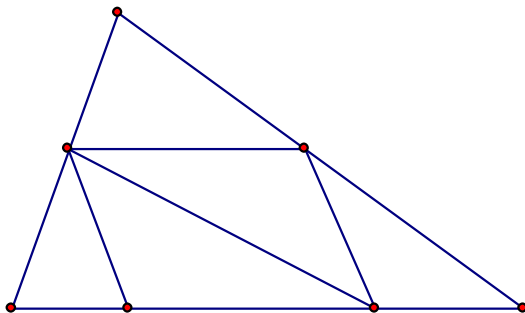
A. 11

B. 9

C. 14

D. 15

Câu 164.



Hình trên có số hình tam giác và tứ giác là:

A. 6 tam giác, 5 tứ giác. B. 7 tam giác, 5 tứ giác.

C. 7 tam giác, 7 tứ giác. D. 7 tam giác, 6 tứ giác.

Câu 165. Kết quả của phép tính $1 - \frac{1}{4}$ là:

A. $\frac{5}{4}$

B. $\frac{2}{4}$

C. $\frac{3}{4}$

D. $\frac{4}{4}$

Câu 166. Rút gọn phân số $\frac{12}{18}$, ta được phân số nào sau đây:

A. $\frac{3}{6}$

B. $\frac{4}{6}$

C. $\frac{4}{9}$

D. $\frac{2}{3}$

Câu 167. Số bé nhất trong các số 145372; 145732; 145723; 145327 là:

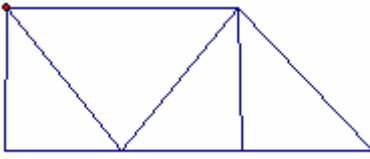
A. 145723

B. 145327

C. 145372

D. 145732

Câu 168. Hình dưới đây có bao nhiêu hình tam giác, bao nhiêu hình tứ giác?



A. 5 hình tam giác, 4 hình tứ giác

B. 4 hình tam giác, 4 hình tứ giác

C. 5 hình tam giác, 5 hình tứ giác

D. 4 hình tam giác, 5 hình tứ giác

Câu 169. Cho dãy số 4836; 5236; 5636;...; 6436 Số thích hợp để viết vào chỗ chấm là:

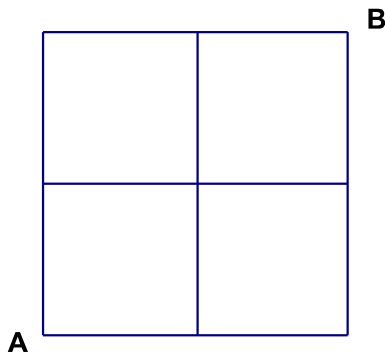
A. 6236

B. 5836

C. 5736

D. 6036

Câu 170.



Biết cạnh của mỗi ô vuông trong hình vẽ trên đều dài 1cm. Em hãy tìm xem có bao nhiêu đường gấp khúc đi từ A tới B dài 6 cm.

A. 5 đường

B. 2 đường

C. 3 đường

D. 4 đường

A. 305

B. 350

C. 3050

D. 35

Câu 173. Cho $\frac{4}{13} + \frac{2}{13} + \frac{2}{13} = \dots \times \frac{1}{13}$ Số thích hợp để viết vào chỗ chấm là:

A. 16

B. 7

C. 11

D. 8

Câu 174. Hiệu của 5 và $\frac{1}{4}$ là:

A. $\frac{19}{4}$

B. $\frac{4}{4}$

C. $\frac{5}{4}$

D. $\frac{21}{4}$

Câu 176. Trong các phân số $\frac{1}{2}; \frac{5}{6}; \frac{11}{2}; \frac{4}{5}$ phân số gần bằng $\frac{2}{3}$ nhất là:

A. $\frac{11}{12}$

B. $\frac{5}{6}$

C. $\frac{1}{2}$

D. $\frac{4}{5}$

Câu 177. Số thích hợp để viết vào chỗ chấm của 9 tấn 6 yến = ...là:

A. 9060

B. 9006

C. 960

D. 96

Câu 178. Số thích hợp để viết vào chỗ chấm của $1\text{km}^2\ 265\text{m}^2 = \dots\dots\text{m}^2$ là:

A. 1265

B. 1000265

C. 10265

D. 100265