

## ĐẠO ĐỨC

### CHĂM LÀM VIỆC NHÀ ( Tiết 2 )

#### I. MỤC TIÊU:

- Biết : Trẻ em có bốn phận tham gia làm những việc nhà phù hợp với khả năng để giúp đỡ ông bà, cha mẹ.
- Tham gia một số việc nhà phù hợp với khả năng.
- Nêu được ý nghĩa của làm việc nhà . Tự giác tham gia làm việc nhà phù hợp với khả năng.

#### II. CHUẨN BỊ:

- Thầy : SGK, tranh, phiếu thảo luận.
- HS : Vật dụng: chổi, chén, khăn lau bàn.....

#### III. CÁC HOẠT ĐỘNG DẠY - HỌC:

<b>T.gian</b>	<b>Nội dung</b>	<b>Hoạt động của Cô</b>	<b>Hoạt động của Trò</b>
1'	<b>1. Khởi động</b> (1')	- Chăm làm việc nhà.	- Hát
3'	<b>2. Bài cũ</b> (3')	- Yêu cầu HS trả lời câu hỏi : H: Ở nhà em tham gia làm những việc gì? Kết quả các công việc đó? - GV tổ chức trò chơi Đ, S - Làm việc nhà là trách nhiệm của người lớn.	- HS nêu  - Cả lớp cùng làm việc.
10'	<b>2. Bài mới</b> *Giới thiệu: ❖ Hoạt động 1: <b>Tự liên hệ.</b>	- Trẻ em có bốn phận làm những việc nhà phù hợp với khả năng - Chỉ làm việc nhà khi bố mẹ nhắc nhở - Làm tốt việc nhà khi có mặt, cũng như khi vắng mặt người lớn - GV nhận xét. - Các nhóm hãy thảo luận sau đó đóng vai, xử lí tình huống ghi trong phiếu. * Tình huống 1: Lan đang phải giúp mẹ trông em thì các bạn đến rủ đi	- Các nhóm HS thảo luận, Chuẩn bị đóng vai để xử lý tình huống. - Lan không nên đi chơi mà ở nhà trông giúp mẹ,

<p>10'</p>	<p>❖ Hoạt động 2: <b>Điều này đúng hay sai</b></p>	<p>chơi. Lan sẽ làm gì?</p> <p>* Tình huống 2: Mẹ đi làm muộn chưa về. Bé Lan sắp đi học mà chưa ai nấu cơm cả. Nam phải làm gì bây giờ?</p> <p>* Tình huống 3: Ăn cơm xong, mẹ bảo Hoa đi rửa bát. Nhưng trên Tivi đang chiếu phim hay. Bạn hãy giúp Hoa đi.</p> <p>* Tình huống 4: Các bạn đã hẹn với Sơn sang chơi nhà vào sáng nay. Nhưng hôm nay bố mẹ đi vắng cả, bà Sơn đang ốm, Sơn được mẹ giao cho chăm sóc bà. Sơn phải làm gì bây giờ?</p> <p>- Tổng kết lại các ý kiến của các nhóm</p> <p>- <i>GV kết luận:</i> Khi được giao làm bất cứ công việc nhà nào, em cần phải hoàn thành công việc đó rồi mới làm những công việc khác.</p> <p>* GV phổ biến cách chơi.</p> <p>- Các ý kiến như sau:</p> <p>a. Làm việc nhà là trách nhiệm của người lớn trong gia đình.</p> <p>b. Trẻ em không phải làm việc nhà.</p> <p>c. Cần làm tốt việc nhà khi có mặt</p>	<p>hẹn các bạn dịp khác đi chơi cùng</p> <p>- Nam có thể giúp mẹ đặt trước nồi cơm, nhặt rau giúp mẹ để khi mẹ về, mẹ có thể nhanh chóng nấu xong cơm, kịp cho bé Lan đi học.</p> <p>- Bạn Hoa nên rửa bát xong đã rồi mới vào xem phim tiếp.</p> <p>- Sơn có thể gọi điện đến cho các bạn, xin lỗi các bạn và hẹn dịp khác. Vì bà của Sơn ốm, rất cần Sơn chăm sóc và yên tĩnh để nghỉ ngơi.</p> <p>- Đại diện các nhóm lên đóng vai và trình bày kết quả thảo luận.</p> <p>- Trao đổi, nhận xét, bổ sung giữa các nhóm.</p>
------------	--	--	---

<p><b>10'</b></p>	<p>❖ Hoạt động 3: <b>Thảo luận cả lớp</b></p>	<p>cũng như khi vắng mặt người lớn.</p> <p>d. Tự giác làm những việc nhà phù hợp với khả năng là yêu thương cha mẹ.</p> <p>e. Trẻ em có bốn phận làm những việc nhà phù hợp với khả năng của mình.</p> <p>-*GV nêu các câu hỏi để HS tự nhìn nhận, đánh giá sự tham gia làm việc nhà của bản thân</p> <p>1. Ở nhà em đã tham gia làm những công việc gì? Kết quả của những công việc đó ra sao?</p> <p>2. Những công việc đó do bố mẹ em phân công hay em tự giác làm?</p> <p>3. Trước những công việc em đã làm, bố mẹ em tỏ thái độ ntn?</p> <p>4. Em có mong ước được tham gia vào làm những công việc nhà nào? Vì sao?</p> <p>- GV khen những HS đã chăm chỉ làm việc nhà.</p>	<p>- HS nghe và thực hiện: Giơ bảng đúng (Đ), sai (S).</p> <p>- HS suy nghĩ và trao đổi với bạn bên cạnh.</p> <p>- Đại diện 1 số HS trình bày trước lớp.</p> <p>- Ở nhà em đã tham gia làm những công việc như: Quét nhà, lau nhà, rửa ấm chén . . . Sau khi quét nhà, em thấy nhà cửa sạch sẽ hơn; sau khi lau nhà em thấy nhà cửa thoáng mát.</p> <p>- Những công việc đó do bố mẹ em phân công em làm</p> <p>- Trước những công việc em đã làm, bố mẹ em rất hài lòng. Bố mẹ khen em.</p> <p>- . Em còn mong ước được tham gia vào làm những công việc nhà khác như: Gấp quần áo, trông em ... giúp bố mẹ. Vì theo em nghĩ, đó là</p>
-------------------	---	--	--

3'	<p><b>Củng cố :</b></p> <p><b>5. <u>Dặn</u></b> <b>đò:(1')</b></p>	<p>- Góp ý cho các em những công việc nhà còn chưa phù hợp hoặc quá khả năng của các em.</p> <p>- GV <i>kết luận</i>: Hãy tìm những việc nhà hợp với khả năng và bày tỏ nguyện vọng muốn được tham gia của mình đối với cha mẹ.</p> <p>- Tổ chức thi đua “ Quét nhà ”, yêu cầu 2 đội mỗi đội 1 em lên thực hiện, lớp nhận xét.</p> <p>- Nhận xét tiết học.</p> <p>- Chuẩn bị: Chăm chỉ học tập.</p>	<p>những công việc vừa với sức và khả năng của mình.</p> <p>- HS thực hiện.</p>
----	--	---	---

Thứ năm ngày 3 tháng 11 năm 2017

**Tiết 1**

**Toán**

**KIỂM TRA**

**I.Mục tiêu :**

1.1.Kiến thức :HS làm 1 số bài tập về các phép tính cộng trừ không nhớ và có nhớ

Điền số, giải toán và hình học

1.2.Kĩ năng : rèn cho HS kĩ năng tính toán

1.3.Thái độ : HS có ý thức làm bài kiểm tra

**II. Chuẩn bị:**

2.1 Cá nhân : Tự hoàn thành bài kiểm tra

2.2 Nhóm : Giấy kiểm tra + bút

**III.Các hoạt động dạy-học :**

**GV ra đề cho HS làm bài**

**Câu 1:Tính**

$$7 + 8 = \dots\dots$$

$$8 + 3 + 7 = \dots\dots$$

$$7 + 6 = \dots\dots$$

$$9 + 5 + 4 = \dots\dots$$

**Câu 2:** Đặt tính rồi tính

$74 + 8$

$25 + 45$

$55 + 7$

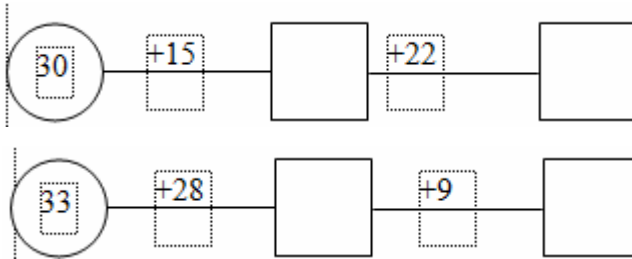
$10 + 38$

**Câu 3:** Viết

a. Số liền trước của 68 là : .....

b. Số liền sau của 70 là : .....

**Câu 4 :** Điền số (1 điểm) :



**Câu 5:** Điền dấu thích hợp vào chỗ trống (<, > hoặc =)

$15 + 32 \dots 35$


$20 + 69 \dots 25$

$42 + 12 \dots 27 + 27$

$71 + 15 \dots 96$

**Câu 6 :**

Khoanh vào chữ cái đặt trước câu trả lời đúng : Hình vẽ sau đây có bao nhiêu hình chữ nhật ?



A. Có 2 hình chữ nhật.

B. Có 3 hình chữ nhật.

C. Có 4 hình chữ nhật.

**Câu 7 :**

Thùng thứ nhất đựng 45 lít mật ong, thùng thứ hai đựng ít hơn thùng thứ nhất là 9 lít mật ong. Hỏi thùng thứ hai đựng mấy lít mật ong?

**Câu 8:**

Bao ngô nặng 55 kg bao gạo nặng hơn bao ngô 9 kg. Hỏi bao gạo nặng bao nhiêu ki-lô-gam?

*Đáp án đề kiểm tra*

**Câu 1/ Tính**

$7 + 8 = 15$

$8 + 3 + 7 = 18$

$7 + 6 = 13$

$9 + 5 + 4 = 18$

**Câu 2 / Đặt tính rồi tính**

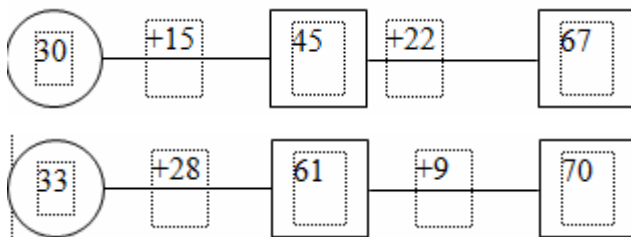
74	25	55	10
+ 8	+45	+ 7	+ 38
82	70	62	48

**Câu 3/ Viết số**

a.67

b.71

**Câu 4/ Điền số**



**Câu 5/ Điền dấu thích hợp vào chỗ trống :**

$15 + 32 > 32$

$71 + 15 < 96$

$42 + 12 = 27 + 27$

$20 + 69 > 25 + 54$

**Câu 6/ Khoanh vào chữ cái đặt trước câu trả lời đúng**

Ý đúng là: B.3 hình chữ nhật

**Câu 7/**

**Bài giải**

Số lít mật ong thùng thứ 2 đựng là :

$45 - 9 = 36 \text{ (lít)}$

Đáp số : 36 lít mật ong.

**Câu 8/**

**Bài giải**

Bao gạo nặng là:

$$55 + 9 = 64 \text{ (kg)}$$

Đáp số: 64 kg gạo.

Củng cố dặn dò : Thu bài về chấm và nhận xét  
Chuẩn bị bài Tìm số hạng chưa biết trong 1 tổng