

b. Viết phép tính thích hợp vào ô trống

Có: 8 quả cam

Cho: 2 quả cam

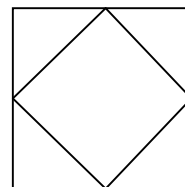
Còn:.....quả cam?

--	--	--	--	--

Bài 10: Hình bên có: (1 điểm)

a. Có hình vuông

b. Có hình tam giác



ĐỀ 4)

Bài kiểm tra cuối học kì I

Câu 1: Tính: (1 đ)

$1 + 1 =$ $2 + 3 =$ $5 + 4 =$ $7 + 2 =$

Câu 2: Số : (2 đ)

$3 + \dots = 7$ $8 - \dots = 5$

$4 + \dots = 9$ $6 - \dots = 2$

$2 + \dots = 5$ $\dots - 4 = 6$

Câu 3: Điền dấu thích hợp vào ô vuông: (<, >, =) (2 đ)

$4 + 1 \square 5$ $2 + 2 \square 3$

$5 \square 1 + 2$ $3 - 1 \square 1$

Câu 4: Trong các số : 6, 2, 4, 5, 8, 7 (1 đ)

a) Số nào bé nhất :

b) Số nào lớn nhất :

Câu 5: Hình bên có mấy hình vuông? 1 đ



A. 5 B. 4 C. 3

Câu 6: Thực hiện các phép tính : $4 + 2 - 3 = ?$ (1 đ)

A. 2

B. 3

C. 5

Câu 7: Thực hiện phép tính thích hợp (2 đ)

Có: 4 con bướm

Thêm: 3 con bướm

Có tất cả : con bướm

--	--	--	--	--

ĐỀ 5)

Thứ ngày tháng năm 2010

Kiểm tra cuối học kì I

Môn: Toán - lớp 1

Thời gian làm bài: 40 phút

Họ và tên:Lớp:

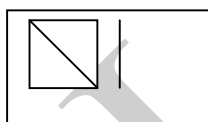
	Điểm	Lời phê của thầy cô giáo
<p><i>Giám thị:</i></p> <p><i>Giám khảo:</i></p>		

Bài 1. (1 điểm)

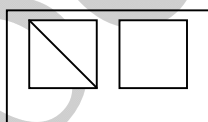
a) Điền số vào ô trống :

1; 2; ;;; 6;; 8; 9; 10

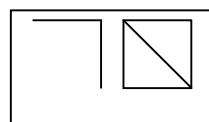
b) Điền số vào chỗ chấm (...) theo mẫu:



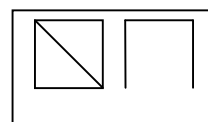
..6..



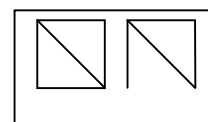
□□



□□.



□□.



□□

Bài 2. (1 điểm)

>
<
=

3 + 5 □ 9

2 + 6 □ 7

7 + 2 □ 5 + 4

9 - 3 □ 4 + 3

Bài 3. (3 điểm) Tính:

b) Điền số và dấu thích hợp để được phép tính đúng

			=	8
--	--	--	---	----------

			=	6
--	--	--	---	----------





Đề kiểm tra học kì I Lớp Một
Năm học : 2008 – 2009

Môn: **Toán**

Câu 1/ Viết (3 đ)

a/ Viết các số từ 5 đến 10:

b/ Viết số vào chỗ chấm :



c/ Đọc các số:

8:

10:

9:

1:

Câu 2 / Tính : (2 đ)

$$\begin{array}{r} a/ \quad 8 \\ + \quad 2 \\ \hline \end{array}$$

$$\begin{array}{r} + \quad 0 \\ + \quad 9 \\ \hline \end{array}$$

$$\begin{array}{r} - \quad 10 \\ - \quad 6 \\ \hline \end{array}$$

$$\begin{array}{r} - \quad 6 \\ - \quad 3 \\ \hline \end{array}$$

b/ $8 - 5 = \dots$

$7 + 3 = \dots$

$1 + 4 + 5 = \dots$

$2 - 1 + 9 = \dots$

Câu 3 / Viết các số 9 , 6 , 3 , 1 , 8 : (1 đ)

a/ Theo thứ tự từ bé đến lớn :,,,,

b/ Theo thứ tự từ lớn đến bé :,,,,

Câu 4 / Điền số thích hợp vào chỗ chấm : (1 đ)

$\dots + 1 = 6$ $5 + \dots = 9$ $\dots - 5 = 5$ $10 - \dots = 10$


Câu 5 / Điền dấu $>$ $<$ $=$ vào ô trống : (1 đ)

$4 + 3$ 8 $9 - 2$ $10 - 7$

$10 - 1$ $8 + 0$ 5 $10 - 5$

Câu 6 / (1 đ)

Viết phép tính thích hợp :



ĐỀ 6)

Phòng GD-ĐT thị xã Buôn Hồ

Thứ ... ngày ... tháng ... năm 2010

Trường Tiểu học Võ Thị Sáu

KIỂM TRA HỌC KỲ I

Họ và tên:

MÔN: TOÁN

.....

Lớp 1A...

THỜI GIAN: 40 phút

<u>Điểm</u>	<u>Lời phê của giáo viên</u>

1. Tính: (2 điểm)

a/

$\begin{array}{r} + 4 \\ \underline{6} \\ \dots \end{array}$	$\begin{array}{r} - 9 \\ \underline{3} \\ \dots \end{array}$	$\begin{array}{r} + 5 \\ \underline{3} \\ \dots \end{array}$	$\begin{array}{r} + 2 \\ \underline{7} \\ \dots \end{array}$	$\begin{array}{r} - 10 \\ \underline{8} \\ \dots \end{array}$	$\begin{array}{r} + 1 \\ \underline{8} \\ \dots \end{array}$	$\begin{array}{r} + 10 \\ \underline{0} \\ \dots \end{array}$
--	--	--	--	---	--	---

b/

$10 - 4 + 3 =$

$10 - 5 + 2 =$

$10 + 0 - 4 =$

.....

.....

.....

$6 + 2 - 3 =$

$7 - 4 + 6 =$

$8 - 3 + 3 =$

.....

.....

.....

2. Số? (2 điểm):

$9 = \dots + 4$

$3 + \dots > 9 - 1$

$3 + 6 < 7 + \dots$

$10 = 7 + \dots$

$10 - 4 < 7 - \dots$

$\dots - 5 > 3 + 1$

$9 = 10 - \dots$

$\dots - 8 = 9 - 1$

$10 - \dots = 8 - 2$

3. Viết các số: 8; 1; 5; 4; 7; 2. (2 điểm)

a/ Theo thứ tự từ bé

đến lớn:

b/ Theo thứ tự từ lớn

đến bé:

4. Viết phép tính thích hợp (2 điểm)

Lan có: 6 lá cờ }
 Hồng có: 4 lá cờ } ? lá

Có: 9 quả cam

Cho: 4 quả cam

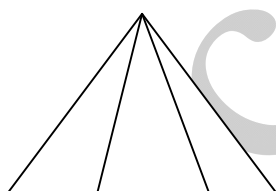
Còn: ? quả cam

--	--	--	--	--

--	--	--	--	--

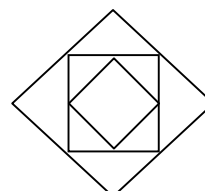
5. Trong hình dưới đây (2 điểm)

a/



Có hình tam giác

b/



Có hình vuông

ĐỀ 7)

Lớp:

Họ và tên:

.....

Đề kiểm tra môn: Toán học kỳ I

Bài 1 : Điền số.

$5 + \dots = 9$

$\dots - 6 = 3$

$5 + \dots = 8$

$\dots + 2 = 7$

$6 + 3 = \dots$

$\dots + 7 = 8$

$9 - \dots = 5$

$\dots + 5 = 7$

$1 + \dots = 6$

$9 - 5 = \dots$