

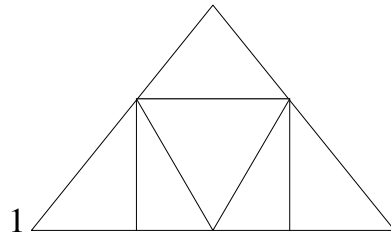
Câu 5: An hơn Tùng 3 tuổi. Biết rằng An 10 tuổi. Hỏi Tùng bao nhiêu tuổi?

Giải:

.....
.....
.....

Câu 6:

- a, Có bao nhiêu hình chữ nhật ?
Có tất cả số hình chữ nhật là
- b, Có bao nhiêu hình tam giác ?
Có tất cả số hình tam giác là



ĐỀ SỐ 11

Câu 1: (2 điểm) Đặt tính rồi tính.

$24 + 35$	$52 + 36$	$77 - 43$	$68 - 35$

Câu 2: (1 điểm)

<
>
=

?


$35 + 3 \dots\dots\dots 37$

$54 + 4 \dots\dots\dots 45 + 3$


$24 + 5 \dots\dots\dots 29$

$37 - 3 \dots\dots\dots 32 + 3$

Câu 3: (1 điểm) Đồng hồ chỉ mấy giờ?



.....



.....

Câu 4: (1 điểm) Viết các số 38, 40, 25, 71 theo thứ tự:

a) Từ lớn đến bé:.....

b) Từ bé đến lớn:.....

Câu 5: (1,5 điểm)

Lớp 1A có 24 học sinh. Lớp 1B có 21 học sinh. Hỏi cả hai lớp có bao nhiêu học sinh?

.....
.....
.....
.....

Câu 6: (2 điểm) Giải bài toán theo tóm tắt sau:

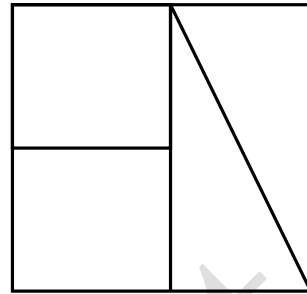
Có : 37 hình tròn

Tô màu: 24 hình tròn

Không tô màu:.....hình tròn?

Câu 7: (1,5 điểm) Điền số thích hợp vào chỗ chấm.

Hình dưới đây có: hình chữ nhật
:.....hình tam giác



ĐỀ SỐ 12

Phần 1: Khoanh tròn vào câu trả lời đúng nhất .(3 đ)

1) Một tuần lễ em đi học mấy ngày ?

- a. 7 ngày b.6 ngày c. 5 ngày d.4 ngày

2) 65 gồm:

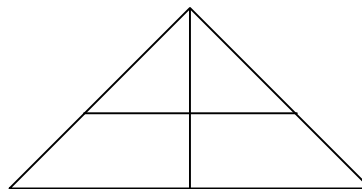
- a. 60 chục và 5 đơn vị c. 5 chục và 6 đơn vị
b. 6 chục và 5 đơn vị d. 6 và 5

3) 55 đọc là :


- A. năm mươi năm B. năm mươi lăm C. năm năm D. năm lăm

4) Hình bên gồm :

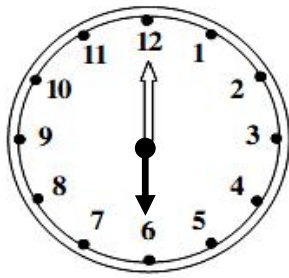
- a. 4 hình tam giác
b. 5 hình tam giác
c. 6 hình tam giác
d. 7 hình tam giác




5) Nối đồng hồ với số giờ đúng:




8 giờ



1 giờ



6 giờ



11 giờ

Phần 2: (7 đ)

1) Tính (1 đ)

$$\begin{array}{r} + 56 \\ \underline{43} \\ \dots \end{array}$$

$$\begin{array}{r} - 97 \\ \underline{25} \\ \dots \end{array}$$

$$\begin{array}{r} + 4 \\ \underline{31} \\ \dots \end{array}$$

$$\begin{array}{r} - 68 \\ \underline{4} \\ \dots \end{array}$$

2) Viết số thích hợp vào ô trống (1 đ):

$$71 \xrightarrow{+21} \square$$

$$34 \xrightarrow{-22} \square$$

$$94 \xrightarrow{-} \square \xrightarrow{+15} \square$$

3) Điền dấu $<$, $>$, $=$ vào chỗ chấm (2 đ) :

a. $27\text{cm} - 21\text{cm} \dots 8\text{cm}$

c. $34\text{cm} + 52\text{cm} \dots 52\text{cm} + 34\text{cm}$

b. $41\text{cm} + 8\text{cm} \dots 45\text{cm}$

d. $13\text{cm} + 43\text{cm} \dots 42\text{cm} + 13\text{cm}$

4) Viết số (1 đ)

Số liền trước	Số đã biết	Số liền sau
	80	
	49	
	99	
	61	

5) Lớp 1A có 36 bạn trong đó có 10 bạn nữ. Hỏi có bao nhiêu bạn nam ? (2 đ)

Bài giải

.....
.....
.....

ĐỀ SỐ 12

Phần 1: Khoanh tròn vào câu trả lời đúng nhất .(3 đ)

1) Một tuần lễ **em nghỉ học** mấy ngày ?

- a. 4 ngày b.3 ngày c. 2 ngày d.1 ngày

2) 75 gồm:

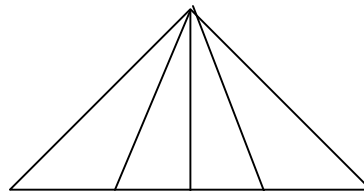
- a. 70 chục và 5 đơn vị c. 7 và 5
b. 5 chục và 7 đơn vị d. 7 chục và 5 đơn vị

3) 25 đọc là :

- a. hai mươi năm c. hai mươi lăm
b. hai năm d. hai lăm





4) Hình bên gồm :

- a. 4 hình tam giác
b. 5 hình tam giác



- c. 6 hình tam giác
- d. 7 hình tam giác
- e. 10 tam giác

5) Nối đồng hồ với số giờ đúng:



8 giờ

3 giờ

5 giờ

11 giờ

Phần 2: (7 đ)

1) Tính (1 đ)

$$\begin{array}{r} + 46 \\ \hline 43 \end{array}$$

$$\begin{array}{r} - 87 \\ \hline 35 \end{array}$$

$$\begin{array}{r} + 7 \\ \hline 32 \end{array}$$

$$\begin{array}{r} - 69 \\ \hline 5 \end{array}$$

2) Viết số thích hợp vào ô trống (1 đ):

$$63 \xrightarrow{+21} \square$$

$$56 \xrightarrow{-22} \square$$

$$84 \xrightarrow{-} \square \xrightarrow{+15} \square$$

3) Điền dấu $<$, $>$, $=$ vào chỗ chấm (2 đ) :

a. $47\text{cm} - 21\text{cm} \dots\dots 18\text{cm}$

c. $35\text{cm} + 50\text{cm} \dots\dots 50\text{cm} + 35\text{cm}$

b. $41\text{cm} + 8\text{cm} \dots\dots 42\text{cm}$

d. $17\text{cm} + 41\text{cm} \dots\dots 40\text{cm} + 17\text{cm}$

4) Viết số (1 đ)

Số liền trước	Số đã biết	Số liền sau
	90	
	59	
	99	
	51	

5) Lớp 1A có 34 bạn trong đó có 10 bạn nam. Hỏi có bao nhiêu bạn nữ ? (2 đ)

Bài giải

.....
.....
.....

ĐỀ SỐ 13

Bài 1: a) Khoanh vào số lớn nhất:

72 96 85 47

b) Khoanh tròn vào số bé nhất:

50 61 48 58

Bài 2: Khoanh vào chữ đặt trước kết quả trả lời đúng.

a) Số liền trước của số 70 là:

A. 71 B. 69 C. 60 D. 80

b) Số liền sau của số 99 là:

A. 98 B. 90 C. 89 D. 100

Bài 3: Đúng ghi đ, sai ghi s vào ô trống:

a) $77 - 7 - 0 = 77$

c) $65 - 33 < 33$

b) $90 + 5 > 94$

d) $63 = 36$

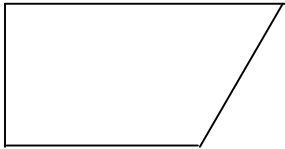
Bài 4: Đặt tính rồi tính:

$52 + 37$	$26 + 63$	$76 + 20$	$68 - 31$	$75 - 45$	$87 - 50$
.....
.....
.....

Bài 5: Một cuốn truyện có 37 trang, Lan đã đọc được 12 trang. Hỏi còn bao nhiêu trang Lan chưa đọc?

Bài giải:

Bài 6: Kẻ thêm một đoạn thẳng để có 2 hình tam giác:



ĐỀ SỐ 14

BÀI 1:

a. Viết các số sau :

- Sáu mươi chín.....
- Tám mươi ba

b. Viết số thích hợp vào ô trống

Số liền trước	Số đã biết	Số liền sau
	60	
	98	

BÀI 2. a. Viết đúng các số sau : 34 ; 29 ; 81 ; 63

- Theo thứ tự từ bé đến lớn
- Theo thứ tự từ lớn đến bé

b. Điền dấu vào ô trống <, >, =

- $41 + 32 \square 70 + 3$

$25 - 5 \square 45 - 23$

BÀI 3 : Đặt tính rồi tính

$39 - 23$

$56 - 14$

$47 + 52$

$42 + 34$

.....

.....

.....

.....

.....

.....

.....

.....

.....

.....

.....

.....

BÀI 4 : Tính :

a. $12 + 5 - 3 = \dots\dots\dots$

$29 - 4 + 5 = \dots\dots\dots$

b. $38\text{cm} - 6\text{cm} + 20\text{cm} = \dots\dots\dots$

$40\text{cm} + 7\text{cm} - 47\text{cm} = \dots\dots\dots$

BÀI 5 :

a/ Nhà em có nuôi 24 con gà và 15 con vịt . Hỏi nhà em có tất cả bao nhiêu con gà và con vịt.

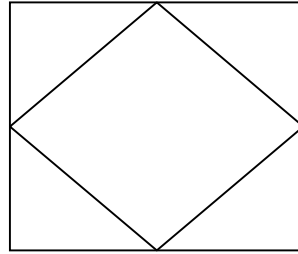
.....
.....
.....
.....

b/ Lan có sợi dây dài 76cm, Lan cắt đi 40cm . Hỏi sợi dây còn lại dài bao nhiêu xăngtimet?

.....
.....
.....

BÀI 6. Viết số thích hợp vào chỗ chấm hình vẽ bên có ?

-hình tam giác ?
-hình vuông ?



ĐỀ SỐ 15

Câu 1: Viết số thích hợp vào ô trống

a,

40			43					48	
----	--	--	----	--	--	--	--	----	--

b,

60				64			67		
----	--	--	--	----	--	--	----	--	--

Câu 2: Tính

$22\text{ cm} + 32\text{ cm} = \dots\dots\dots$ $80\text{ cm} - 50\text{ cm} = \dots\dots\dots$
 $40\text{ cm} + 50\text{ cm} = \dots\dots\dots$ $62\text{ cm} - 12\text{ cm} = \dots\dots\dots$

Câu 3: Đặt tính rồi tính:

$35 + 23$	$89 - 41$	$37 + 21$	$82 + 6$
.....
.....
.....


Câu 4: Có 8 con chim đậu trên cây, sau đó bay đi 2 con chim. Hỏi trên cây còn lại bao nhiêu con chim?

.....
.....

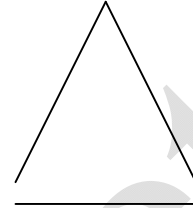
Câu 5: **Viết tên mỗi hình vào chỗ chấm:**



Hình



Hình



Hình

ĐỀ SỐ 16

Phần I: a. Khoanh tròn vào chữ đặt trước câu trả lời đúng ở các bài tập sau:

1. Số bốn mươi hai được viết là:

A. 402 ; B. 42 ; C. 24 ; D. 204;

2. Trong các số: 38, 19, 71, 62. Số lớn nhất là:

A. 38 ; B. 19 ; C. 71 ; D. 62;

a. Nói theo mẫu:

Thứ hai

Ngày 14

Thứ năm

Thứ bảy

Ngày 15

Thứ ba

Thứ sáu

Ngày 16

Ngày 17

Ngày 18

Ngày 19

Thứ tư

c.

>
<
=

 100 10 95 59
15 41 34 60
20 20 22 11

Phần II: 1. Đặt tính rồi tính:

63 + 25 ; 55 - 33

.....
.....
.....

2. Tính: 4 + 14 + 1 = ; 85 - 2 - 2 =

2. Đoạn thẳng AB dài 35cm, đoạn thẳng CD dài hơn đoạn thẳng AB 4cm. Hỏi đoạn thẳng CD dài bao nhiêu cm?

.....
.....
.....
.....

Chưa in

ĐỀ SỐ 17

Bài 1. Điền số, viết số:

a. Điền số ?

70			73		75		77		79	
----	--	--	----	--	----	--	----	--	----	--

b. Viết(theo mẫu):

53: Năm mươi ba 30 :..... 60:.....

Tám mươi bốn: 84 Bảy mươi ba:..... Hai mươi một:.....

c. Viết các số 27 ; 63; 55; 20

- Theo thứ tự từ bé đến lớn :.....

- Theo thứ tự từ lớn đến bé :.....

Bài 2. Tính :

a/ $15 + 3 - 4 = \dots\dots$ $50 \text{ cm} + 30 \text{ cm} = \dots\dots$

$80 - 40 + 20 = \dots\dots$ $13 \text{ cm} + 5 \text{ cm} - 7 \text{ cm} = \dots\dots$

b/

$$\begin{array}{r} 62 \\ + 15 \\ \hline \dots\dots \end{array} \quad \begin{array}{r} 75 \\ - 33 \\ \hline \dots\dots \end{array} \quad \begin{array}{r} 42 \\ + 20 \\ \hline \dots\dots \end{array} \quad \begin{array}{r} 86 \\ - 36 \\ \hline \dots\dots \end{array}$$

Bài 3 :

$\begin{array}{|c|} \hline > \\ < \\ = \\ \hline \end{array} ?$

$75 \square 23 + 34$ $20 + 35 \square 56$

$86 - 25 \square 51$ $67 - 7 \square 90 - 30$

Bài 4: Điền số ?

$\square + 10 > 20$

$35 - \square = 35$

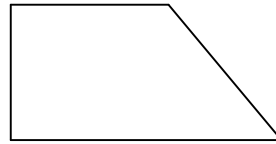
$\square + 30 < 50$

$20 + \square > 20$

Bài 5 : Nhà An nuôi được 38 con gà và con thỏ, trong đó có 12 con thỏ. Hỏi nhà An nuôi được bao nhiêu con gà?

Bài giải:

Bài 6: Vẽ thêm một đoạn thẳng vào hình bên để được một hình vuông và một hình tam giác.



ĐỀ SỐ 18

Câu 1: a. Khoanh tròn vào chữ số lớn nhất:

12 , 25 , 53 , 67 , 34 .

b. Khoanh tròn vào chữ cái bé nhất

85 , 56 , 24, 12 , 25.

Câu 2: Tính nhẩm:

$$25 + 0 = \dots$$

$$45 - 12 = \dots$$

$$12 + 23 = \dots$$

$$89 - 34 = \dots$$

Câu 3: Đặt tính rồi tính:

$$45 + 21$$

$$58 - 35$$

$$64 - 42.$$

Câu 4:

a. Đo độ dài của đoạn thẳng MN

M

N

b. Vẽ đoạn thẳng theo những kích thước sau: 8cm, 12 cm

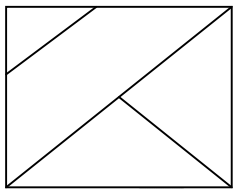
Câu 5: Bạn Linh có 15 quyển vở, Bạn Vĩ có ít hơn bạn Linh 3 quyển vở. Hỏi bạn Vĩ có bao nhiêu quyển vở?

.....
.....
.....

Câu 6: Một cửa hàng bán vải. buổi sáng cửa hàng bán được 45 m vải, buổi chiều cửa hàng bán được 12 m vải nữa. Hỏi cả ngày cửa hàng bán bao nhiêu m vải?

.....
.....
.....

Câu 7: cho hình vẽ



- a. Trong hình có bao nhiêu hình vuông? Có.....Hình vuông
b. Trong hình có bao nhiêu hình tam giác? Có.....Hình tam giác

ĐỀ SỐ 19

Bài 1:

a / **Viết số :**

Ba mươi chín :

Sáu mươi hai :

Năm mươi lăm :

Bốn mươi tám :

Tám mươi tám :

Chín mươi bảy :

b/ Viết các số ; 25 , 58 , 72 , 36 , 90 , 54 theo thứ tự :

-Từ lớn đến bé :

-Từ bé đến lớn :

c /

Số liền trước	Số đã biết	Số liền sau
	40	
	75	
	99	

Bài 2

a / Tính nhẩm :

$15 + 4 - 8 = \dots\dots\dots$

$80 \text{ cm} - 50 \text{ cm} = \dots\dots\dots$

$18 - 6 + 3 = \dots\dots\dots$

$40 \text{ cm} + 20 \text{ cm} = \dots\dots\dots$

b / Đặt tính và tính :

$35 + 12$

$85 - 43$

$60 + 15$

$78 - 38$

.....

.....

.....

.....

.....

.....

.....

.....

.....

.....

.....

.....

.....

.....

.....

.....

Bài 3 : Điền dấu : < > = vào chỗ chấm

$19 - 4 \dots\dots\dots 25$

$30 + 40 \dots\dots\dots 60 + 20$

$40 + 15 \dots\dots\dots 58$

$42 + 5 \dots\dots\dots 58 - 8$

Bài 4 :

Đàn gà nhà em có 35 con gà mái và 12 con gà trống . Hỏi đàn gà nhà em có tất cả bao nhiêu con gà ? .

Bài giải :

.....

.....

.....