

Tóm tắt

Bài giải

Bài 42 : Nam có ít hơn Bảo 8 viên bi . Hùng cho Nam thêm 3 viên bi . Hỏi Bảo còn nhiều hơn Nam bao nhiêu viên bi?

Tóm tắt

Bài giải

Bài 43 : Hùng cân nặng 22 kg . Hoàng cân nặng 24 kg . Hậu cân nặng 23 kg . Hỏi
a) Bạn nào cân nặng nhất ?
b) Hùng và Hoàng cân nặng bao nhiêu kg?
c) Cả ba bạn cân nặng bao nhiêu kg?

Tóm tắt

Bài giải

Bài 44: Có 1 cân đĩa , người ta đặt lên đĩa cân thứ nhất 7kg , đĩa thứ hai đặt túi đường và quả cân 3kg thì cân thăng bằng . Hỏi túi đường nặng bao nhiêu kg?

Bài 45 : Bao gạo và bao đường cân nặng 86 kg . Bao gạo cân nặng 42 kg . Hỏi bao nào nặng hơn và nặng hơn bao kia bao nhiêu kg?

Tóm tắt

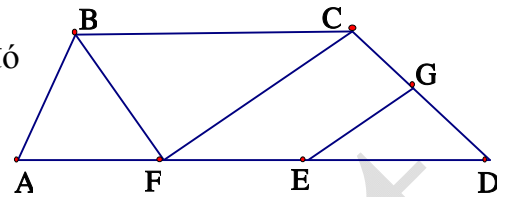

Bài giải

Bài 46 : Một thùng nước mắm có 36 lít . Sau khi rót ra bán thùng còn lại 12 lít . Hỏi số mắm đã bán được và số mắm còn lại trong thùng số mắm nào nhiều hơn và nhiều hơn bao nhiêu?

Tóm tắt

Bài giải

Bài 47 : Hình vẽ dưới đây có bao nhiêu tam giác , bao nhiêu tứ giác ? Kể tên các tam giác , tứ giác đó

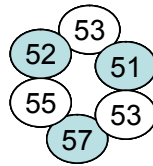


Bài 48 : Nối phép tính với các số thích hợp

32 + 19

92 - 38

28 + 32


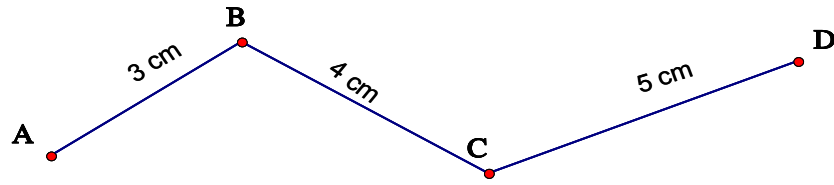


71 - 48


44 + 8

80 - 25


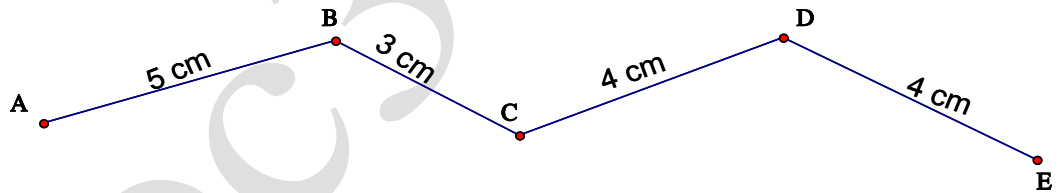
Bài 49 : Tính độ dài đường gấp khúc ABCD



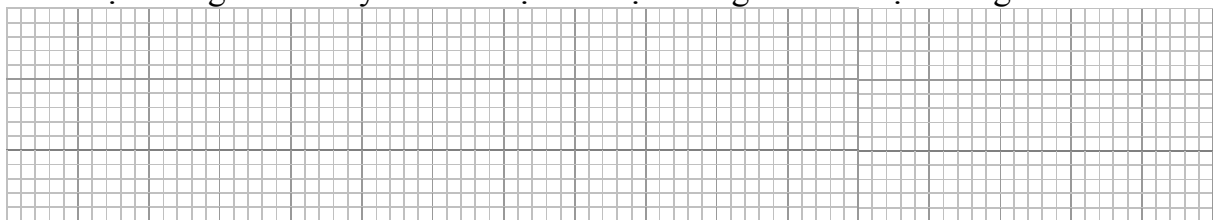
Bài 50: Độ dài đường gấp khúc ABCD có tổng độ dài của hai đoạn thẳng AB và BC bằng 36 cm , đoạn thẳng CD dài 25 cm . Tính độ dài đường gấp khúc ABCD?



Bài 51 : Con kiến vàng bò từ A đến C , con kiến đen bò từ C đến E . Hỏi con kiến nào bò được đoạn đường dài hơn?



Bài 52: Hai đường gấp khúc ABC và MNP có độ dài bằng nhau, đoạn thẳng AB dài hơn đoạn thẳng MN . Hãy so sánh độ dài đoạn thẳng BC và đoạn thẳng NP .



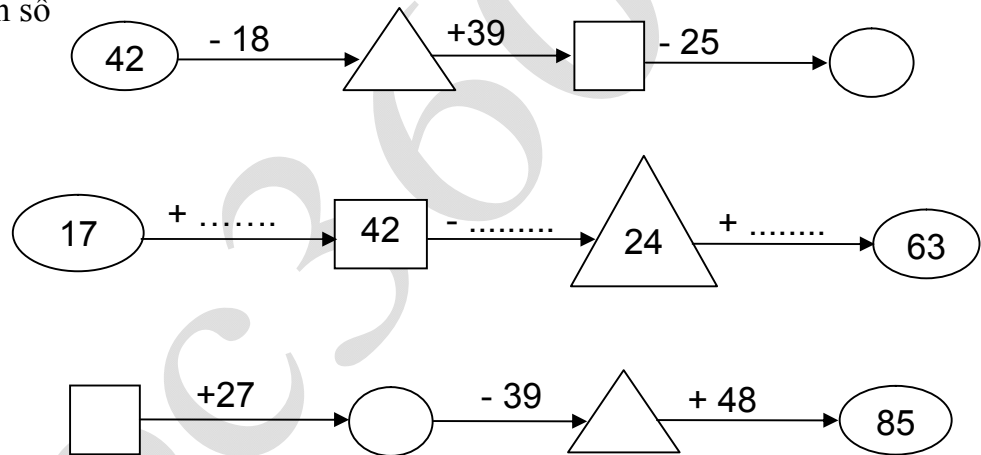
Bài 53 : Tam giác ABC có cạnh AB dài 14 cm , cạnh BC dài 18 cm, cạnh CA dài 22 cm . Tính chu vi tam giác ABC .

--	--	--	--	--	--	--	--	--	--	--	--	--	--	--	--	--	--	--	--	--	--	--	--	--	--	--	--	--	--	--	--	--	--	--	--	--	--	--	--	--	--	--	--	--	--	--	--	--	--	--	--	--	--	--	--	--	--	--	--	--	--	--	--	--	--	--	--	--	--	--	--	--	--	--	--	--	--	--	--	--	--	--	--	--	--	--	--	--	--	--	--	--	--	--	--	--	--	--	--

Bài 54: Tính chu vi tứ giác MNPQ có độ dài các cạnh lần lượt là 15 cm, 2 dm3cm, 20 cm, 3 dm?

--	--	--	--	--	--	--	--	--	--	--	--	--	--	--	--	--	--	--	--	--	--	--	--	--	--	--	--	--	--	--	--	--	--	--	--	--	--	--	--	--	--	--	--	--	--	--	--	--	--	--	--	--	--	--	--	--	--	--	--	--	--	--	--	--	--	--	--	--	--	--	--	--	--	--	--	--	--	--	--	--	--	--	--	--	--	--	--	--	--	--	--	--	--	--	--	--	--	--	--

Bài 55: Điền số



Bài 56 : Tính

$$15 + 67 - 11 =$$

$$98 - 69 + 7 =$$

$$82 - 46 + 12 =$$

$$59 + 17 - 28 =$$

Bài 57 : Đặt tính và tính

15 + 7 57 + 29 87 - 29 56 - 47 46 + 54 100 - 34

--	--	--	--

Bài 58 : Tìm x biết :

$x + 12 = 71$

$17 + x = 32$

$34 - x = 15$

$x - 34 = 15$

Bài 59 : Một cửa hàng ngày thứ nhất bán được 25 thùng sữa, ngày thứ nhất bán ít hơn ngày thứ hai 8 thùng sữa .

Hỏi ngày thứ hai của hàng đó bán được bao nhiêu thùng sữa?

Hỏi cả hai ngày cửa hàng bán được bao nhiêu thùng sữa ?

Bài 60 : Trong hình vẽ bên :

Cóđoạn thẳng

Đó là các đoạn thẳng

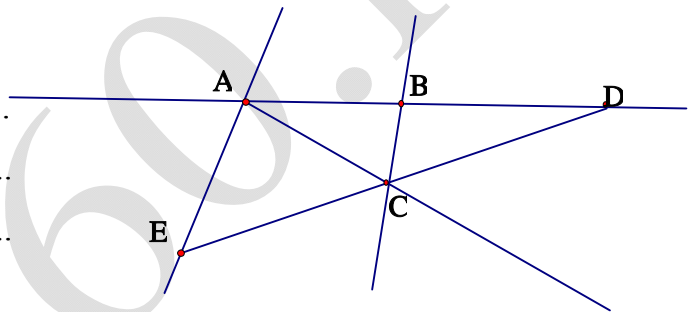
.....

Cóđường thẳng

Đó là các đường thẳng :

.....

Có ba điểm thẳng hàng là :



Bài 61 : Từ 4 chữ số : 0 ; 1; 2; 3 em hãy viết tất cả các số có hai chữ số khác nhau

Bài 62 : Cho số a có hai chữ số

- a) Nếu chữ số hàng chục bớt đi 2 thì số a giảm đi bao nhiêu đơn vị ?
- b) Nếu chữ số hàng chục tăng thêm 1 và chữ số hàng đơn vị giảm đi 2 thì số a tăng thêm bao nhiêu đơn vị ?

Bài 63 :

- a) Tìm những số lớn hơn 35 mà chữ số hàng chục của nó bé hơn 4
- b) Tìm những số có hai chữ số bé hơn 24 mà chữ số hàng đơn vị của nó lớn hơn 4

Bài 64 : Viết tất cả những số có hai chữ số mà tổng hai chữ số của nó bằng 12

Bài 65 : Viết tất cả những số có hai chữ số mà hiệu hai chữ số của nó 5

Bài 66 : Viết các số có hai chữ số biết tổng hai chữ số của nó bằng số lớn nhất có 1 chữ số và hiệu hai chữ số của nó bằng 3 .

Bài 67 : Hai số có hiệu bằng 14 , nếu thêm vào số trừ 3 đơn vị và giữ nguyên số bị trừ thì hiệu mới bằng bao nhiêu ?

Bài 68 : Tổng của hai số sẽ thay đổi như thế nào nếu mỗi số hạng cùng tăng thêm 25 đơn vị ?

Bài 69 : Tìm 1 số biết số lớn nhất có hai chữ số trừ đi số đó thì được kết quả là 35 ?

Bài 70 : Số 45 thay đổi như thế nào nếu :

- a) Xoá bỏ chữ số 5
- b) Thay đổi vị trí chữ số 4 và chữ số 5
- c) Tăng chữ số hàng chục thêm 2

Bài 71 : Để đánh các trang của cuốn sách dày 15 trang cần dùng bao nhiêu chữ số để đánh

Bài 72 : Nga dùng 20 chữ số để viết các số liên nhau thành 1 dãy số $0;1;2;3;...;a$.
Hỏi a là số nào ?

Bài 73 : Viết thêm 4 số vào dãy sau :

- a) 3 ; 6 ; 9 ;
- b) 39 ; 35 ; 31 ;

Bài 74 : Tìm x

- a) $14 - x = 14 - 2$
- b) $52 + 4 > x + 52$
- c) $46 < x - 45 < 49$
- d) $x - 8 < 3$

Bài 75 : Tính nhanh

- a) $11 + 28 + 24 + 16 + 12 + 9$
- b) $75 - 13 - 17 + 25$

Bài 76 : Ngày đầu cửa hàng bán được 15 kg đường . Ngày sau bán hơn ngày đầu 5 kg đường . Cửa hàng còn lại 40 kg đường . Hỏi

- a) Ngày sau bán được bao nhiêu kg đường
- b) Trước khi bán cửa hàng có tất cả bao nhiêu kg đường

Bài 77 : Mai cao hơn Hoa 2 cm . Bình thấp hơn Mai 3 cm . Hỏi ai cao nhất ? Ai thấp nhất . Hoa cao hơn Bình mấy cm ?

Bài 78 : Mẹ để hai đĩa cam bằng nhau trên bàn . Lan lấy 3 quả từ đĩa bên phải bỏ sang đĩa bên trái . Hỏi bây giờ đĩa bên nào nhiều cam hơn và nhiều hơn mấy quả cam?

Bài 79 : Lan có 20 cái kẹo , Hà có 14 cái kẹo . Hỏi Lan phải cho Hà mấy cái kẹo để số kẹo hai bạn bằng nhau .

Bài 80 : Lan hơn Huệ 4 quyển vở . Huệ lại tặng Lan 3 quyển vở . Hỏi bây giờ ai nhiều vở hơn và nhiều hơn mấy quyển .

Bài 81 : Thu hơn Lan 7 nhãn vở . Lan lại cho Thu 5 nhãn vở . Hỏi bây giờ ai có nhiều nhãn vở hơn và nhiều hơn mấy nhãn vở .

Bài 82 : Trong chuồng có cả gà và thỏ . Bạn Hoa đếm được tất cả có 8 cái chân . Em hãy đoán xem trong chuồng có mấy con gà ? mấy con thỏ ?

Bài 83 : Từ can 10 lít dầu em muốn rót sang can 3 lít và can 2 lít . Hỏi có thể rót đầy được mấy can 2 lít ? mấy can 3 lít ?

Bài 84 : Có 9 lít nước mắm đựng vào các can loại 2 lít và 3 lít . Hỏi có bao nhiêu can 2 lít ? bao nhiêu can 3 lít ?

Bài 85 : Có 17 lít nước đựng trong các can 5 lít và 2 lít . Hỏi có mấy can 5 lít ? mấy can 2 lít ?

Bài 86 : Dũng có 1 số bi xanh và đỏ . Biết rằng số bi của Dũng bé hơn 10 . Số bi đỏ hơn số bi xanh là 7 viên . Hỏi Dũng có mấy bi xanh ? mấy bi đỏ ?

Bài 87 : Tổng số bút chì màu và đen của Lan bé hơn 9 . Số bút màu hơn số bút đen là 6 cái . Hỏi Lan có mấy bút đen ? mấy bút màu ?

Bài 88 : Vừa gà vừa chó đếm được 10 cái chân . Biết số gà nhiều hơn số chó . Hỏi có bao nhiêu gà ? Bao nhiêu con chó ?

Bài 89 : Có 13 lít dầu đựng vào các can 3 lít và 2 lít . Biết số can 3 lít nhiều hơn số can 2 lít . Hỏi có mấy can 2 lít ? Mấy can 3 lít ?

Bài 90 : Vừa gà vừa thỏ đếm được 14 cái chân . Biết số thỏ nhiều hơn số gà . Hỏi có mấy con thỏ ? Mấy con gà ?

Bài 91 : Hoà câu được tổng số cá ít hơn 11 , gồm cá rô và cá giếc . Số cá rô hơn cá giếc là 8 con . Hỏi có mấy con cá rô ? Mấy con cá giếc ?

Bài 92 : Lan câu được tổng số cá ít hơn 12 , gồm cá trôi và cá rô . Số cá trôi hơn cá rô là 9 con . Hỏi có bao nhiêu con cá trôi ? bao nhiêu con cá rô ?

Bài 93 : Con ngỗng và con gà cộng lại bằng con ngan và con vịt cộng lại . Con ngỗng nặng bằng hai con vịt . Hỏi giữa con gà và con ngan con nào nặng hơn ? Có thể nói chắc chắn con ngan nặng bằng hai con gà không ?

Bài 94 : Cô giáo chấm bài toán của bốn bạn Hoà , Bình , Hải , Tú thì có hai điểm 10 , có một điểm 9 và một điểm 7 . Hoà được điểm cao hơn Bình nhưng lại thấp hơn Hải . Hỏi mỗi bạn được mấy điểm ?

Bài 95 : Ba bạn đi câu cá . Trong giỏ câu được 3 con cá rô và chừng ấy con cá giếc . Số cá rô ít hơn cá giếc nhưng lại nhiều hơn cá quả . Hỏi ba bạn câu được mấy con cá ?

Bài 96: Có 9 lít dầu em muốn rót vào can 5 lít và can 2 lít. Hỏi em có thể rót đầy được mấy can 5 lít và mấy can 2 lít ?

Bài 97: Cả gà và chó đếm được 12 cái chân. Biết số gà nhiều hơn số chó. Hỏi có mấy con gà? Mấy con chó?

Bài 98: Lan có 1 số tờ giấy màu xanh và đỏ. Biết rằng tổng số giấy màu của lan bé hơn 13. Số giấy màu đỏ hơn giấy màu xanh là 10 tờ. Hỏi Lan có mấy tờ giấy màu xanh? Mấy tờ giấy màu đỏ?

Bài 99: Hà, Lan, Thu có 7 cái bút. Lan có nhiều hơn Hà nhưng ít hơn Thu. Hỏi mỗi bạn có mấy cái bút?

Bài 100: Tính độ dài đường gấp khúc ABCDE :

