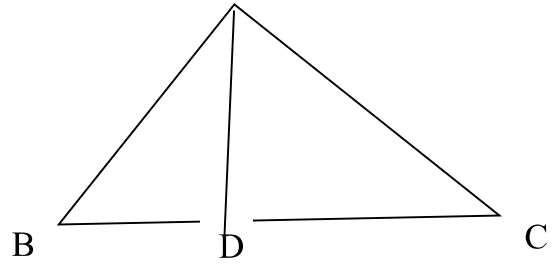


**Câu 2:** (1 điểm)

a) Hình vẽ bên có ba điểm nào thẳng hàng ?

- A. Ba điểm A, B, C.
- B. Ba điểm A, B, D.
- C. Ba điểm B, D, C.
- D. Ba điểm A, D, C.



b) Một ngày có mấy giờ?

- A. 12 giờ
- B. 24 giờ
- C. 60 giờ

**Câu 3:** (1 điểm)

Anh 15 tuổi, em ít hơn anh 8 tuổi. Hỏi em bao nhiêu tuổi?

- A. 3 tuổi
- B. 23 tuổi
- C. 7 tuổi

**Phần II:** Tự luận (7,5 điểm)

**Câu 4:** (2 điểm) Đặt tính rồi tính

17 + 35	64 + 36	51 - 25	100 - 8

**Câu 5:** (1,5 điểm) Tìm x

$x + 17 = 45$	$x - 39 = 26$	$45 - x = 18$

**Câu 6:** (3 điểm)

Một cửa hàng buổi sáng bán được 100 kg gạo. Buổi chiều bán ít hơn buổi sáng 24 kg. Hỏi buổi chiều cửa hàng bán được bao nhiêu ki- lô- gam gạo?

Bài giải

**Câu 7:** (1 điểm)

Tìm một số biết rằng lấy số đó cộng với 32 thì được 58 ?

Bài giải

**ĐỀ SỐ 33)**

**KIỂM TRA ĐỊNH KÌ CUỐI HỌC KÌ I (2010-2011)**

**MÔN: TÓAN LỚP 2**

**Bài 1:** Điền số thích hợp vào ô trống. (1 điểm)

60		62			65		67	68			71	72			75
----	--	----	--	--	----	--	----	----	--	--	----	----	--	--	----

**Bài 2:** Tính. (5 điểm)

a) Tính nhẩm: (2 điểm), HS tính đúng mỗi phép tính được 0,5 điểm.

$$6 + 7 =$$

$$17 - 9 =$$

$$12 - 4 =$$

$$8 + 5 =$$

b) Đặt tính rồi tính: (3 điểm), HS đặt tính và tính đúng mỗi phép tính được 0,5 điểm.

$$28 + 31$$

$$15 + 22$$

$$87 - 47$$

$$26 + 36$$

$$54 - 19$$

$$63 + 18$$

**Bài 3:** (1 điểm)

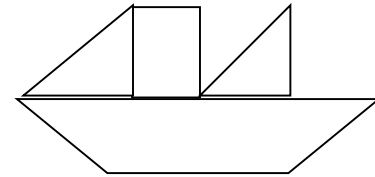
a) Lan đi ngủ lúc 20 giờ , tức là Lan đi ngủ lúc..... giờ đêm. (0,5 điểm).

b) Ngày 09 tháng 01 năm 2008 là ngày thứ tư . Ngày 11 tháng 01 năm 2008 là ngày thứ ..... (0,5 điểm)

**Bài 4:** Nhận dạng hình. (1 điểm)

a) Trong hình vẽ bên có ..... hình tam giác. (0,25 điểm)

Trong hình vẽ bên có ..... hình tứ giác. (0,25 điểm)



b) Vẽ đoạn thẳng AB dài 6cm. (0,5 điểm)

**Bài 5:** Điền số thích hợp vào ô trống để được phép tính đúng (1 điểm)

$$\boxed{37} + \boxed{2} = \boxed{39}$$

$$\boxed{28} - \boxed{25} = \boxed{3}$$

**Bài 6:** Giải tốn (1 điểm)

a) Bạn Lan cân nặng 28kg. Bạn Mai cân nặng hơn bạn Lan 3kg. Hỏi bạn Mai cân nặng bao nhiêu kilogam ?

.....  
.....  
.....

b) Mẹ hái được 38 quả bưởi. Chị hái được 16 quả bưởi. Hỏi mẹ hái nhiều hơn chị bao nhiêu quả bưởi ?

.....

**ĐỀ SỐ 34)**

<b>Trường Tiểu học:</b> .....	<b>ĐỀ THI CUỐI HỌC KÌ I 2010- 2011</b> <b>Môn : Toán</b> <b>Người ra đề : Võ Thị Duyên</b>	<b><u>Điểm :</u></b>  
<b>Lớp :</b> .....		<b><u>Chữ kí :</u></b>  
<b>Họ Và tên :</b> .....		

Bài 1: (2đ) Đặt tính rồi tính:

38 + 49

71 – 25

68 + 8

100 – 27

.....

.....

.....

.....

.....  
.....

Bài 2: (1đ) Đúng ghi Đ sai ghi S : (1đ)

$$\begin{array}{r} \text{a) } 71 \\ - \underline{25} \\ 46 \end{array} \quad \square \qquad \begin{array}{r} 68 \\ + \underline{8} \\ 66 \end{array} \quad \square$$

Bài 3: (1.5 đ) Tìm x:

a)  $x + 7 = 63$                       b)  $8 + x = 83$                       c)  $x - 9 = 24$

.....  
.....  
.....

Bài 4 : (1.5đ) Tính nhẩm

$$100 - 60 =$$

$$100 - 90 =$$

$$100 - 30 =$$

$$100 - 40 =$$

Bài 5: (2đ) Bao to có 35 kg gạo, bao bé có ít hơn bao to 8kg gạo. Hỏi bao bé có bao nhiêu kg gạo ?

Tóm tắt :

Bài giải :

.....  
.....  
.....

Đáp số : .....

Bài 6: ( 1đ) Vẽ đường thẳng :

a. Đi qua hai điểm M, N.

M                                      N

b. Đi qua điểm O.

O

Bài 7 : (1đ)

Tính nhanh :

$$1 + 2 + 3 + 4 + 5 + 6 + 7 + 8 + 9 = \dots\dots\dots$$

.....

**ĐỀ SỐ 35)**

Trường : TH&THCS Thạnh Trị

**ĐỀ KIỂM TRA CUỐI HỌC KỲ I**

Lớp: .....

**MÔN: TOÁN KHỐI 2**

Họ và tên:.....

**Thời gian: 40 phút**

**Bài 1: Điền số? ( 0,5 điểm)**

91		93			96			99	
----	--	----	--	--	----	--	--	----	--

**Bài 2: Đúng ghi Đ, sai ghi S vào ô trống ( 1 điểm)**

a/  $6 + 5 = 11$

c/  $9 + 6 = 14$

c/  $17 - 8 = 8$

d/  $14 - 7 = 7$

**Bài 3: Tính ( 1 điểm)**

a/  $38 + 42 - 20 = \dots\dots\dots$       b/  $70 - 20 + 5 = \dots\dots\dots$

**Bài 4: Đặt tính rồi tính ( 2 điểm)**

80 – 22

38 + 26

47 + 23

51 - 19

.....  
.....  
.....

**Bài 5: Tìm x ( 1 điểm)**

a/  $x + 20 = 60$

b/  $x - 27 = 15$

.....  
.....

**Bài 6: Số ? ( 1 điểm)**

a/  $14 \text{ lít} - 7 \text{ lít} + 10 \text{ lít} = \square \text{ lít}$

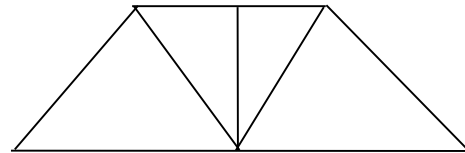
b/  $35 \text{ kg} - 12 \text{ kg} + 5 \text{ kg} = \square \text{ kg}$

**Bài 7: Viết số thích hợp vào chỗ chấm ( 1 điểm)**

Hình vẽ bên:

a ) Có..... hình tam giác

b ) Có..... hình tứ giác



**Bài 8: Giải toán ( 2 điểm)**

a) An cân nặng 46 kg. Hòa nhẹ hơn An 18 kg. Hỏi Hòa cân nặng bao nhiêu ki-lô-gam?

.....  
.....  
.....

b) Thùng bé đựng 29 lít dầu, thùng to đựng được nhiều hơn thùng bé là 21 lít dầu. Hỏi thùng to đựng được bao nhiêu lít dầu?

.....  
.....  
.....

**Bài 9: Điền số thích hợp để được phép tính đúng( 0,5 điểm)**

$\square + \square = \square$

$\square - \square = \square$

**ĐỀ SỐ 36)**

Họ và tên HS: .....	<b>KIỂM TRA ĐỊNH KÌ CUỐI HKI</b>	<u>Điểm :</u>
Lớp : 2 .....	<b>MÔN : TOÁN – LỚP 2</b>	
Trường TH Số 2 Nam Phước	<b>Năm học : 2010 - 2011</b>	<u>GK(ký) :</u>
	<b>Thời gian : 40 phút</b>	

**I. Phần trắc nghiệm: 3 điểm (Khoanh vào chữ cái trước câu trả lời đúng).**

**Câu 1:** Thứ ba tuần này là ngày 20 tháng 12. Vậy thứ ba tuần sau là ngày mấy?

A. Ngày 26 tháng 12    B. Ngày 27 tháng 12    C. Ngày 28 tháng 12

**Câu 2:**  $3 + 5 + 7 \dots\dots 5 + 7 + 3$ . **Dấu cần điền vào chỗ chấm là:**

A. >    B. <    C. =    D. Không có dấu nào.



**Câu 3 :** Hiệu của 73 và 37 là

- A. 36      B. 36      C. 35      D. 47

**Câu 4 :** Chiều dài của cái giường em nằm ước chừng là :

- A. 50 cm      B. 2 km      C. 2 m      D. 10 dm

**Câu 5:** Đúng ghi đ, sai ghi s vào ô trống :

- a/ Muốn tìm số bị trừ ta lấy hiệu cộng số trừ.  
b/ Muốn tìm số hạng chưa biết ta lấy tổng cộng số hạng kia.  
c/ Muốn tìm số hạng chưa biết ta lấy tổng trừ số hạng đã biết.  
d/ Muốn tìm số trừ ta lấy số bị trừ trừ đi hiệu.


## II. Phần tự luận: 7 điểm

**Câu 1:** (1 điểm) Tính nhẩm:  $6 + 7 = \dots\dots\dots$      $12 - 8 = \dots\dots\dots$   
 $5 + 9 = \dots\dots\dots$      $15 - 9 = \dots\dots\dots$

**Câu 2:** (2,5 điểm) Đặt tính rồi tính :

$46 + 7$	$58 + 26$	$86 - 28$	$65 - 17$	$100 - 24$
.....	.....	.....	.....	.....
.....	.....	.....	.....	.....
.....	.....	.....	.....	.....

**Câu 3:** (1 điểm) Tìm X, biết :

$$x + 34 = 62 \qquad \qquad \qquad 52 - x = 27$$

.....  
.....  
.....

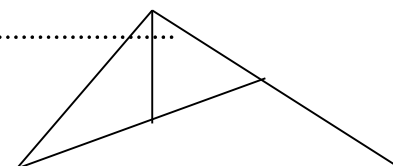
**Câu 4 :** (1,5 điểm) Năm nay bà 70 tuổi, mẹ kém bà 28 tuổi. Hỏi năm nay mẹ bao nhiêu tuổi ?

Tóm tắt :

Giải :

.....  
.....  
.....

**Câu 5:** (0,5 điểm) Trong hình vẽ bên có .... hình tam giác.



**Câu 6:** (0,5 điểm) **Điền số thích hợp để được phép tính đúng:**

---

39	+		=	
----	---	--	---	--

87	-		=	
----	---	--	---	--

**ĐỀ SỐ 37)**

**ĐỀ KIỂM TRA HỌC KÌ I**

MÔN: Toán 2. Ngày thi: .....

Thời Gian: 60 phút

1/. Điền số có 2 chữ số vào ô trống: (0.5 đ)

68	69	70					75
46	48				56		60

2/. Đọc số: (0.5 đ)

65:.....

90:.....

3/. Số? (1 đ)

<b>Số bị trừ</b>	<b>25</b>	<b>35</b>	<b>37</b>	<b>46</b>
<b>Số trừ</b>	<b>7</b>	<b>8</b>	<b>9</b>	<b>9</b>
<b>Hiệu</b>				

4/. Đúng ghi Đ, sai ghi S vào ô trống: (1 đ)

$$7 + 8 = 15 \text{ ,,}$$

$$8 + 4 = 13 \text{ ,,}$$

$$12 - 3 = 9 \text{ ,,}$$

$$11 - 4 = 7 \text{ ,,}$$

5/. Đặt tính rồi tính: (2 đ)

$45 + 27 = ?$	$64 - 38 = ?$	$33 + 47 = ?$	$11 - 4 = ?$

6/. Tìm X: (1 đ)

$X - 12 = 47$	$X - 16 = 43$

7/. Một cửa hàng có 85 chiếc xe đạp, đã bán được 25 chiếc xe đạp. Hỏi cửa hàng còn lại bao nhiêu chiếc xe đạp? (2 đ)

Bài giải


8/. Số? (1 đ)

---

$$\textcircled{5} \xrightarrow{+8} \textcircled{\quad}$$

$$\textcircled{16} \xrightarrow{-9} \textcircled{\quad}$$

$$\textcircled{6} \xrightarrow{+9} \textcircled{\quad}$$

$$\textcircled{13} \xrightarrow{-8} \textcircled{\quad}$$

9/. Nhận dạng hình: (1 đ)

Trong hình vẽ có ..... **hình tam giác**.

