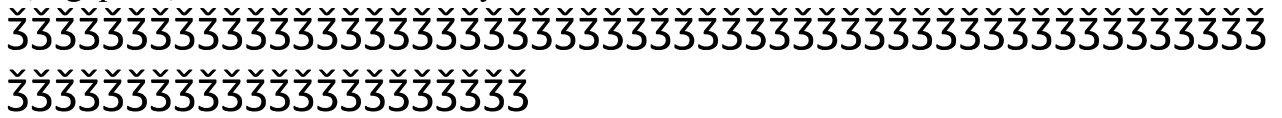




Bài 3. Tính :

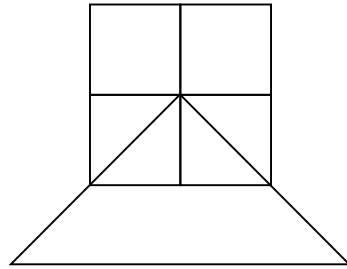
$80 - 40 + 30 = \dots\dots\dots$ $60 \text{ cm} - 30 \text{ cm} = \dots\dots\dots$
 $50 + 30 - 20 = \dots\dots\dots$ $30 \text{ cm} - 20 \text{ cm} = \dots\dots\dots$

Bài 4. Lan gấp được một chục chiếc thuyền, Hùng gấp được 30 chiếc thuyền. Hỏi cả hai bạn gấp được bao nhiêu chiếc thuyền ?



Bài 5. Hình vẽ bên có :

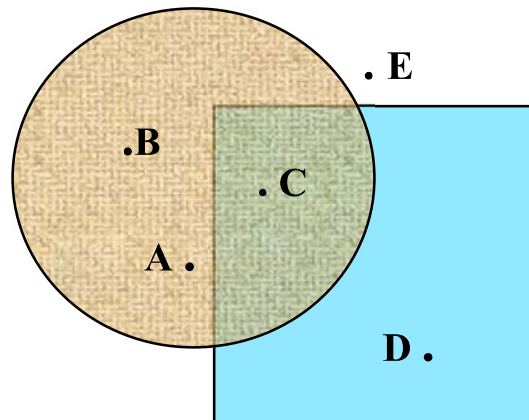
- a) Có hình tam giác
- b) Cóvuông



Bài 6:

a) Đúng ghi Đ, sai ghi S vào ô trống

- Điểm C nằm trong hình vuông.
- Điểm B nằm ngoài hình vuông.
- Điểm A nằm trong hình tròn.
- Điểm C nằm ngoài hình vuông.



b) Điền vào chỗ chấm :

Điểm nằm trong hình tròn là :.....

Điểm nằm trong hình vuông là :

ĐỀ SỐ 11

Câu 1. Khoanh vào chữ đặt trước câu trả lời đúng :

A. Số liền trước của 18 là 19

B. Số liền trước của 18 là 17

Câu 2. Đúng ghi Đ sai ghi S :

a) Số 76 gồm 7 và 6

c) Số 76 gồm 7 chục và 6 đơn vị

b) Số 76 gồm 70 chục và 6

d) Số 76 là số có hai chữ số

Câu 3. Khoanh vào chữ đặt trước câu trả lời đúng :

a) Số 52 bé hơn số : A. 25 B. 62 C. 42

b) Số 76 lớn hơn số: A. 87 B. 92 C. 67

Câu 4. Điền dấu (> ; < ; =) thích hợp vào chỗ chấm :

20 + 30 60

70 + 10 10 + 70

80 - 10 69

45 50 - 40

Câu 5. Đặt tính rồi tính :

14 + 5

18 - 7

90 - 50

20 + 40

Câu 6. Hà có 1 chục nhãn vở, mẹ mua thêm cho Hà 20 nhãn vở nữa. Hỏi Hà có tất cả bao nhiêu nhãn vở ?

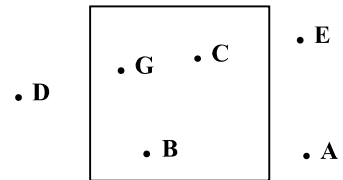
Bài giải:

~~~~~  
 ~~~~~  
 ~~~~~

**Câu 7.** Viết tiếp vào chỗ chấm cho thích hợp :

a) Các điểm ..... ở trong hình vuông

b) Các điểm ..... ở ngoài hình vuông



**ĐỀ SỐ 12**

**Bài 1.** Điền số thích hợp vào chỗ chấm :

- Số liền trước của 10 là ....
- Số liền sau của 14 là .....
- Số liền trước của 19 là ....
- Số liền sau của 19 là .....
- Số 13 gồm .....chục.....đơn vị.
- Số 56 gồm .....chục.....đơn vị.
- Số 40 gồm .....chục.....đơn vị.

**Bài 2.** Tính :

12 + 1 + 5 = .....

18 cm - 2 cm + 3 cm = .....

17 - 3 + 5 = .....

15 cm + 0 cm = .....

**Bài 3.** Đặt tính rồi tính :

15 + 3

12 + 4

18 - 5

19 - 7

|  |  |  |  |
|--|--|--|--|
|  |  |  |  |
|--|--|--|--|

**Bài 4.** Điền dấu (+) hoặc (-) vào chỗ chấm :

30 .... 50 = 80


60 .....20 = 40

50 ....20 = 30

60 ..... 30 = 90

**Bài 5.** Có 40 con gà mái và một chục con gà trống. Hỏi có tất cả bao nhiêu con gà ?

**Bài giải**



**Bài 6.** a) Vẽ đoạn thẳng có độ dài 9 cm.

.....

b) Các số : **16, 30, 48, 29** được xếp theo thứ tự từ lớn đến bé là :

.....

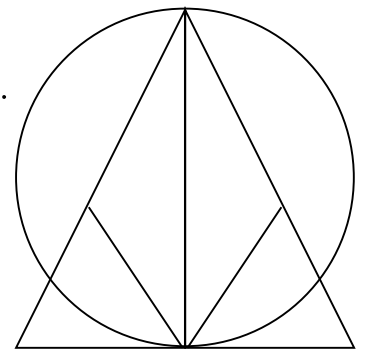
c) Vẽ một đoạn thẳng AB dài 3 cm rồi vẽ tiếp đoạn thẳng BC dài 5 cm để được đoạn thẳng AC dài 8 cm.

**Bài 7.**

Hình vẽ bên có ..... hình tam giác

a) Vẽ một điểm A nằm trong hình tròn và nằm ngoài hình tam giác.

b) Vẽ một điểm B nằm trong cả hình tròn và hình tam giác.



**ĐỀ SỐ 13**

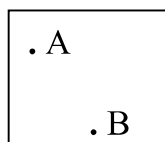
**I. TRẮC NGHIỆM**

Khoanh vào chữ cái trước ý trả lời đúng cho mỗi câu hỏi dưới đây:

**Câu 1:**

a. Có mấy điểm ở trong hình vuông ?

A. 2



. D



