





--	--	--	--	--	--	--	--	--	--	--	--	--	--

**Câu 10:**  ?      55  4 = 51      57  2 > 58

**Trường Tiểu học Đồi Ngô**  
**Tên:.....**  
**Lớp 1....**

**ĐỀ THI CUỐI HỌC KỲ II**  
**NĂM HỌC 2016 -2017**  
**MÔN THI: TOÁN**

<u>Điểm</u>	<u>Nhận xét của giáo viên</u>

**Thực hiện các yêu cầu sau:**

**Câu 1:** Điền số thích hợp vào chỗ chấm: M1

- a. Số liền sau của 99 là .....
- b. Số liền trước của 80 là.....

**Câu 2:** Viết các số tròn chục từ 1 đến 10      M1

.....

**Câu 3:** Đúng ghi Đ, sai ghi S vào ô trống:      M1

**\*B**

a. Điểm A ở trong hình chữ nhật

*A
*C

- b. Điểm M nằm ở trong hình chữ nhật \*M
- c. Điểm B nằm ở trong hình chữ nhật
- d. Điểm N nằm ở ngoài hình chữ nhật

\*N

**Câu 4:** Khoanh vào số lớn nhất: M2

- a. 20 ; 40 ; 70 ; 10
- b. 70 ; 50 ; 80 ; 30

**Câu 5:** Khoanh tròn chữ cái đặt trước kết quả đúng: M2

Em nghỉ 1 tuần lễ và ba ngày. Vậy em nghỉ được:

- A. 7 ngày
- B. 8 ngày
- C. 9 ngày
- D. 10 ngày

**Câu 6:** Đặt tính rồi tính M2

$$30 + 40$$

$$79 - 69$$

.....

.....

.....

.....

.....

.....

**Câu 7:** Hãy so sánh 56 và 76

.....

**Câu 8:** Một sợi dây dài 79 cm. Bó cắt đi 50 cm. Sợi dây còn lại là:

- A. 19cm
- B. 29cm
- C. 20cm
- D. 9cm

**Câu 9:** Lan có 20 cái kẹo, mẹ cho Lan thêm 20 cái kẹo nữa. Hỏi Lan có tất cả bao nhiêu cái kẹo? M3

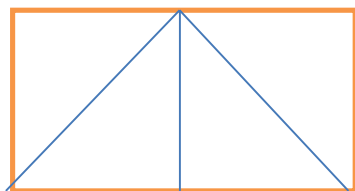
Bài giải

.....  
.....  
.....

.....

**Câu 10:** Số hình tam giác có ở hình bên là: **M4**

- A. 3
- B. 4
- C. 5
- D. 6



**ĐÁP ÁN – BIỂU ĐIỂM**

**Câu 1:**  $0,5 \times 2 = 1$  điểm

- a. 100
- b. 79

**Câu 2:** 1 điểm – mỗi số 0,2 điểm

50; 60; 70; 80; 90

**Câu 3:** 1 điểm – mỗi ý 0,25 điểm

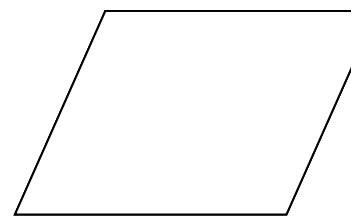
- a. Đ
- b. S
- c. S
- d. Đ

**Câu 4:**  $0,5$  điểm  $\times 2 = 1$  điểm

- a. 70
- b. 80

**Câu 5:** 1 điểm

D. 10 ngày



**Câu 6:** 1 điểm

Đặt tính và tính đúng mỗi câu được 0,5 điểm

**Câu 7:** 1 điểm  $56 < 76$

**Câu 8:** 1 điểm – B: 29cm

**Câu 9:** 1 điểm

- Lời giải, đáp số: 0,5 điểm

- Viết phép tính: 0,5 điểm

**Câu 10:** 1 điểm – C. 5

Trường TH Ngô Quyền

**II**

Lớp 1A:

Họ và tên : .....

phút)

**ĐỀ KIỂM TRA CUỐI HỌC KỲ**

**NĂM HỌC 2016 2017**

**MÔN THI: TOÁN - LỚP 1 (40**

Ngày thi: Ngày .....tháng .....năm  
2017

<b>Điểm thi</b>	<b>Nhận xét</b>
.....	.....
.....	.....
.....	.....

**Bài 1 : (M1) 1 điểm a. Khoanh vào số tròn chục?**

- a. 45                      b. 80                      c. 77

**b. Viết các số thích hợp vào ô trống**

47	48			51		53			56
----	----	--	--	----	--	----	--	--	----

**Bài 2: (M1) 1 điểm**

**a. Khoanh vào số lớn nhất:**

- a.19                      b. 90                      c. 62                      d. 70

**b. Viết số**

Năm mươi.....

Năm mươi

lăm:.....

**Bài 3: Đặt tính rồi tính (M2) 1 điểm**

62 + 23  
23

25 + 41

87 - 5

78 -

.....

.....

.....

.....

.....

.....

.....

.....

.....

.....

.....

.....

**Bài 4: Chọn câu trả lời đúng (M2) 1 điểm**

a. 23cm + 44cm =

a. 67cm

b. 67

c. 68cm

b. 23 + 4 - 0 =

a. 43

b. 27

c. 20

**Bài 5. (M2) 1 điểm**

**a. Khoanh vào đáp án đúng**

a. Số 66 gồm 6 chục và 6 đơn vị

b. Số 66 gồm 6 và 6

c. Số 66 gồm 5 chục và 6 đơn vị

**b. Đúng ghi Đ, sai ghi S vào**

35 - 15 > 20

41 + 20 = 61

**Bài 6: Cho các số: 15; 36; 63; 41; 90 (M3) 1 điểm**

a, Viết các số theo thứ tự từ bé đến lớn: .....

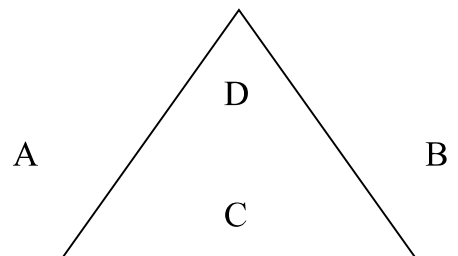
b, Viết các số theo thứ tự từ lớn đến bé: .....

**Bài 7: Đúng ghi đ, sai ghi s (Mức 3) 1 điểm**

Điểm A ở trong hình tam giác

Điểm B nằm ngoài hình tam giác

Điểm C nằm trong hình tam giác



Điểm D nằm trong hình tam giác

**Bài 8: Khoanh vào đáp án đúng: Đồng hồ chỉ mấy giờ**

a) Đồng hồ chỉ mấy giờ ?

- A. 12 giờ
- B. 10 giờ
- C. 11 giờ



b) Một tuần có mấy ngày ?


- A. 5 ngày
- B. 7 ngày
- C. 6 ngày

**Bài 9: M4 (1 điểm)** Lớp 1A có 20 bạn nữ và 15 bạn trai. Hỏi lớp 1A có tất cả bao nhiêu bạn?

Bài giải


**Bài 10: M4 (1điểm)**

Trong vườn có tất cả 86 cây cả cam và quýt, trong đó có 35 cây cam. Hỏi còn lại bao nhiêu cây quýt?




### **ĐÁP ÁN VÀ BIỂU ĐIỂM**

Mỗi bài 1 điểm

Các bài có 2 phần a, b (mỗi phần 0,5 điểm)

Bài 3: Mỗi phép tính đúng và đặt tính đúng 0,25 điểm

Bài 9, 10 (Mỗi bài đúng 1 điểm). Phép tính, lời giải, đáp số đúng: 1 điểm  
(thiếu đáp số trừ 0,5 điểm)

Trường Tiểu học Vĩnh Hy

Tên:.....

Lớp 1....

ĐỀ THI CUỐI HỌC KỲ II

NĂM HỌC 2016 -2017

MÔN THI: TOÁN

<u>Điểm</u>	<u>Nhận xét của giáo viên</u>

Thực hiện các yêu cầu sau:

**Câu 1:** Điền số thích hợp vào chỗ chấm:

- c. Số liền sau của 99 là .....
- d. Số liền trước của 80 là.....

**Câu 2:** Viết các số tròn chục từ 1 đến 10

.....

**Câu 3:** Đúng ghi Đ, sai ghi S vào ô trống:

- a. Điểm A ở trong hình chữ nhật
- b. Điểm M nằm ở trong hình chữ nhật
- c. Điểm B nằm ở trong hình chữ nhật
- d. Điểm N nằm ở ngoài hình chữ nhật

\*B

\*M

\*A

\*C

\*N

**Câu 4:** Khoanh vào số lớn nhất:

- b. 20; 40; 70; 10
- b. 70; 50; 80; 30

**Câu 5:** Khoanh tròn chữ cái đặt trước kết quả đúng:

Em nghỉ 1 tuần lễ và ba ngày. Vậy em nghỉ được:

E. 7 ngày

F. 8 ngày

G. 9 ngày

H. 10 ngày

**Câu 6:** Đặt tính rồi tính M2

$$30 + 40$$

$$79 - 69$$

.....

.....

.....

.....

.....

.....

**Câu 7:** Hãy so sánh 56 và 76

.....

**Câu 8:** Một sợi dây dài 79 cm. Bố cắt đi 50 cm. Sợi dây còn lại là:

E. 19cm

F. 29cm

G. 20cm

H. 9cm

**Câu 9:** Lan có 20 cái kẹo, mẹ cho Lan thêm 20 cái kẹo nữa. Hỏi Lan có tất cả bao nhiêu cái kẹo?

Bài giải

.....

.....

.....

.....

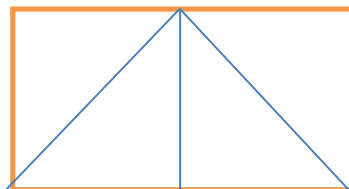
**Câu 10:** Số hình tam giác có ở hình bên là:

E. 3

F. 4

G. 5

H. 6



## ĐÁP ÁN – BIỂU ĐIỂM

**Câu 1:**  $0,5 \times 2 = 1$  điểm

c. 100

d. 79

**Câu 2:** 1 điểm – mỗi số 0,2 điểm

50; 60; 70; 80; 90

**Câu 3:** 1 điểm – mỗi ý 0,25 điểm

e. Đ

f. S

g. S

h. Đ

**Câu 4:**  $0,5$  điểm  $\times 2 = 1$  điểm

c. 70

d. 80

**Câu 5:** 1 điểm

D. 10 ngày

**Câu 6:** 1 điểm

Đặt tính và tính đúng mỗi câu được 0,5 điểm

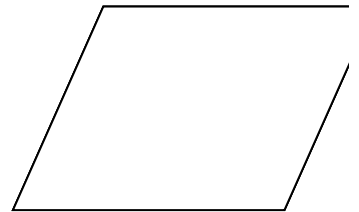
**Câu 7:** 1 điểm  **$56 < 76$**

**Câu 8:** 1 điểm – B: 29cm

**Câu 9:** 1 điểm

- Lời giải, đáp số: 0,5 điểm

- Viết phép tính: 0,5 điểm



Câu 10: 1 điểm – C. 5

**MA TRẬN ĐỀ KIỂM TRA MÔN TOÁN CUỐI HỌC KÌ 2 - LỚP 1**

TT	Chủ đề		Mức 1		Mức 2		Mức 3		Mức 4		Tổng
			TN	TL	TN	TL	TN	TL	TN	TL	
1	Số học	Số câu	02		04		02			01	09
		Câu số	1,2		3,4,5,6		7,8			10	
2	Yếu tố hình học	Số câu	01								01
		Câu số	9								
Tổng số câu			03		04		02			01	10
Tổng số			03		04		02		01		10

<b>Trường Tiểu học Bảo Thuận</b> Họ và tên: ..... Lớp:.....	<b>BÀI KIỂM TRA CUỐI HỌC KÌ II</b> <b>NĂM HỌC: 2016 - 2017</b> <b>Môn: TOÁN – Lớp 1</b> <b>Thời gian: 40 phút</b>
---	--

<u>Điểm</u>	<u>Nhận xét của giáo viên</u>
-------------	-------------------------------

**Câu 1: (1 điểm) Viết số vào chỗ trống: M1**

Sáu mươi tư .....

Hai mươi tám.....

Bốn mươi lăm.....

Chín mươi bốn.....

**Câu 2: (0,5 điểm) Số liền sau của 39 là: M2**

- A. 40
- B. 50
- C. 20
- D. 38

**Câu 3: (1 điểm) Các số 45; 37; 54; 28 viết theo thứ tự từ bé đến lớn: M2**

- A. 45; 37; 54; 28
- B. 37; 45; 54; 28
- C. 28; 54; 45; 37
- D. 28; 37; 45; 54

**Câu 4: (1 điểm) Số? M2**

29		31		33	34
----	--	----	--	----	----

**Câu 5: (1 điểm) Các ngày trong tuần là: M2** Chủ nhật,

.....  
.....  
.....

**Câu 6: (2 điểm) Đặt tính rồi tính M2**

$6 + 23$

$63 - 20$

$75 - 4$

$30 + 40$

.....  
.....  
.....

**Câu 7: (1 điểm) Tính: M3**

$45 - 32 + 32 = \dots\dots\dots$

$16 - 6 + 57 = \dots\dots\dots$

**Câu 8: (1 điểm) Mai có một giỏ táo, lần thứ nhất Mai bán 25 quả táo, lần thứ hai Mai bán 34 quả táo. Hỏi sau hai lần, Mai bán bao nhiêu quả táo?**

**M3**

**Bài giải**

.....  
.....  
.....  
.....

**Câu 9: (0,5 điểm) Vẽ đoạn thẳng AB dài 7 cm**

**M1**

**Câu 10: (1 điểm) Hôm qua là thứ ba, ngày mai là thứ mấy?**

**M4**

.....  
.....

**CHUẨN KIẾN THỨC – KĨ NĂNG MÔN TIẾNG VIỆT BẬC TIỂU HỌC**

**LỚP 1**

<b>GIAI ĐOẠN</b>	<b>ĐỌC</b>
<b>CUỐI KÌ 2</b>	<b>Khoảng 30 tiếng / phút</b>

<b>Trường Tiểu học Bảo Thuận</b> Họ và tên: ..... Lớp:.....	<b>BÀI KIỂM TRA CUỐI HỌC KÌ II</b> <b>NĂM HỌC: 2016 - 2017</b> <b>Môn: ĐỌC TIẾNG – Lớp 1</b> <b>Thời gian: 40 phút</b>
---	---

<u>Điểm</u>	<u>Nhận xét của giáo viên</u>
-------------	-------------------------------

**Học sinh bốc thăm 1 trong 4 đoạn sau: Đọc và trả lời 1 câu hỏi trong bài.**



- **Đọc thành tiếng: 8 điểm**

+ Đọc: 7 điểm

+ Trả lời câu hỏi: 1 điểm.

- **Cách đánh giá, cho điểm:**

- Phát âm rõ các âm, vần khó cần phân biệt: 2 điểm
- Đọc trơn, đúng tiếng, từ, cụm từ, câu ( không đọc sai quá 10 tiếng): 1 điểm
- Âm lượng đọc vừa đủ nghe: 1 điểm
- Tốc độ đọc đạt yêu cầu ( tối thiểu 30 tiếng/1 phút): 2 điểm
- Ngắt nghỉ hơi đúng ở các dấu câu, các cụm từ: 1 điểm
- Trả lời đúng câu hỏi nội dung đoạn đọc: 1 điểm

### **Đoạn 1:**

#### Sự tích mùa xuân

Ngày xưa, trái đất chỉ có ba mùa: hạ, thu, đông. Mùa xuân ấm áp chỉ đến khi có cầu vồng xuất hiện và muôn hoa chào đón. Mỗi khi chuyển mùa, thỏ mẹ lại bị ốm.

### **Câu hỏi đoạn 1:**

1. Ngày xưa, trái đất có mấy mùa? Đó là mùa nào?
  - Ngày xưa, trái đất chỉ có ba mùa: hạ, thu, đông.
2. Mùa xuân ấm áp chỉ đến khi có điều gì xuất hiện?
  - Mùa xuân ấm áp chỉ đến khi có cầu vồng xuất hiện và muôn hoa chào đón.
3. Mỗi khi chuyển mùa, thỏ mẹ như thế nào?
  - Mỗi khi chuyển mùa, thỏ mẹ lại bị ốm.

### **Đoạn 2:**

## Sự tích Hồ Gươm

Đầu thế kỉ mười lăm, giặc Minh xâm lược nước ta. Chúng tàn sát dân lành, vơ vét của cải đem về nước. Lê Lợi dựng cờ khởi nghĩa tại Lam Sơn để đánh giặc.

### Câu hỏi đoạn 2:

1. Ai xâm lược nước ta ?  
- Giặc Minh xâm lược nước ta.
2. Ai dựng cờ khởi nghĩa tại Lam Sơn để đánh giặc?  
- Lê Lợi dựng cờ khởi nghĩa tại Lam Sơn để đánh giặc.
3. Lê Lợi dựng cờ khởi nghĩa tại đâu ?  
- Lê Lợi dựng cờ khởi nghĩa tại Lam Sơn

### Đoạn 3:

Đi tàu trên sông Vân - ga

Tôi còn nhớ rất rõ những ngày thu vô cùng đẹp đẽ ấy. Suốt từ sáng đến tối, tôi và bà đứng trên tàu, dưới bầu trời trong sáng, giữa đôi bờ mùa thu vàng óng.

### Câu hỏi đoạn 3:

1. Những ngày thu như thế nào?  
- Những ngày thu vô cùng đẹp đẽ.
2. Tôi và bà đứng ở đâu?  
- Tôi và bà đứng trên tàu.
3. Bầu trời như thế nào?  
- Bầu trời trong sáng.

### Đoạn 4:

Văn hay chữ tốt

Thuở đi học, Cao Bá Quát viết chữ rất xấu nên nhiều bài văn dù hay vẫn bị cho điểm kém. Một hôm, bà cụ hàng xóm nhờ ông viết một lá đơn kêu oan.

**Câu hỏi đoạn 4:**

1. Thuở đi học, ai viết chữ rất xấu?
  - Thuở đi học, Cao Bá Quát viết chữ rất xấu
2. Cao Bá Quát viết chữ như thế nào ?
  - Cao Bá Quát viết chữ rất xấu.
3. Ai nhờ ông viết một lá đơn kêu oan?
  - Bà cụ hàng xóm nhờ ông viết một lá đơn kêu oan.

**MA TRẬN CÂU HỎI ĐỀ KIỂM TRA ĐỌC HIỂU MÔN TIẾNG VIỆT CUỐI HỌC KÌ II LỚP 1**

Chủ đề		Mức 1		Mức 2		Mức 3		Tổng
		TN	TL	TN	TL	TN	TL	
Đọc hiểu văn bản	Số câu	2		2			1	5

<b>Trường Tiểu học Bảo Thuận</b>	<b>BÀI KIỂM TRA CUỐI HỌC KÌ II</b>
----------------------------------	------------------------------------

Họ và tên: .....	<b>NĂM HỌC: 2016 - 2017</b>
Lớp:.....	<b>Môn: ĐỌC HIỂU – Lớp 1</b>
	<b>Thời gian: 30 phút</b>

<u>Điểm</u>	<u>Nhận xét của giáo viên</u>

**Đọc bài sau và trả lời câu hỏi: (2 điểm)**

**Trời mưa**

Con bò ngủ gốc cây đa,  
 Trời mưa mát mẻ bò ta cả cười.  
 Con chim bay ở trên trời,  
 Trời mưa ướt cánh, chim rơi xuống hồ.  
 Cái bánh nằm ở trong lò,  
 Trời mưa, tắt lửa vừa lo vừa buồn.  
 (Đồng dao)

**1. Con bò ngủ ở đâu? M1**

- A. trên trời                      B. trong lò                      C. gốc cây đa  
 D. ngoài sân

**2. Con chim bay ở đâu? M1**

- A. trên trời                      B. trong lò                      C. gốc cây đa  
 D. ngoài sân

**3. Khi trời mưa, con bò như thế nào? M2**

- A. cả cười                      B. vừa lo, vừa buồn                      C. ướt cánh  
 D. rơi xuống hồ