

**Bài 2 : Tìm x, biết :**

$X + 18 = 53$

$18 + x = 43$

$x - 14 = 19$

$x - 29 = 54$

$x + 9 = 72$

$X - 19 = 63$

$x + 28 = 72$

$42 + x = 54$

$x - 37 = 7$

$15 + x = 92$

**Bài 3:** Có hai bao đ-ờng cân nặng tổng cộng 63kg. Bao thứ nhất cân nặng 34kg. Hỏi bao thứ hai cân nặng bao nhiêu ki lô gam?

Tóm tắt

Bài giải

**Bài 4:** Mẹ mua một số bông hoa, mẹ biếu bà 15 bông hoa thì còn lại 39 bông hoa. Hỏi lúc đầu mẹ mua bao nhiêu bông hoa?

Tóm tắt

Bài giải

**Bài 5:** Một bao đ-ờng cân nặng 53 kg, ng-ời ta lấy bớt đi 16 kg. Hỏi còn lại bao nhiêu ki lô gam đ-ờng?

Tóm tắt

Bài giải

Hä và t<sup>h</sup>n : .....

Líp : 2A

## PHIẾU CUỐI TUẦN 13

### I. TOÁN:

**Bài 1:** Đặt tính rồi tính:

43 - 9    83 - 47    44 - 7    64 - 6    74 - 35    64 - 38    94 - 29    17 - 10

**Bài 2:** Tìm x:

$X + 26 = 54$      $35 + x = 94$      $x - 34 = 12$      $x - 12 = 44$      $x + 6 = 24$

**Bài 3:** Lớp 2C có 34 học sinh, sau đó có 5 học sinh đ-ợc chuyển đi các lớp học khác. Hỏi lớp 2C còn lại bao nhiêu học sinh?

Tóm tắt

Bài giải

.....	.....
.....	.....
.....	.....

**Bài 4:** Năm nay mẹ 45 tuổi, con ít hơn mẹ 28 tuổi. Hỏi năm nay con bao nhiêu tuổi?

Tóm tắt

Bài giải

.....	.....
.....	.....
.....	.....

**Bài 5:** Số?

$\begin{array}{r} \_ 5 \dots \\ 24 \\ \hline 35 \end{array}$	$\begin{array}{r} \_ \dots 4 \\ 1 \dots \\ \hline 46 \end{array}$	$\begin{array}{r} \_ 6 \dots \\ \dots 7 \\ \hline 27 \end{array}$	$\begin{array}{r} \_ 34 \\ \dots \dots \\ \hline 18 \end{array}$	$\begin{array}{r} + 42 \\ \dots 7 \\ \hline 7 \dots \end{array}$	$\begin{array}{r} + 5 \dots \\ \dots 6 \\ \hline 93 \end{array}$
--	---	---	--	--	--

## II. Tiếng Việt:

**Bài 1:** Gạch một gạch dưới bộ phận trả lời câu hỏi “Ai?”. Gạch 2 gạch dưới bộ phận trả lời câu hỏi “Làm gì?”

- |                                |                                   |
|--------------------------------|-----------------------------------|
| a. Mẹ mua cho em chiếc áo mới. | d. Một quả rơi vào lòng cậu.      |
| b. Chị tặng em đôi giày này.   | e. Bố của Chi đang nằm bệnh viện. |
| c. Bố cho em đi du lịch.       | g. Bác sĩ khám bệnh cho bé.       |

**Bài 2:** Đặt hai câu theo mẫu “Ai làm gì?”

.....

.....

**Bài 3 :** Em hãy viết một đoạn văn ngắn ( khoảng 3 — 5 câu ) kể về gia đình em

.....

.....

.....

.....

Họ và tên:.....

Lớp 2...

**PHIẾU CUỐI TUẦN 15**  
**TOÁN**

**Bài 1:** Đặt tính rồi tính:

32 - 4    100 - 56    100 - 7    83 - 25    100 - 91    100 - 30    76 - 34    91 - 38

**Bài 2:** Tìm x:

$x - 15 = 42$      $78 + x = 100$      $53 - x = 37$      $100 - x = 16$      $x + 66 = 84$

**Bài 3:** Anh cao 17 dm, em thấp hơn anh 9 dm. Hỏi em cao bao nhiêu đề xi mét?

Tóm tắt

Bài giải

.....	.....
.....	.....
.....	.....

**Bài 4:** Trên cây có 37 con chim đậu. Một số con bay đi, còn lại 8 con. Hỏi có bao nhiêu con chim bay đi?

Tóm tắt

Bài giải

.....	.....
.....	.....

**Bài 5:** Vẽ đường thẳng:

a) Đi qua hai điểm P, Q

P                      Q  
·                            ·

Chấm thêm một điểm và đặt tên cho điểm đó để có 3 điểm thẳng hàng.

b) Đi qua điểm M

M  
·

Chấm thêm hai điểm và đặt tên cho hai điểm đó để có 3 điểm thẳng hàng.

**Bài 6:** Điền số thích hợp vào ô trống:

$57 \square = 26$

$\square - 18 = 26$

$\square + 29 = 63$

$48 - \square = 9$

$27 + \square = 15$

$\square + 34 = 49$

$20 - \square = 15$

$\square - 16 = 37$

**Bài 7:** Một bao đường cân nặng 45kg, người ta lấy ra bớt một số kilôgam đường, còn lại trong bao 16kg đường. Hỏi người ta đã lấy ra bao nhiêu kilôgam đường?

Tóm tắt

Bài giải

.....  
.....  
.....

.....  
.....  
.....

## TIẾNG VIỆT

Điền vào chỗ trống câu hỏi ý sau. Em hãy viết một đoạn văn ngắn từ 3 – 5 câu kể về anh (hoặc chị) em.

- + Anh (chị) em tên là gì? Năm nay bao nhiêu tuổi?
- + Anh (chị) em là con thứ mấy trong gia đình?
- + Anh (chị) em học lớp mấy? trường nào?
- + Anh (chị) em học giỏi không? hoặc người đã ảnh hưởng nhiều nhất?
- + Em thích nhất điều gì về anh (chị)?
- + Tính cách của anh (chị) em ảnh hưởng đến em như thế nào và tính cách của em ảnh hưởng đến anh (chị) em như thế nào?

(Con viết đoạn văn này vào vở ô li)

# PHIẾU CUỐI TUẦN 15

Họ và tên:.....

Lớp 2...

**L- u ý:** C, c con s<sup>3</sup>p ki<sup>0</sup>m tra cu<sup>0</sup>i k<sup>1</sup>l. V<sup>0</sup>y Ò<sup>0</sup>ng h<sup>0</sup>PH ki<sup>0</sup>m tra Ò<sup>0</sup>n Ò<sup>0</sup>c c, c con h<sup>0</sup>c bài.

**Bài 1:** Đặt tính rồi tính:

32 — 4    100 — 56    100 — 7    83 — 25    100 — 91    100 — 30    76 — 34    91 — 38

**Bài 2:** Tìm x:

$x + 26 = 17 + 36$      $x - 14 = 8 + 23$      $x - 29 = 27 + 24$      $47 - 7 - x = 36$

**Bài 3:** Một giá sách có hai ngăn. Ngăn trên có ít hơn ngăn d- ới 12 quyển sách, biết ngăn trên có 38 quyển sách. Hỏi ngăn d- ới có bao nhiêu quyển sách?

**Bài 4:** Trên cây có 37 con chim đậu. Một số con bay đi, còn lại 8 con. Hỏi có bao nhiêu con chim bay đi?

**Bài 5:** Vẽ đ- ờng thẳng:

a) Đi qua hai điểm P, Q

P                      Q  
•                      •

Chấm thêm một điểm và đặt tên cho điểm đó để có 3 điểm thẳng hàng.

b) Đi qua điểm M

M  
•

Chấm thêm hai điểm và đặt tên cho hai điểm đó để có 3 điểm thẳng hàng.


**Bài 6:** Dùng th- ớc thẳng và bút nối 3 điểm thẳng hàng rồi viết theo mẫu:

..... là ba điểm thẳng hàng.

..... là ba điểm thẳng hàng.

..... là ba điểm thẳng hàng.

..... là ba điểm thẳng hàng.



**Bài 7:** Có hai bao gạo, bao thứ nhất nhiều hơn bao thứ hai 9kg gạo, bao thứ nhất đựng 58kg. Hỏi bao thứ hai đựng bao nhiêu kilôgam gạo?

**Bài 8:** Điền số thích hợp vào ô trống:

57 —  = 26

- 18 = 26

+ 29 = 63

48 —  = 9

27 +  = 15

+ 34 = 49

20 -  = 15

- 16 = 37

**Bài 9:** Có ba cái thìa bẽ ngoài trông giống hệt nhau nh- ng có một cái thìa nhẹ hơn mỗi cái còn lại. Làm thế nào chỉ cần một lần cân tìm thấy ngay cái thìa nhẹ hơn?

Họ và tên:..... **PHIẾU TUẦN 16**

Lớp 2...

**Các con làm bài vào vở ô li.**

**Để chuẩn bị thi cuối kỳ I vào sáng thứ tư ngày 31-12- 2014 , đề nghị các bậc phụ huynh kiểm tra các con học thuộc các đoạn văn đã viết và ôn tập lại các kiến thức đã học.**

**I. Toán:**

**Bài 1: Đặt tính rồi tính:**

$$13 - 7 \quad 35 - 19 \quad 72 - 45 \quad 68 - 43 \quad 35 + 29 \quad 48 + 16 \quad 100 - 54 \quad 100 - 92$$

**Bài 2: Tìm x:**

$$x + 16 = 54 \quad x + 25 = 50 \quad 34 + x = 51 \quad 47 + x = 98 \quad x - 36 = 62$$

$$100 - x = 24 \quad x - 63 = 4 \quad 58 - x = 19 \quad 32 - x = 27 \quad x - 9 = 81$$

**Bài 3: Tính:**

$$13l - 8l + 5l = \quad 43\text{kg} - 17\text{kg} - 6\text{kg} = \quad 42\text{kg} - 15\text{kg} + 6\text{kg} =$$

$$13\text{dm} - 5\text{dm} + 8\text{dm} = \quad 18\text{cm} + 25\text{cm} - 37\text{cm} = \quad 21\text{dm} + 19\text{dm} + 8\text{dm} =$$

**Bài 4:** Có hai thùng n- ớc mắm, thùng thứ nhất đựng 46 lít. Thùng thứ hai đựng ít hơn thùng thứ nhất 8lít. Hỏi thùng thứ hai đựng bao nhiêu lít?

**Bài 5: Giải bài toán theo tóm tắt sau:**

Dũng : 38 viên bi

Hùng kém Dũng: 12 viên bi

Hùng : ... viên bi?

**III. Tiếng Việt:**

**Bài 1:** Gạch d- ới bộ phận trả lời câu hỏi **thế nào?** trong các câu sau:

Chú gà trống nhà em đẹp làm sao! Bộ lông của chú vàng óng, m- ợt nh- ợt. Cái mào của chú đỏ chói. Cái mỏ nh- ỏ một quả ớt vàng cong cong.

**Bài 2: Đặt câu hỏi cho bộ phận in đậm:**

a) Trẻ em là búp trên cành.

b) Mùa hè chói chang.

c) Anh Hoàng luôn nh- ờng nhịn, chiều chuộng bé Hà.

d) Bé Hoa giúp mẹ trông em.

e) Lớp em làm về sinh sản tr- ồng.

f) Chủ nhân t-ơng lai của đất n-ớc là **các em thiếu nhi**.

Họ và tên:..... **PHIẾU TUẦN 17**

Lớp 2...

## I. TOÁN:

**Bài 1:** Đặt tính rồi tính:

$$68 + 14 \quad 28 + 19 \quad 100 - 72 \quad 81 - 46 \quad 36 + 47 \quad 84 - 29 \quad 100 - 53 \quad 62 + 38$$

**Bài 2:** Tìm x:

$$x + 24 = 69$$

$$23 + x = 41$$

$$x - 54 = 37$$

$$x + 41 = 29 + 53$$

$$x + 19 = 91$$

$$50 - x = 37$$

$$x - 13 = 61$$

$$42 - x = 15 - 9$$

**Bài 3:** Bạn Bảo có 40 viên bi, bạn C-ờng có nhiều hơn bạn Bảo 12 viên bi. Hỏi bạn C-ờng có bao nhiêu viên bi?

**Bài 4:** Bạn Thảo hái đ-ợc 28 bông hoa, bạn Phụng hái đ-ợc ít hơn bạn Thảo 9 bông hoa. Hỏi bạn Phụng hái đ-ợc bao nhiêu bông hoa?

**Bài 5:** Bạn Diễm cân nặng 28 kg, bạn Lân cân nặng hơn bạn Diễm 5 kg. Hỏi bạn Lân cân nặng bao nhiêu ki lô gam?

**Bài 6:** Trong thùng có 45kg gạo. Chị Hà bán đi một số gạo. Trong thùng còn lại 27 kg gạo. Hỏi chị Hà đã bán đi bao nhiêu ki- lô- gam gạo?

## II. Tiếng Việt:

**Bài 1:** Đặt câu theo mẫu:

a) Ai là gì? (2 câu)

b) Ai làm gì? (2 câu)

c) Ai thế nào? (2 câu)

**Bài 2:** Nói các câu cho sẵn theo mẫu:

a. Mái tóc bà em bạc nh- c- ớc.

b. Em quét nhà giúp mẹ.

c. Đôi mắt em bé đen láy.

d. Hoa viết th- cho bố.

e. Thiếu nhi là t-ơng lai của đất n-ớc.

1. Ai thế nào?
2. Ai là gì?
3. Ai làm gì?

**Bài 3:** Điền dấu chấm, dấu phẩy, dấu chấm hỏi vào mỗi ô trống thích hợp.

Trong giờ học môn Tự nhiên và Xã hội  cô hỏi Tí:

- Tại sao bón phân cây cối lại xanh tốt





- Th- a cô vì cây cối sợ bản nó v- ơn cao để tránh chỗ bản ạ

Họ và tên: ..... **PHIẾU ÔN TIẾNG VIỆT (KỲ I)**

**A. Đọc thầm mẫu chuyện sau:**

### **MÓN QUÀ QUÝ**

Mẹ con nhà thỏ sống trong một cánh rừng, Thỏ Mẹ làm lụng quần quật suốt ngày để nuôi đàn con. Bầy thỏ con rất th- ơng yêu và biết ơn mẹ. Tết sắp đến, chúng bàn nhau chuẩn bị một món quà tặng mẹ. Món quà là một chiếc khăn trải bàn trắng tinh, đ- ợc tô điểm bằng những bông hoa sắc màu lộng lẫy. Góc chiếc khăn là dòng chữ *Kính chúc mẹ vui, khoẻ* đ- ợc thêu nắn nót bằng những sợi chỉ vàng.

**Khoanh tròn chữ cái tr- ớc câu trả lời đúng:**

1. Câu văn nào d- ưới đây tả sự vất vả của Thỏ Mẹ ?
  - a) Bầy thỏ con rất th- ơng yêu và biết ơn mẹ.
  - b) Thỏ Mẹ cảm thấy mọi mệt nhọc tiêu tan hết.
  - c) Thỏ Mẹ làm lụng quần quật suốt ngày để nuôi đàn con.
2. Để tỏ lòng th- ơng yêu và biết ơn mẹ, bầy thỏ con đã làm gì?
  - a) Hái tặng mẹ những bông hoa lộng lẫy.
  - b) Làm tặng mẹ một chiếc khăn trải bàn.
  - c) Làm tặng mẹ một chiếc khăn quàng.
3. Món quà đ- ợc tặng mẹ vào dịp nào?
  - a) Vào dịp tết.
  - b) Vào ngày sinh nhật mẹ.
  - c) Vào ngày hội đón xuân.
4. Vì sao khi nhận món quà, Thỏ Mẹ cảm thấy những mệt nhọc tiêu tan hết?
  - a) Vì Thỏ Mẹ vui mừng thấy các con chăm chỉ.
  - b) Vì Thỏ Mẹ hạnh phúc biết các con hiếu thảo.
  - c) Vì chiếc khăn trải bàn là món quà Thỏ Mẹ ao - ớc.
5. Dòng nào d- ưới đây gồm những từ chỉ *hoạt động* của ng- ời và vật ?
  - a) bàn nhau, tặng.
  - b) khăn trải bàn, bông hoa
  - c) hiếu thảo, trắng tinh

6. Câu “ **Bầy thỏ con tặng mẹ một chiếc khăn trải bàn.**” đ- ọc cấu tạo theo mẫu nào trong 3 mẫu d- ưới đây?

- a) Ai là gì?
- b) Ai làm gì?
- c) Ai thế nào?

7. Câu nào d- ưới đây cấu tạo theo mẫu **Ai thế nào?**

- a) Dòng n- ớc chảy ra sông, biển.
- b) Cục n- ớc đá trắng tinh.
- c) Trời cao là bạn của tôi.

### B. Hoàn thành các bài tập sau:

1. Điền **dấu chấm** hoặc **dấu phẩy** vào  thích hợp:

Ngày lũ chim non tr- ởng thành đã tới  Bốn chú chim chích bé xú nhoai ra khỏi lồng  bay chuyền trên cây ngái  ần quýt theo sau cha mẹ.

2. Điền **dấu chấm** hoặc **dấu chấm hỏi, dấu phẩy** và  thích hợp:

Chị giảng giải cho em:

- Sông  hồ rất cần cho con ng- ời  Em có biết nếu không có sông  hồ thì cuộc sống của chúng ta sẽ ra sao không

Em nhanh nhẩu trả lời:

- Em biết rồi. Thì sẽ chẳng có ai biết bơi, đúng không chị

3. Xếp các từ sau đây thành hai nhóm:

**nắng, chạy, bố, mẹ, vàng, t- ời, giúp, ngoan ngoãn**

a) Từ chỉ ng- ời , sự vật	
b) Từ chỉ hoạt động	
c) Từ chỉ đặc điểm, tính chất	

4. Nối từ với vế câu thích hợp để tạo thành câu **Ai thế nào?**

Nắng

1) rất ngoan ngoãn, chăm chỉ.

2) chạy nhanh không ai đuổi kịp.

3) là ánh sáng của mặt trời.

5. Đặt 2 câu theo mẫu “ Ai là gì?”

.....

.....

Họ và tên:.....

Lớp 2...

**PHIẾU CUỐI TUẦN 19**

**I.Khoanh vào chữ đặt tr- ớc câu trả lời đúng trong mỗi bài tập sau:**

Bài 1:Kết quả của phép tính:  $9 + 3 + 6 =$

- a. 17                                  b.18                                  c.11                                  d.20

Bài 2:Cách đọc nào đúng?

- a.  $3 \times 4 = 12$  đọc là “Bốn nhân ba bằng mười hai”  
b.  $3 \times 4 = 12$  đọc là “Ba bốn mười hai”  
c.  $3 \times 4 = 12$  đọc là “Ba nhân bốn bằng mười hai”

Bài 3: 4 đ- ợc lấy 5 lần, ta có phép nhân:

- A.  $4 \times 5$                           B.  $5 \times 4$

Bài 4: Trong phép nhân  $3 \times 4 = 12$

- a. 3 là số hạng, 4 là số hạng, 12 là tổng.  
b. 3 là thừa số, 4 là thừa số, 12 là tích.  
c. 3 là thừa số, 4 tích, 12 là thừa số.  
d.  $3 \times 4$  là thừa số, 12 là tích.

Bài 5: Mỗi con chim có 2 cái chân. Hỏi 8 con chim có bao nhiêu chân?

Đáp số của bài toán là:

- A. 14 chân                          B. 10 chân                          C. 16 con chim                          D.16 chân

**II. Tự luận**

Bài 1: Đặt tính rồi tính:

- $37 + 35 + 18$                            $42 + 9 + 15$                            $25 + 25 + 25 + 25$                            $14 + 14 + 14 + 14$
- .....
- .....

.....  
.....  
Bài 2: Điền dấu phép tính vào chỗ chấm:

$3 \dots 4 = 7$	$3 \dots 4 = 12$
$2 \dots 2 = 4$	$2 \dots 2 = 4$

Bài 3: Thầy giáo th- ờng cho 9 bạn học sinh giỏi , mỗi bạn hai quyển vở. Hỏi thầy cần phải mua bao nhiêu quyển vở?

Tóm tắt

Bài giải

..... ..... .....	..... ..... .....
-------------------------	-------------------------

Bài 4: Viết tiếp ba số nữa :

a, 8, 10, 12, ..., ....., ....., 20.

b, 20, 18, 16, ..., ....., ....., 8.

Bài 5 : Thực hiện dãy tính :

$2 \times 4 + 19 = \dots\dots\dots$ $= \dots\dots\dots$	$9 \times 2 + 29 = \dots\dots\dots$ $= \dots\dots\dots$
$6 \times 2 - 5 = \dots\dots\dots$ $= \dots\dots\dots$	$100 - 8 \times 2 = \dots\dots\dots$ $= \dots\dots\dots$

Bài 6 : Bài toán

Mét ng«i sao cũ 5 c, nh. Hái 2 ng«i sao cũ bao nhiªu c, nh sao ?

Tóm tắt

Bài giải

..... .....	..... .....
----------------	----------------

Họ và tên:.....  
Lớp 2...

**PHIẾU CUỐI TUẦN 19**

**KIỂM TRA ĐỌC HIỂU**

**A. Đọc thầm bài Nhà Gấu ở trong rừng và làm bài tập**

**NHÀ GẤU Ở TRONG RỪNG**

Mùa xuân, cả nhà gấu đi bẻ măng và uống mật ong. Mùa thu, gấu đi nhặt hạt dẻ. Gấu bố, gấu mẹ, gấu con béo rung rinh, b- ớc đi lặc lè. Suốt ba tháng mùa đông, cả nhà gấu tránh rét, không đi kiếm ăn, chỉ mút hai bàn chân mỡ cũng no.

Theo T« HOÀI

*Dựa vào nội dung đoạn văn, em hãy đánh dấu X vào ô trống tr- ớc ý trả lời đúng cho mỗi câu hỏi d- ới đây:*

1. Nhà gấu có những ai?

- Có gấu ông, gấu bà.
- Chỉ có gấu bố, gấu mẹ.
- Có gấu bố, gấu mẹ, gấu con.

2. Gấu ăn những gì?

- Ăn măng, ăn hạt dẻ, uống mật ong.
- Chỉ ăn măng tre trong rừng.
- Không ăn gì, chỉ ngủ.

3. Mùa nào nhà gấu không đi kiếm ăn?

- Mùa xuân
- Mùa hạ.
- Mùa thu.
- Mùa đông.

4. Đoạn văn trên cho em biết điều gì?

- Gấu là loài vật không ăn vãn béo.
- Đặc điểm, thói quen sinh hoạt của nhà gấu.
- Gấu dự trữ thức ăn trong hang để sống qua mùa đông.

5. **Đặt câu hỏi cho bộ phận in đậm trong câu sau:**

*Mùa xuân, cả nhà gấu đi bẻ măng và uống mật.*

.....

Họ và tên:.....

Lớp 2...

## PHIẾU CUỐI TUẦN 20

### I. Toán

Bài 1:Tính:

$3 \times 4 =$

$4 \times 4 =$

$3 \times 9 =$

$5 \times 4 =$

$2 \times 4 =$

$4 \times 6 =$

$5 \times 6 =$

$4 \times 8 =$

$2 \times 6 =$

$4 \times 9 =$

$2 \times 7 =$

$3 \times 7 =$

$2 \times 9 =$

$5 \times 7 =$

$2 \times 10 =$

$5 \times 3 =$

$3 \times 3 =$

$5 \times 6 =$

$3 \times 6 =$

$5 \times 10 =$

$5 \times 2 =$

$4 \times 2 =$

$5 \times 5 =$

$5 \times 9 =$

$2 \times 8 =$

Bài 2:Tính và viết phép tính theo mẫu:

a,  $4\text{cm} \times 2 + 4\text{cm} \times 3$

$= 8\text{cm} + 12\text{cm}$

$= 20\text{cm}$

b,  $4\text{cm} \times 5 + 4\text{cm} \times 2$

$= \dots\dots\dots$

$= \dots\dots\dots$

c,  $4\text{cm} \times 7 - 4\text{cm} \times 2$

$= \dots\dots\dots$

$= \dots\dots\dots$

d,  $4\text{cm} \times (3 + 2)$

$= 4\text{cm} \times 5$

$= \dots\dots\dots$

e,  $4\text{cm} \times (5 + 2)$

$= \dots\dots\dots$

$= \dots\dots\dots$

g,  $4\text{cm} \times (7 - 2)$

$= \dots\dots\dots$

$= \dots\dots\dots$

**\*Ghi nhớ:** Nếu dãy tính có dấu ngoặc đơn ( ) ta làm phép tính trong ngoặc tr- ớc.

Bài 3:Tính

$5 \times 6 + 18 = \dots\dots\dots$

$= \dots\dots\dots$

$4 \times 9 - 18 = \dots\dots\dots$

$= \dots\dots\dots$

$5 + 5 \times 7 = \dots\dots\dots$

$= \dots\dots\dots$

Bài 4: Mỗi bàn có 5 ng- ời ăn. Hỏi 9 bàn nh- thể có bao nhiêu ng- ời ăn?

Tóm tắt

Bài giải

.....

.....

.....

.....

.....

Bài 5: Mỗi chai dầu đựng đ- ợc 3l. Hỏi 7 chai nh- thể có bao nhiêu lít dầu?

Tóm tắt

Bài giải

.....

.....

.....

Bài 6: Tìm hai số có tổng là 11 và tích là 30

.....

.....

.....

Bài 7: Tìm hai số có tích là 24 và hiệu là 5

.....

.....

.....

Bài 8: Đặt tính rồi tính

2 x 5      5 x 5      4 x 7      3 x 9      5 x 8      2 x 9      5 x 7      3 x 8

.....

.....

.....

Bài 9:Viết tiếp 3 số nữa:

a, 12, 15, 18, ..., ....., .....,30.

b, 24, 21, 18,....., .....,....., 6.

Bài 10:Điền dấu + , - , x vào chỗ chấm thích hợp

$4 \dots 4 \dots 4 = 4$

$4 \dots 4 \dots 4 = 12$

$4 \dots 4 \dots 4 = 20$

$4 \dots 4 \dots 4 = 4$

$4 \dots 4 \dots 4 = 12$

$4 \dots 4 \dots 4 = 20$

## KIỂM TRA ĐỌC HIỂU

### A. Đọc thầm

Cheo cheo là loài thú nhút nhát, sống trong rừng. Chúng có lông màu nâu sẫm nh- lá bàng khô, phải tinh mắt mới thấy đ- ọc. Cheo cheo đi ăn cả ngày lẫn đêm. Vào tuần trăng sáng, chúng đi ăn lúc trăng sắp mọc, chân đạp trên lá khô xào xạc. Khi kiếm ăn, cheo cheo dũi mũi xuống đất để đào giun hoặc mầm măng, vì vậy mũi không đánh hơi đ- ọc. Đã thế, tai cheo cheo lại cụp xuống, nên không thính. Khi có động, chúng không chạy ngay mà còn dừng lại vênh tai lên để nghe, thấy nguy hiểm thực sự mới lò dò chạy.

Theo **THIÊN LÔNG**

Dựa theo nội dung của bài, khoanh tròn vào chữ đặt trước câu trả lời đúng

1. *Cheo cheo là loài thú thế nào?*

a. Hung dữ

b. Khôn ngoan

c. Nhút nhát

2. *Cheo cheo có màu lông nh- thế nào?*

a. Màu nâu sẫm nh- lá bàng khô.

b. Màu lá bàng xanh t- ươi.

c. Màu vàng nhạt.

3. *Cheo cheo đi ăn vào thời gian nào?*

a. Ban ngày

b. Những đêm trăng sáng

c. Cả ngày lẫn đêm.

4. *Trong câu: Cheo cheo là loài thú nhút nhát, sống trong rừng. Từ ngữ nào trả lời câu hỏi Con gì?*

a. Cheo cheo

b. Loài thú

c. Sống trong rừng

5. *Bộ phận in đậm trong câu: Tai cheo cheo không thính. Trả lời cho câu hỏi nào?*

a. làm gì?

b. là gì?

c. thế nào?

6. *Trong câu: Cheo cheo là loài thú nhút nhát, sống trong rừng. Từ nhút nhát là từ chỉ gì?*

a. hoạt động

b. đặc điểm

c. sự vật

7. *Đặt câu hỏi cho bộ phận câu gạch chân.*

a, Cheo cheo dũi mũi xuống đất để đào giun.

b. Vào tuần trăng sáng Cheo cheo lại đi kiếm ăn.

8. *Điền dấu câu thích hợp vào ô trống:*

Bác Tám xoa đầu Tí, nói :

- Tí học khá lắm  Bác th- ởng cho cháu hộp bánh

Quay sang Bờm  bác hỏi



- Còn Bờm, cháu học hành thế nào
- Dạ, th- a bác, cháu học khá gấp đôi em Tí ạ.

Họ và tên:.....  
Lớp 2...

## PHIẾU CUỐI TUẦN 21

### **Bài 1: Tính:**

$$4 \times 5 + 16 = \dots\dots\dots \quad 2 \times 7 + 38 = \dots\dots\dots \quad 3 \times 9 + 13 = \dots\dots\dots \quad 4 \times 4 + 26 = \dots\dots\dots$$

$$= \dots\dots\dots \quad = \dots\dots\dots \quad = \dots\dots\dots \quad = \dots\dots\dots$$

$$2 \times 1 - 2 = \dots\dots\dots \quad 4 \times 9 - 17 = \dots\dots\dots \quad 4 \times 8 - 19 = \dots\dots\dots \quad 1 \times 3 + 97 = \dots\dots\dots$$

$$= \dots\dots\dots \quad = \dots\dots\dots \quad = \dots\dots\dots \quad = \dots\dots\dots$$

### **Bài 2: Viết tích thành tổng rồi tính theo mẫu:**

$$25 \times 4 = 25 + 25 + 25 + 25 = 100 \quad ; \quad 15 \times 6 = \dots\dots\dots$$

$$29 \times 3 = \dots\dots\dots \quad ; \quad 16 \times 5 = \dots\dots\dots$$

**Bài 3:** Tính độ dài đ- ờng gấp khúc ABCD biết đoạn AB dài 25cm, đoạn CD dài 10cm, đoạn BC dài 29cm.

.....

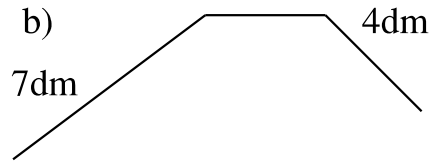
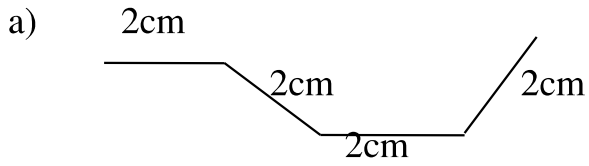
.....

.....

.....

### **Bài 4: Đặt tên rồi tính độ dài mỗi đ- ờng gấp khúc sau:**

3dm



.....

.....

.....

.....

**Bài 5: Số?**

<b>Thừa số</b>	5	4		4	5		5
<b>Thừa số</b>	4		10	9		2	
<b>Tích</b>	20	16	30		40	8	25

**Bài 6:** Mỗi học sinh giỏi đ- ọc tặng 4 quyển vở. Hỏi 9 học sinh giỏi đ- ọc tặng bao nhiêu quyển vở?

Tóm tắt

Bài giải

.....	.....
.....	.....
.....	.....

**Bài 7:** Nhà Tú nuôi 7 con gà. Hỏi có tất cả bao nhiêu cái chân?

Tóm tắt

Bài giải

.....	.....
.....	.....
.....	.....

Họ và tên:.....  
Lớp 2...

## PHIẾU CUỐI TUẦN 21

**Bài 1:** Viết đoạn văn ngắn nói về mùa xuân.

.....  
.....  
.....  
.....

**Bài 2:** Viết đoạn văn ngắn nói về một loài chim mà em biết?

.....  
.....  
.....  
.....

**Bài 3:** Đặt câu hỏi có cụm từ ở đâu cho mỗi câu sau:

a) Ông em trồng cây xoài cát này tr-ớc sân.

.....

b) Mẹ chọn những quả xoài chín vàng và to nhất bày lên bàn thờ ông.

.....

c) Đàn trâu thung thẳng gặm cỏ trên cánh đồng.

.....

d) Chim én bay trên mặt n-ớc sông Hồng.

.....  
e) Chim chích choè đậu trên cành cây cao tr-ớc nhà.  
.....

Họ và tên:.....

Lớp 2...

## PHIẾU CUỐI TUẦN

### Bài 1: Tính:

$5 \times 1 - 5 = \dots\dots\dots$

$= \dots\dots\dots$

$2 \times 9 - 19 = \dots\dots\dots$

$= \dots\dots\dots$

$3 \times 8 - 15 = \dots\dots\dots$

$= \dots\dots\dots$

$1 \times 2 + 98 = \dots\dots\dots$

$= \dots\dots\dots$

### Bài 2: Viết tích thành tổng rồi tính theo mẫu:

$15 \times 5 = 15 + 15 + 15 + 15 + 15 = 75$

$12 \times 5 = \dots\dots\dots$

$24 \times 4 = \dots\dots\dots$

$14 \times 6 = \dots\dots\dots$

**Bài 3:** Nhà Tú nuôi 8 con gà và 5 con chó. Hỏi có tất cả bao nhiêu cái chân?

Tóm tắt

Bài giải

.....

.....

.....

.....

.....

.....