






**Bài 5:**

+
-

40 ..... 10 = 30  
70 ..... 0 = 70

50 ..... 30 = 80  
90 ..... 40 = 50

**Bài 6:** Vẽ 3 điểm ở trong hình tròn  
Vẽ 3 điểm ở ngoài hình tròn



**Bài 7:** Giải bài toán theo tóm tắt sau:

**Tóm tắt**

Có : 15 cây hoa  
Trồng thêm: 4 cây hoa  
Có tất cả : .....cây hoa?

**Bài giải**

~~~~~  
~~~~~

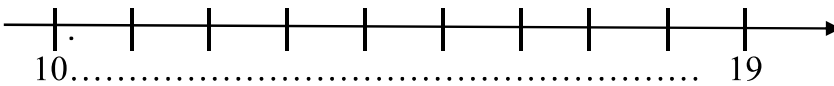
**Bài 8:** Một cửa hàng có 30 xe máy, đã bán 10 xe máy. Hỏi cửa hàng còn lại bao nhiêu xe máy

**Bài giải**

~~~~~  
~~~~~

**Bài 1:**

a.Điền số vào dưới mỗi vạch của tia số



b.Viết các số

Mười bốn .....	Chín mươi .....
Mười tám.....	Sáu mươi .....
Ba mươi .....	Mười chín .....
Bảy mươi .....	Mười hai .....

c.Viết các số : 9, 5, 14, 17

+ Theo thứ tự từ bé đến lớn:.....  
+ Theo thứ tự từ lớn đến bé:.....


**Bài 2:** Tính :

a) 
$$\begin{array}{r} 90 \\ - 50 \\ \hline \end{array}$$
 
$$\begin{array}{r} 40 \\ + 30 \\ \hline \end{array}$$
 
$$\begin{array}{r} 19 \\ - 5 \\ \hline \end{array}$$
 
$$\begin{array}{r} 90 \\ - 20 \\ \hline \end{array}$$
 
$$\begin{array}{r} 60 \\ - 60 \\ \hline \end{array}$$

.....

b).  $12\text{cm} + 5\text{cm} = \dots\dots\dots$        $16 + 3 - 5 = \dots\dots\dots$

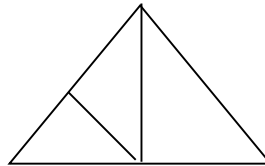
**Bài 3 :** a. Vẽ 2 điểm trong hình tròn và 3 điểm ngoài hình tròn



b. Khoanh vào chữ cái chỉ đáp án đúng

Hình vẽ bên có :

- a. 4 hình tam giác
- b. 5 hình tam giác



**Bài 4 :**

Thùng thứ nhất đựng 30 gói bánh . Thùng thứ hai đựng 20 gói bánh. Hỏi cả hai thùng đựng bao nhiêu gói bánh ?

**Bài giải**

~~~~~  
~~~~~

b. Trên tường có 14 bức tranh ,người ta treo thêm 4 bức tranh nữa . Hỏi trên tường có tất cả bao nhiêu bức tranh?

**Bài giải**

~~~~~  
~~~~~

**Bài 5 :** Điền dấu (<, >, =) vào ô trống

$14 - 4$    $13$        $12$    $14 - 2$        $15 - 5$    $15 - 4$

**Bài 6 :** Điền các số thích hợp vào ô trống để có phép tính đúng?

	+		=	13
--	---	--	---	----

	-		=	5
--	---	--	---	---

**ĐỀ SỐ 9**

**Bài 1:**

a) Điền số vào chỗ chấm:      20; .....; 40; .....; 60; .....; 80; ..... .

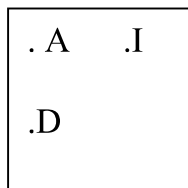
b) Viết các số vào chỗ chấm:

Mười bốn: ..... Mười chín:.....Chín mươi: .....      Ba mươi: .....

c) Khoanh tròn vào số lớn nhất: 10; 7; 14; 9; 5.

d) Khoanh tròn vào số bé nhất: 8; 20; 17; 5; 19 .

**Bài 2:** Đúng ghi Đ, sai ghi S



Điểm A ở trong hình vuông

. B

Điểm B ở ngoài hình vuông

