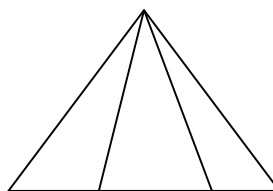


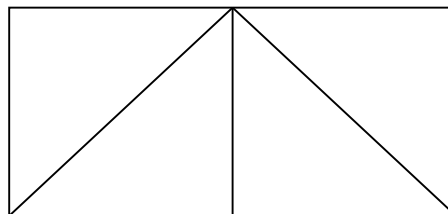
Bài 24 Hình vẽ bên có :

a) hình tam giác?



b) Có hình vuông.

Có hình tam giác.



Bài 25

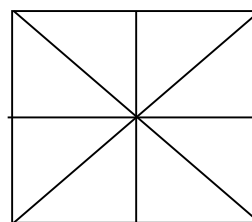
a)

b)

Trong hình vẽ bên có:

..... hình vuông.

..... hình tam giác.



Bài 26 Viết số thích hợp vào chỗ chấm:

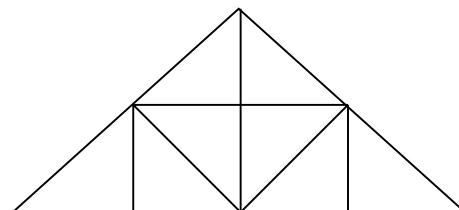
Trong hình vẽ bên có:

a)

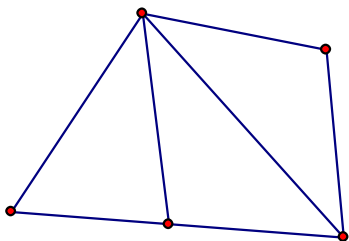
b)

..... hình vuông.

..... hình tam giác.



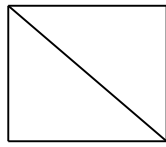
Bài 27 Hình dưới đây:



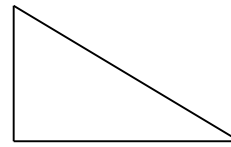
Có hình tam giác

Có đoạn thẳng

Bài 28: Mỗi hình vẽ dưới đây có bao nhiêu đoạn thẳng ?



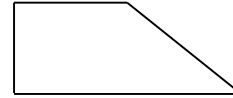
Có đoạn thẳng



Có đoạn thẳng

Bài 30: Vẽ thêm một đoạn thẳng để có:

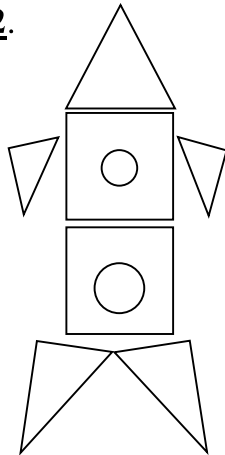
- Một hình vuông và một hình tam giác ?



Bài 31: Vẽ đoạn thẳng MN có độ dài 8 cm?

.....
.....

Bài 32.



Hình vẽ bên có : hình tam giác

..... hình vuông

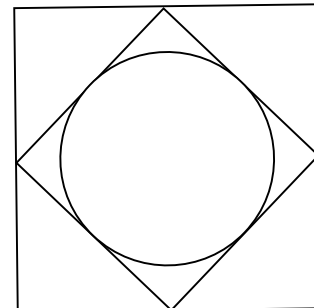
..... hình tròn

Bài 33.Viết số thích hợp vào chỗ chấm :

Hình vẽ bên có : hình tam giác

..... hình tròn

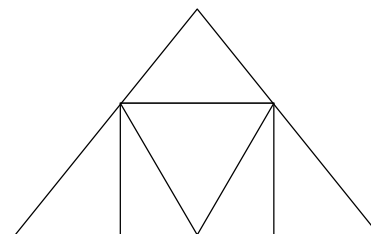
..... hình vuông



Bài 34:

a, Có bao nhiêu hình chữ nhật ?

Có tất cả số hình chữ nhật là



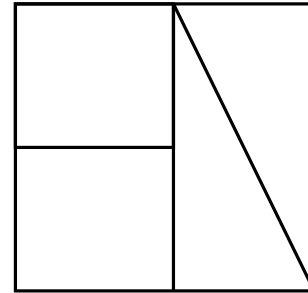
b, Có bao nhiêu hình tam giác ?

Có tất cả số hình tam giác là

Bài 35.Điền số thích hợp vào chỗ chấm.

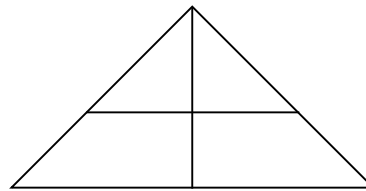
Hình dưới đây có: hình chữ nhật

:.....hình tam giác



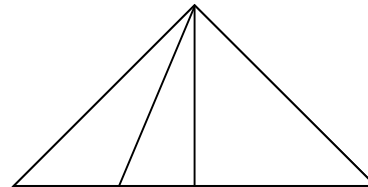
Bài 36.Hình bên gồm :

- a. 4 hình tam giác
- b. 5 hình tam giác
- c. 6 hình tam giác
- d. 7 hình tam giác



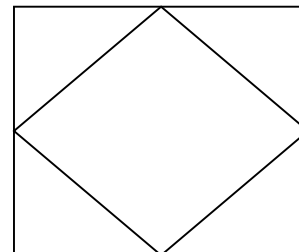
Bài 37.Hình bên gồm :

- a. 4 hình tam giác
- b. 5 hình tam giác
- c. 6 hình tam giác
- d. 7 hình tam giác
- e. 10 tam giác

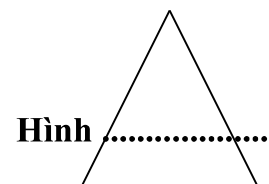
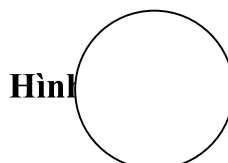



Bài 38.Viết số thích hợp vào chỗ chấm hình vẽ bên có ?

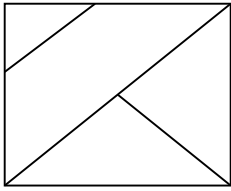
-hình tam giác ?
-hình vuông ?



Bài 39 Viết tên mỗi hình vào chỗ chấm:



Bài 40. cho hình vẽ



- a. Trong hình có bao nhiêu hình vuông? Có.....Hình vuông
- b. Trong hình có bao nhiêu hình tam giác? Có.....Hình tam giác