

Ma trận đề kiểm tra cuối năm- Môn: Toán lớp 2
Năm học 2016- 2017

Mạch kiến thức, kĩ năng	Số câu và số điểm	Mức 1		Mức 2		Mức 3		Mức 4		Tổng	
		TN	TL	TN	TL	TN	TL	TN	TL	TN	TL
Số học và phép tính: Cộng, trừ không nhớ (có nhớ) trong phạm vi 1000; nhân, chia trong phạm vi các bảng tính đã học	Số câu	2	1		1		1		1	6	1
	Câu số	2	6		5		7		10		
	Số điểm	0,5	1		2		1		1	4	1
Đại lượng và đo đại lượng: mét, ki- lô- mét; mi – li – mét; đề - xi – mét; lít; ki- lô- gam; ngày; giờ; phút	Số câu			1						2	
	Câu số			1							
	Số điểm			0,5						1	
Yếu tố hình học: hình tam giác; chu vi hình tam giác; hình tứ giác; chu vi hình tứ giác; độ dài đường gấp khúc	Số câu	1	1	1						3	
	Câu số	3	8	4							
	Số điểm	1	0,5	0,5						2	
Giải bài toán đơn về phép cộng, phép trừ, phép nhân, phép chia.	Số câu						1				1
	Câu số						9				
	Số điểm						2				2
Tổng	Số câu	2	2	2	1		2		1	4	6
	Số điểm	1,5	1,5	1	2		3		1	2,5	7,5

PHÒNG GD & ĐT ĐÀ BẮC KIỂM TRA CUỐI KỲ II NĂM HỌC 2016 – 2017
TRƯỜNG TH ĐỒNG CHUM A MÔN TOÁN LỚP 2

Họ và tên học sinh : Lớp :

Giáo viên coi, chấm (kí, ghi rõ họ tên):.....

<u>Điểm</u>	<u>Nhận xét của giáo viên</u>

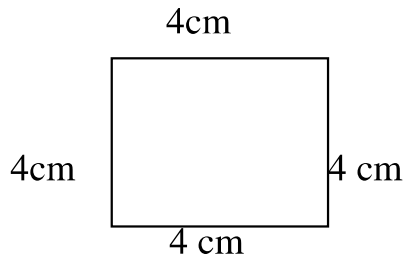
Câu 1: 1 m = cm ? Số thích hợp cần điền vào chỗ trống là: (M2- 0.5)

- a . 10 cm b. 100 cm c. 1000 cm d . 1 cm

Câu 2: 0 : 4 = ? Kết quả của phép tính là: (M1- 0,5)

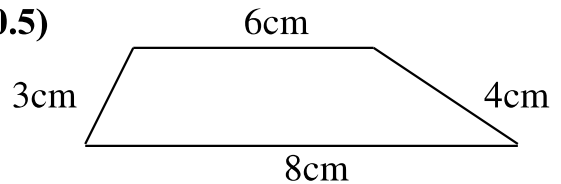
- a. 0 b. 1 c. 4 d. 40

Câu 3: (0,5đ) Độ dài đường gấp khúc sau là: (M1- 1)



- a. 16 cm b. 20 cm c. 15 cm d. 12 cm

Câu 4: Chu vi hình tứ giác sau là: (M2- 0.5)



- a. 19cm b. 20cm c. 21cm d. 22cm

Câu 5 : Đặt tính rồi tính (M2- 2)

- a) 465 + 213 b) 857 – 432 c) 56 – 19 d) 34 + 46

.....

.....

.....

Câu 6: Tính (M1- 1)

5 x 0 = 32 : 4 = 21 : 3 = 5 x 8 =

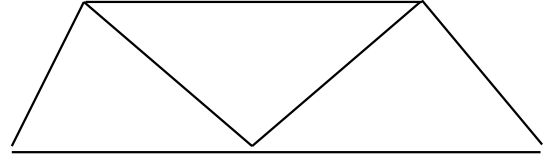
Câu 7: Viết tiếp vào chỗ chấm cho thích hợp (M3- 1)

**Lớp 2 C có 21 học sinh nữ. Số học sinh nữ nhiều hơn số học sinh nam là 6 em.
Hỏi lớp 2 C có bao nhiêu học sinh nam ?**

Trả lời: Lớp 2C có số học sinh nam là:

Câu 8: Hình bên có hình tứ giác (M1- 0.5)

Hình bên có hình tam giác



Câu 9: Bài toán : (M3- 2)

Một bác thợ may dùng 16 m vải để may 4 bộ quần áo giống nhau. Hỏi để may một bộ quần áo như thế cần bao nhiêu mét vải ?

Bài giải

.....
.....
.....

Câu 10: Viết số lớn nhất có ba chữ số và số bé nhất có ba chữ số.(M4 -1)

.....
.....

ĐÁP AN MÔN TOÁN LỚP 2

Câu số	1	2	3	4
Đáp án đúng	b	a	a	c

Câu 5: Đặt tính và tính đúng , mỗi phép tính 0,5 đ

Câu 6: Mỗi kết quả đúng 0,5 đ

Câu 7: (1đ). Tính được số HS nam là $21 - 6 = 15$ (HS)

Câu 8:(0,5đ) Tìm được : 3 hình tứ giác và 3 tam giác

Câu 9:(2đ)Viết được lời giải đúng 0,5 đ; tính $16 : 4 = 4$ (m) được 1,25 đ; đáp số 0,25 đ

Câu 10:(1đ) Tìm được : 999 và 100

Ma trận đề thi cuối năm môn Tiếng Việt lớp 2
Năm học 2016 - 2017

Mạch kiến thức, kỹ năng	Số câu và số điểm	Mức 1		Mức 2		Mức 3		Mức 4		Tổng	
		TN	TL	TN	TL	TN	TL	TN	TL	TN	TL
Kiến thức Tiếng Việt: - Nhận biết được các từ chỉ sự vật, hoạt động, đặc điểm, tính chất. - Nêu được các từ trái nghĩa với các từ cho sẵn - Biết đặt câu và TLCH theo các kiểu câu Ai là gì? Ai làm gì? Ai thế nào? Biết đặt câu hỏi với các cụm từ Ở đâu? Như thế nào? Khi nào? Vì sao? - Biết cách dùng dấu chấm, dấu phẩy, dấu chấm than, dấu hỏi chấm.	Số câu	1			1		1	0		3	
	Câu số	1			4						
	Số điểm	0.5			0.5		1	0		2	
Đọc hiểu văn bản: - Biết nêu nhận xét đơn giản một số hình ảnh, nhân vật hoặc chi tiết trong bài đọc; liên hệ được với bản thân, thực tiễn bài học. - Hiểu ý chính của đoạn văn, nội dung bài - Biết rút ra bài học, thông tin đơn giản từ bài học.	Số câu	2		1	1	1			1	6	
	Câu số	2,3		5	6						
	Số điểm	1		0,5	0,5	1			1	4	
Tổng	Số câu	3		1	2	1	1		1	8	1
	Số điểm	1.5		0.5	1	1	1		1	5	1