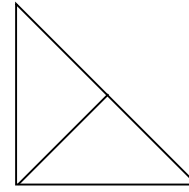


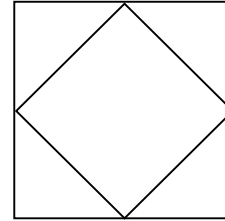
Bài 1 Điền số thích hợp vào chỗ chấm.

Có :hình tam giác

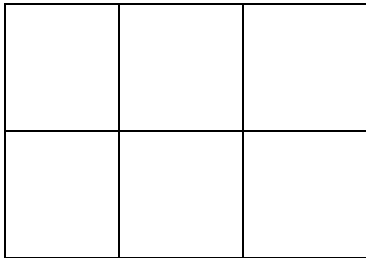


Bài 2: Hình bên có:

- hình tam giác.
- hình vuông



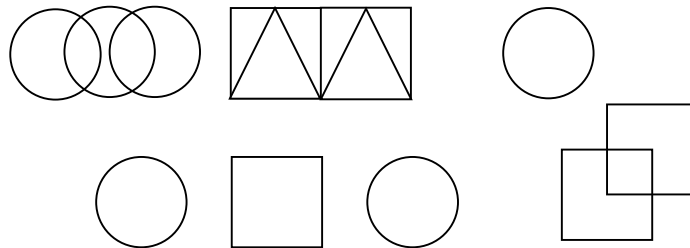
Bài 3: Hình bên có mấy hình vuông?



Có hình vuông.

Có hình chữ nhật.

Bài 4



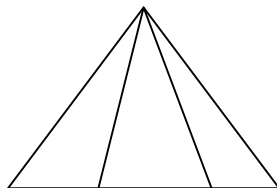
a) Có..... hình tròn.

b) Có hình tam giác.

c) Có hình vuông.

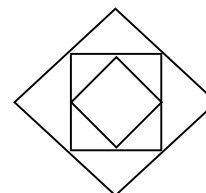
Bài 5 Trong hình dưới đây

a/



Có hình tam giác

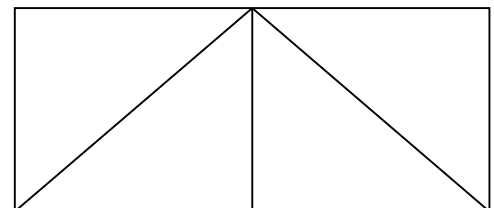
b/



Có hình vuông

Bài 6: Khoanh vào chữ cái trước ý trả lời đúng:

Hình bên có số hình tam giác là:



A. 4

B. 5

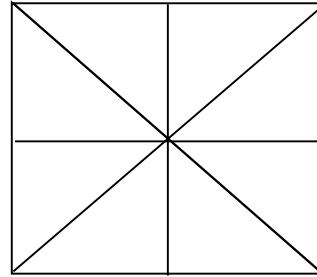
C. 6

Bài 7: Hình vẽ bên có:

..... hình tam giác

..... hình vuông

.....hình chữ nhật

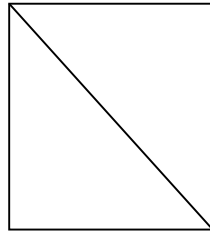


Bài 8:

Hình vẽ bên có:

- Có.....hình tam giác

- Có.....hình vuông

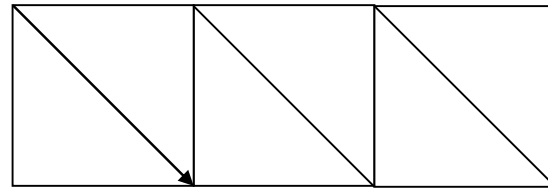


Bài 9: Hình vẽ bên có:


- Có.....hình tam giác

- Có.....hình vuông

- Có hình chữ nhật



Câu 10 . Trong hình dưới đây có mấy hình vuông?

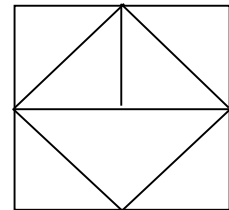


- Có.....hình vuông

Bài 11: Hình bên có:

- hình tam giác.

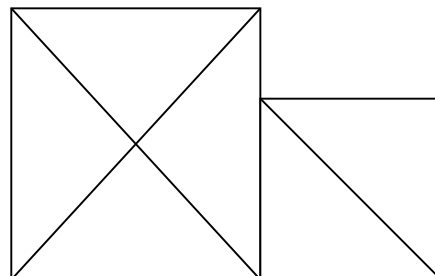
- hình vuông



Bài 12: Hình bên có:

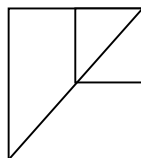
- hình tam giác.

- hình vuông



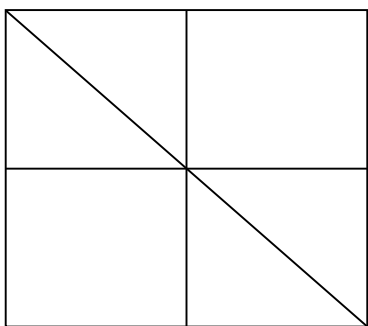
Bài 13: Hình bên có:

- Có hình vuông
- Có hình tam giác



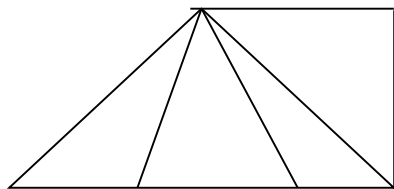
Bài 14: Hình bên có:

Có hình vuông Có hình chữ nhật. Có hình tam giác



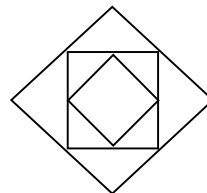
Bài 15: Hình dưới có

a



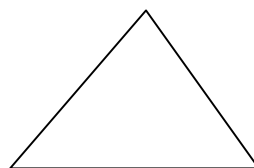
Có hình tam giác

b/

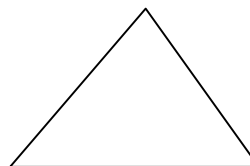


Có hình vuông

Bài 16 Vẽ thêm một đoạn thẳng để có 3 hình tam giác.

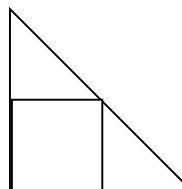


Bài 17 Vẽ thêm một đoạn thẳng để có 2 hình tam giác.

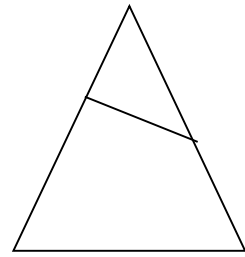


Bài 18: Hình bên có:

- Có hình vuông
- Có hình tam giác



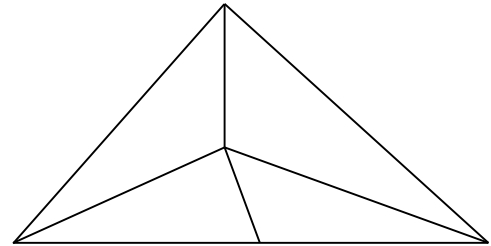
Bài 19 Kẻ thêm 1 đoạn thẳng để có 3 hình tam giác.



Bài 20 Hình bên có:

Có hình vuông

Có hình tam giác



Bài 21 Hình bên có:

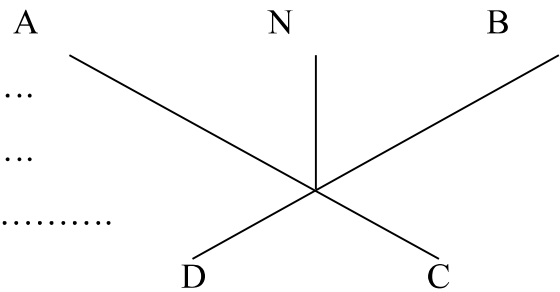
..... đoạn thẳng, đó là:

.....

..... điểm, đó là:

..... hình tam giác, đó là:

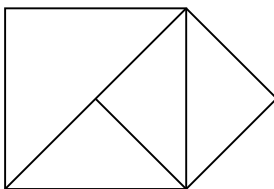
.....



Bài 22 Trong hình bên :

a) Có hình tam giác.

b) Có hình vuông.



Câu 23 Trong hình bên :

a) Có hình tam giác.

b) Có hình vuông.

