

**Bài 2:** Có 48 lít dầu, người ta muốn đựng vào các thùng loại 5 lít. Hỏi cần tất cả bao nhiêu thùng để đựng hết số dầu?

.....  
.....  
.....  
.....

**Bài 3 :** Khoanh vào đáp án đúng

a)  $30\text{ g} - 18\text{ g} : 6$

- A. 12 g                      B. 27 g                      C. 2g                      D. 8 g

b)  $108 - 60 : 6 =$

- A. 98                      B. 8                      C. 34                      D. 48

c)  $42\text{ lít} : 6 + 17$

- A. 10 lít                      B. 14 lít                      C. 24 lít                      D. 55 lít

**Bài 4 :**  $1\text{ km}$    $1\text{ kg}$  điền dấu vào ô trống là :

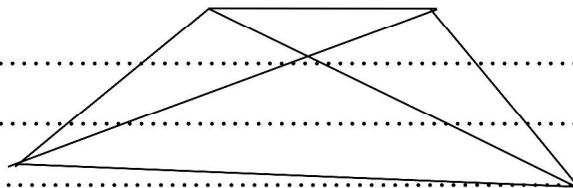
- A. Dấu  $>$                       B. Dấu  $<$                       C. dấu  $=$                       D. không dấu nào cả

**Bài 5 :** Số tam giác trong hình vẽ là :

- A. 4 hình                      B. 6 hình                      C. 8 hình                      D. 7 hình

Đó là : các hình :

.....  
.....  
.....  
.....



**Bài 6 :** Nối biểu thức với giá trị của nó

$$9 \times (178 - 174)$$

35

$$8 + 9 \times 3$$

36

$$44 : 4 \times 3$$

38

## Đề luyện tập môn toán lớp 3

Đề số 21 :

Bài 1: Tìm x :

a)  $9 \times x = 36 \times 2$

b)  $x : 7 = 48 : 2$

c)  $64 : x = 32 : 4$

.....

.....

.....

.....

**Bài 2:** Tìm một số biết rằng số đó nhân với 9 rồi cộng với 235 thì bằng 883

.....  
.....  
.....  
.....  
.....  
.....

**Bài 3 :** Tính :

a)  $5 \text{ dam} + 7 \text{ dam} = \dots\dots\dots$

b)  $13 \text{ hm} + 4 \text{ hm} = \dots\dots\dots$

$15 \text{ dam} \times 3 = \dots\dots\dots$

$27 \text{ m} \times 2 = \dots\dots\dots$

$32 \text{ km} - 15 \text{ km} = \dots\dots\dots$

$30 \text{ mm} : 5 = \dots\dots\dots$

$88 \text{ dm} : 4 = \dots\dots\dots$

$69 \text{ km} : 3 = \dots\dots\dots$

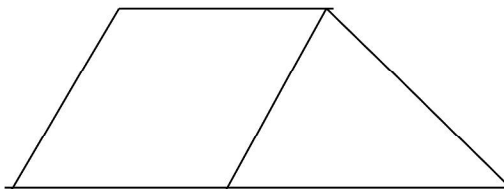
**Bài 4 :** Chọn câu trả lời đúng :

Lớp 2A có 35 học sinh , lớp 2B có ít hơn 5 học sinh .Số học sinh cả hai lớp có là :

A. 75 học sinh                      B. 60 học sinh

C. 70 học sinh                      D. 65 học sinh

**Bài 5 :** Hãy vẽ thêm một đoạn thẳng trong hình vẽ để được 3 hình tam giác và 3 hình tứ giác .



## Đề luyện tập môn toán lớp 3

### Đề số 22 :

**Bài 1:** đặt tính rồi tính :

$423 \times 2$

$243 \times 3$

$231 \times 4$

$933 : 3$

$676 : 8$

.....  
.....  
.....  
.....

**Bài 2: điền dấu**

a)  $125 \times 5$    $129 \times 4$                       b)  $47 \times 3$   5

c)  $918 : 3$    $123 \times 3$                       d)  $693 : 3$   553

**Bài 3: Khoanh vào đáp án đúng :**

a)  $100 : 5 : 4$

- A. 20                      B. 5                      C. 16                      D. 24

b)  $\frac{1}{6}$  ngày là :

- A. 4 giờ                      B. 8 giờ                      C. 2 giờ                      D. 3 giờ

c) Cách tính nào đúng

- A.  $5 + 6 \times 1 = 5 + 6 = 11$                       B.  $5 + 6 \times 1 = 11 \times 1 = 11$   
C.  $5 + 6 : 1 = 11 : 1$                       D.  $5 \times 1 + 6 = 5 \times 7 = 35$

**Bài 4 : Có 234 kg gạo chia đều vào 9 túi . Hỏi mỗi túi có bao nhiêu kg gạo ?**

.....  
.....  
.....  
.....

## Đề luyện tập môn toán lớp 3

Đề số 23 :

**Bài 1: đặt tính rồi tính**

a)  $4268 + 3917$                       b)  $3845 + 2625$                       c)  $7331 - 759$                       d)  $135 \times 9$

.....  
.....  
.....  
.....

e)  $2457 : 3$

$1414 \times 5$

$1736 - 456$

$1204 : 4$

**Bài 2: Tìm x biết**

a)  $15 : x = 24 : 8$

b)  $42 : x = 36 : 6$

c)  $84 : x = 18 : 9$

**Bài 3:** Thùng thứ nhất có 16 lít dầu , thùng thứ nhất có số dầu bằng  $\frac{1}{8}$  số dầu thùng thứ hai . Hỏi thùng thứ hai có bao nhiêu lít dầu ?

.....  
**Bài 4 :** Chị An năm nay 16 tuổi , tuổi của bố chị An gấp 3 lần tuổi của chị An . Hỏi hai bố con chị An năm nay bao nhiêu tuổi ?  
.....  
.....  
.....  
.....  
.....  
.....  
.....  
.....  
.....  
.....  
.....  
.....  
.....  
.....  
.....  
.....

**Bài 4:** Nối biểu thức với giá trị tương ứng của nó

150 + 3

123 x 4

70 - 2

175 : 35

492

221

153

65

84

68

65

5

452 - 231

42 x 2

90 - 25

195 : 3

## Đề luyện tập môn toán lớp 3

Đề số 24 :

**Bài 1:** Đặt tính rồi tính

134 x 3

789 x 2

604 : 2

875 : 5

.....  
.....  
.....

**Bài 2: Tính**

a)  $5 \times 235 + 124 = \dots\dots\dots$                       b)  $(35 + 45) \times 2 = \dots\dots\dots$

c)  $125 - 125 : 5 = \dots\dots\dots$                       d)  $239 + 936 : 9 = \dots\dots\dots$

**Bài 3 :** Một gói kẹo có 40 cái kẹo , sau khi chia cho các bạn thì còn lại  $\frac{1}{5}$  số kẹo .

**Hỏi** trong gói còn lại bao nhiêu cái kẹo .

**Bài 4 :**

Số bị chia	36	63	45		81		72	
Số chia	9	9	9	9	9	9	9	9
Thương				6		2		3

**Bài 5 :** Có 54 con thỏ nhốt đều vào 9 chuồng . Hỏi mỗi chuồng có mấy con thỏ .

**Bài 6 :** điền dấu thích hợp vào ô trống

15 g        81 g : 9                      1kg                       + 35 g

45g : 9 + 8 g     0 g                      392 g - 6g                       + 9g

**Bài 7 : Số gì ?**

Gấp 3 lần                      Giảm 3 lần

12 ----->  ----->

Gấp 5 lần                      Giảm 5 lần

10 ----->  ----->

**-Đề luyện tập môn toán lớp 3**  
**Đề số 25:**

**Bài 1: đặt tính rồi tính :**

49 x 4

763 x 7

789 : 3

568 : 2

1234 – 999

.....  
.....



Bài 2: Tìm X

a)  $36 : x = 36 - 28$

b)  $72 : x = 8 + 1$

c)  $x + 24327 = 68586$

Bài 3 : Điền số thích hợp vào chỗ chấm :



Bài 4 : Hùng có 16 que tính . Minh có nhiều hơn Hùng 7 que tính nhưng ít hơn Hải 3 que . Hỏi Minh và Hải mỗi bạn có bao nhiêu que tính ?

## Đề luyện tập môn toán lớp 3

### Đề số 26

Bài 1: đặt tính rồi tính :

a)  $367 + 478$

b)  $506 - 327$

c)  $98 \times 6$

d)  $89 : 4$

**Bài 2: Tính nhẩm**

$305 + 55 = \dots\dots\dots$

$450 - 150 = \dots\dots\dots$

$6 \times 8 = \dots\dots\dots$

$150 + 240 = \dots\dots\dots$

$517 - 17 = \dots\dots\dots$

$9 \times 7 = \dots\dots\dots$

$36 : 6 = \dots\dots\dots$

$81 : 9 = \dots\dots\dots$

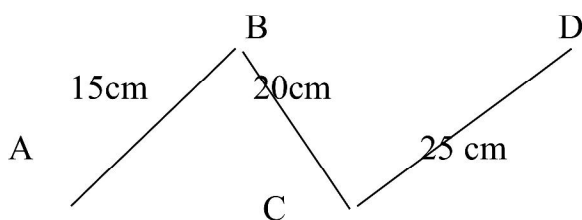
$72 : 8 = \dots\dots\dots$

**Bài 3 :** Có 32 m vải may được 8 bộ quần áo . Hỏi may mỗi bộ quần áo hết mấy m vải

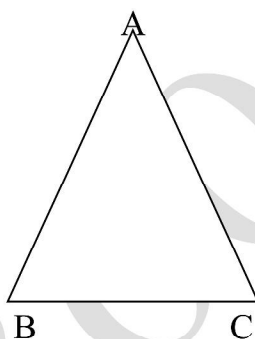
**Bài 4 :** Con lợn lớn nặng 136 kg. Con lợn nặng hơn con lợn bé 18 kg . Hỏi cả hai con lợn nặng bao nhiêu kg ?

**Bài 5 :** Tính  $\frac{1}{6}$  của mỗi số sau : 18 ; 36 ; 42 ; 54

Bài 7 : a) Tính độ dài đường gấp khúc



b) Tính chu vi hình tam giác ABC



## Đề luyện tập môn toán lớp 3

Đề số 27

Bài 1: đặt tính rồi tính

Group: <https://www.facebook.com/groups/talieutieuhocvathcs/>

82 x 7

95 x 8

96 : 8

75 : 6

.....

.....

.....

.....

.....

.....

.....

**Bài 2:** Tìm  $\frac{1}{6}$  của 54

.....

**Bài 3 :** Cho số 9 hãy gấp số đã cho lên 6 lần được bao nhiêu cộng với 18 . Kết quả cuối cùng là bao nhiêu

.....

.....

.....

**Bài 4 :** Nếu giảm 96 đi 4 lần thì được bao nhiêu

.....

.....

**Bài 5 :** Một kho gạo có tất cả 972 bao gạo . Sau khi bán một ngày thì số gạo giảm đi 3 lần . Hỏi :

- a) Cửa hàng còn bao nhiêu bao gạo ?
- b) đã bán đi bao nhiêu bao gạo ?

.....

.....

.....

Bài 6 : Tìm x

a)  $X \times 7 = 875$

b)  $852 : X = 6$

c)  $9 \times X = 909$

.....

.....

.....

.....

.....

.....

.....

.....

.....

.....

.....

.....

# Đề luyện tập môn toán lớp 3

## Đề số 28

Bài 1 : Viết vào ô trống theo mẫu

Số lớn	24	42	49	56	72	81	63
Số bé	4	7	7	8	9	8	7
Số lớn hơn số bé							
Số lớn gấp số bé							

Bài 2: Có 40 quả cam bày vào 8 đĩa . Hỏi mỗi đĩa có mấy quả cam ?

.....

.....

.....

Bài 3 : Tính giá trị của biểu thức :

a)  $9 \times 13 + 234 =$ .....

.....

b)  $9 \times 9 + 49 =$ .....

.....

c)  $342 : 2 - 99 =$ .....

.....

Bài 4 : Một người đem bán gà , người đó đã bán 18 con gà . Tính ra người đó đã bán  $\frac{1}{9}$  số gà . Hỏi người đó đem bán bao nhiêu con gà ?

.....

.....

.....

.....

.....

.....

.....

.....

.....

.....

Bài 5 : Cách tính nào sai

A.  $37 - 5 \times 5 = 12$

B.  $37 - 5 \times 5 = 160$

C.  $180 : 6 + 34 = 64$

D.  $31 + 64 : 4 = 47$

Bài 6 : Góc nào trong 3 góc này là góc vuông , hãy nêu tên cạnh và đỉnh của góc đó

