

.....
.....
Bài 9: Hoa gấp được 40 ngôi sao, chị cho Hoa thêm 50 ngôi sao nữa.
Hỏi Hoa có tất cả bao nhiêu ngôi sao?

.....
.....
.....
.....
Bài 10: Thu gấp được 57 máy bay, Thu tặng bạn 34 máy bay. Hỏi Thu còn lại bao nhiêu máy bay?

.....
.....
.....
.....
Bài 11: Đoạn thẳng AB dài 10 cm, đoạn thẳng BC dài 19 cm. Hỏi cả hai đoạn thẳng dài bao nhiêu xăng-ti-mét?

.....
.....
Bài 12:

a, Một thanh gỗ dài 85cm, Lan cắt đi 25cm. Hỏi thanh gỗ còn lại dài bao nhiêu xăng ti mét?

.....

.....

.....

.....

.....

b, Giải bài toán theo tóm tắt sau:

Tóm tắt

Bài giải:

An và Tú có: 68 viên bi

Tú có 33 viên bi

An cóviên bi?

Bài 13: Lan có 70 cái nhãn vở, Lan cho Huệ và Đào mỗi bạn 20 cái nhãn vở. Hỏi Lan còn bao nhiêu cái nhãn vở?

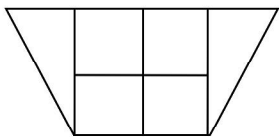
.....

.....

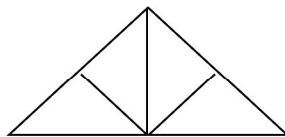
.....

.....

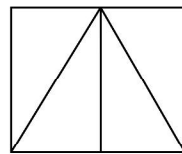
Bài 14: Hình vẽ bên có



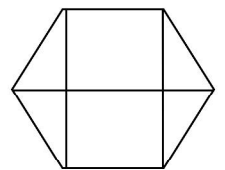
a,hình vuông
b,hình tam giác
giác



a,hình vuông
b,hình tam giác



a, ...hình vuông
b,hình tam giác



a, ...hình vuông
b,hình tam

Phần nâng cao

Bài 1: Bình hỏi Minh: “Năm nay chị bạn bao nhiêu tuổi?” Minh đáp: “Tuổi mình nhiều hơn 5 tuổi nhưng ít hơn 7 tuổi. Mình kém chị mình 4 tuổi.” Hỏi chị của bạn Minh năm nay bao nhiêu tuổi?

.....

.....

.....

.....

.....

.....

Bài 2. Trong đợt thi đua vừa qua bạn Hà giành được số điểm 10 đúng bằng số nhỏ nhất có hai chữ số cộng với 8. Bạn Hùng giành được số điểm 10 đúng bằng số lớn nhất có một chữ số cộng với 10. Hỏi mỗi bạn dành được bao nhiêu điểm 10.

.....

.....

.....

.....

.....

.....