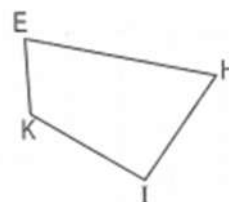
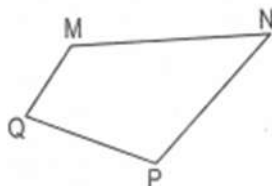
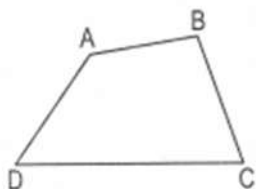


Tuần 5 - Đề B

Phần 1 : Bài tập trắc nghiệm

1. Khoanh vào chữ đặt trước câu trả lời đúng

Hình tứ giác có mấy cạnh ?



A. 1 cạnh

B. 2 cạnh

C. 3 cạnh

D. 4 cạnh

2. Khoanh tròn vào chữ đặt trước câu trả lời đúng :

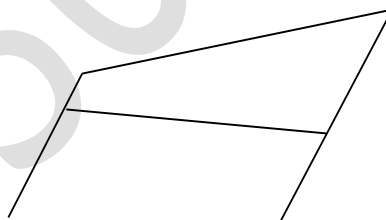
Hình vẽ dưới đây có mấy hình tứ giác ?

A. 1 hình tứ giác

B. 2 hình tứ giác

C. 3 hình tứ giác

D. 4 hình tứ giác



3. Khoanh vào chữ đặt trước câu trả lời đúng :


Hình vẽ dưới đây có mấy hình chữ nhật ?

A. 1 hình chữ nhật

B. 2 hình chữ nhật

C. 3 hình chữ nhật

D. 4 hình chữ nhật



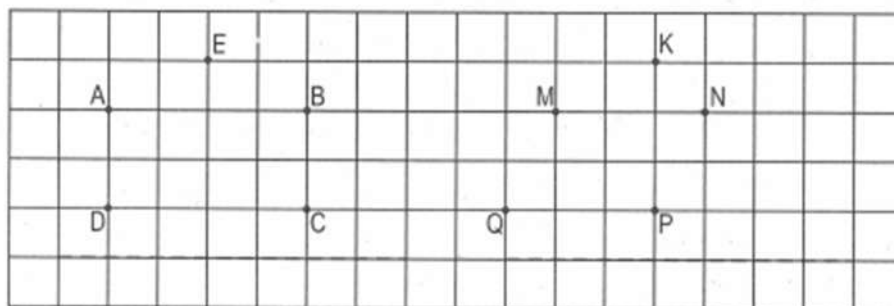
4. Đúng ghi Đ, sai ghi S

Sợi dây thứ nhất dài 2dm. Sợi dây thứ hai dài hơn sợi dây thứ nhất là 5 cm. Hỏi sợi dây thứ hai dài bao nhiêu xăng-ti-mét?

- a) 7 cm... b) 25 cm.....

Phần 2 Học sinh trình bày bài làm

5. Dùng thước và bút nối các điểm để có hình chữ nhật, hình tứ giác rồi ghi tên hình đó :

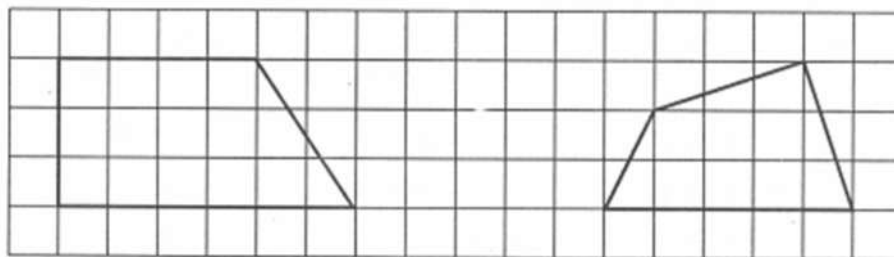


Hình chữ nhật

Hình tứ giác

6. Kẻ thêm một đoạn thẳng trong mỗi hình để được :

- a) một hình chữ nhật và một hình tam giác b) ba hình tam giác



7. Mảnh vải xanh dài 58 cm. Mảnh vải đỏ dài hơn mảnh vải xanh là 2 dm. Hỏi mảnh vải đỏ dài bao nhiêu xăng-ti-mét?

Tóm tắt

Bài giải

Vải xanh :cm

Vải đỏ dài hơn vải xanh: ...dm

Vải đỏ:cm?

8. Viết số thích hợp vào ô trống :

19	+		=	27
----	---	--	---	----

	+	9	=	27
--	---	---	---	----

hoc360.net