

## ĐỀ KIỂM TRA CUỐI TUẦN LỚP 2

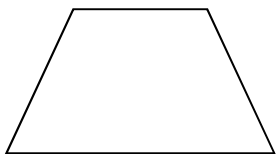
### Tuần 5 – Đề A

#### Phần 1 Bài tập trắc nghiệm :

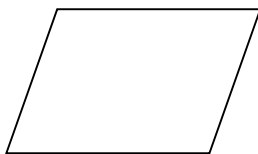
1. Khoanh vào chữ đặt trước câu trả lời đúng :

Hình nào dưới đây là hình chữ nhật ?

Hình 1



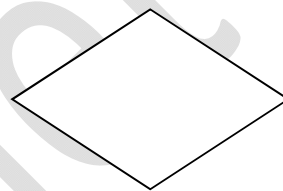
Hình 2



Hình 3



Hình 4



A . Hình 1

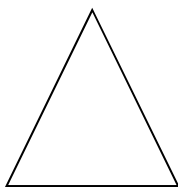
B. Hình 2

C. Hình 3

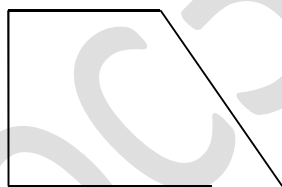
D. Hình 4

2. Khoanh vào chữ đặt trước câu trả lời đúng :

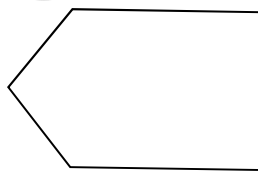
Hình nào dưới đây là hình tứ giác :



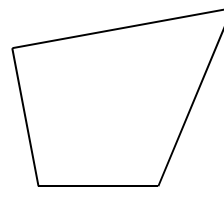
Hình 1



Hình 2



Hình 3



Hình 4

A. Hình 1

B. Hình 2

C. Hình 3

D. Hình 4

3. Đúng ghi Đ, sai ghi S :

Có 8 con gà trống. Số gà mái nhiều hơn số gà trống là 6 con . Hỏi có bao nhiêu con gà mái?

a) 2 con .....

b) 14 con ...

4. Đúng ghi Đ, sai ghi S :

Cây nến hồng dài 9cm . Cây nến trắng dài hơn cây nến hồng là 7 cm . Hỏi cây nến trắng dài bao nhiêu xăng-ti-mét?

a) 16 cm ...

b) 2 cm...

## Phần 2 Học sinh trình bày bài làm

5. Anh có 18 nhãn vở . Hà có nhiều hơn Anh là 7 nhãn vở . Hỏi Hà có bao nhiêu nhãn vở ?

Tóm tắt

Anh có : ..... nhãn vở

Hà nhiều hơn Anh : .....nhãn vở

Hà có : .....nhãn vở

Bài giải

.....  
.....  
.....

6. Mảnh vải xanh dài 48 dm . Mảnh vải đỏ dài hơn mảnh vải xanh là 27 dm . Hỏi mảnh vải đỏ dài bao nhiêu đề-xi-mét?

Tóm tắt:

Vải xanh dài : ....dm

Vải đỏ dài hơn vải xanh : ... dm

Vải đỏ dài : ...dm?

Bài giải

.....  
.....  
.....

7. Hà cao 88 cm. Tú cao hơn Hà là 7 cm . hỏi Tú cao bao nhiêu xăng-ti-mét? →

Tóm tắt: Hà cao : ....cm

Tú cao hơn Hà : ...cm

Tú cao :..... cm ?

Bài giải

.....  
.....  
.....

hoc360.net