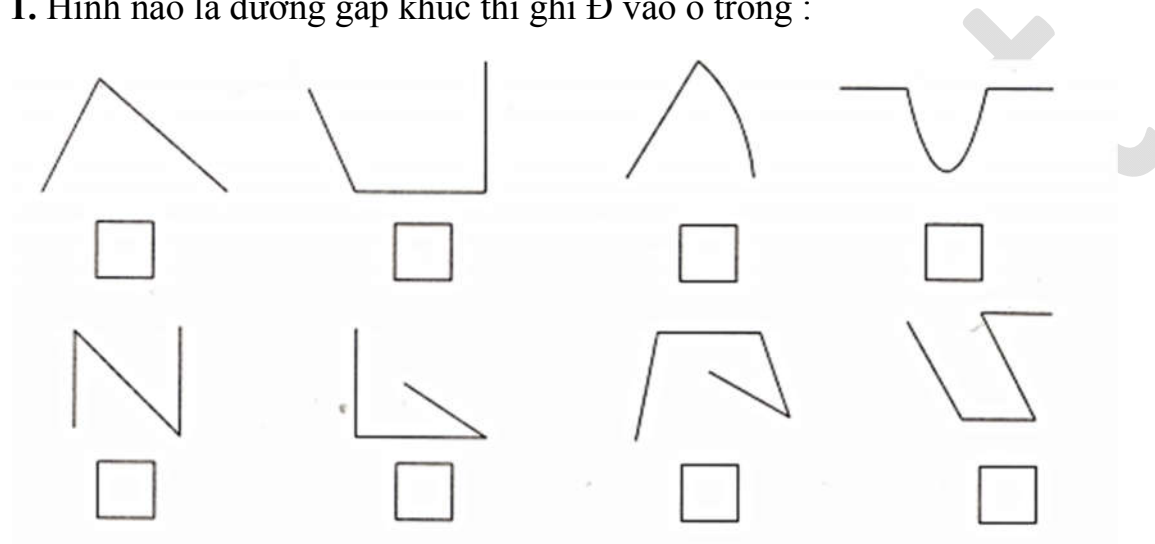


ĐỀ KIỂM TRA CUỐI TUẦN TOÁN 2

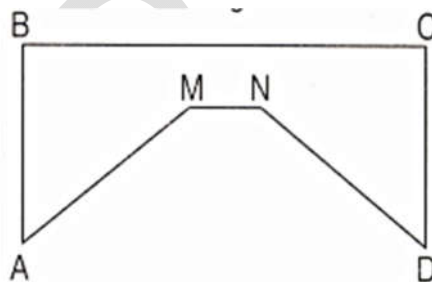
Tuần 22 – Đề A

Phần 1. Bài tập trắc nghiệm :

1. Hình nào là đường gấp khúc thì ghi Đ vào ô trống :



2. Khoanh vào chữ đặt trước câu trả lời đúng :



- A. Độ dài đường gấp khúc ABCD bằng độ dài đường gấp khúc AMND.
- B. Độ dài đường gấp khúc ABCD lớn hơn độ dài đường gấp khúc AMND.
- C. Độ dài đường gấp khúc ABCD bé hơn độ dài đường gấp khúc AMND.

3. Đúng ghi Đ, sai ghi S :

a) $2 \times 7 + 3 = 2 \times 10$

b) $4 \times 7 - 2 = 4 \times 5$

$$= 20 \dots$$

$$= 20 \dots$$

b) $2 \times 7 + 3 = 14 + 3$

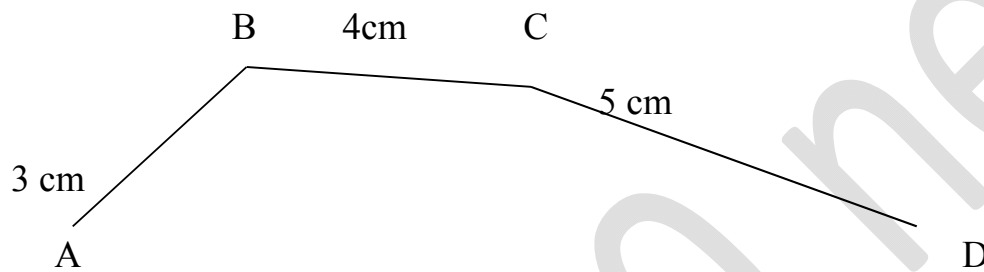
d) $4 \times 7 - 2 = 28 - 2$

$$= 17 \dots$$

$$= 26 \dots$$

Phần 2. Học sinh trình bày bài làm :

4. Tính độ dài đường gấp khúc ABCD.



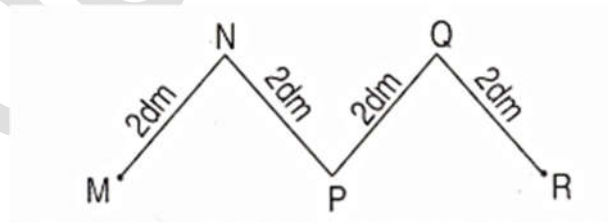
Bài giải

.....

.....

.....

5. Tính độ dài đường gấp khúc MNPQR.



Bài giải

.....

.....

.....

6. Một người nuôi thỏ có 8 chuồng thỏ , mỗi chuồng nhốt 5 con thỏ .Hỏi người đó nuôi bao nhiêu con thỏ ?

Bài giải

.....
.....
.....

7. Viết số thích hợp vào ô trống :

4	x		=	20
---	---	--	---	----

	x	3	=	15
--	---	---	---	----