


Đáp án tuần 5 – Đề A

1. **C** Hình 3
2. **D** Hình 4
3. b) 14 con **Đ**
4. a) 16 cm **Đ**
5. $18 + 7 = 25$ (nhân vở)
6. $48 + 27 = 75$ (dm)
7. $88 + 7 = 95$ (cm)

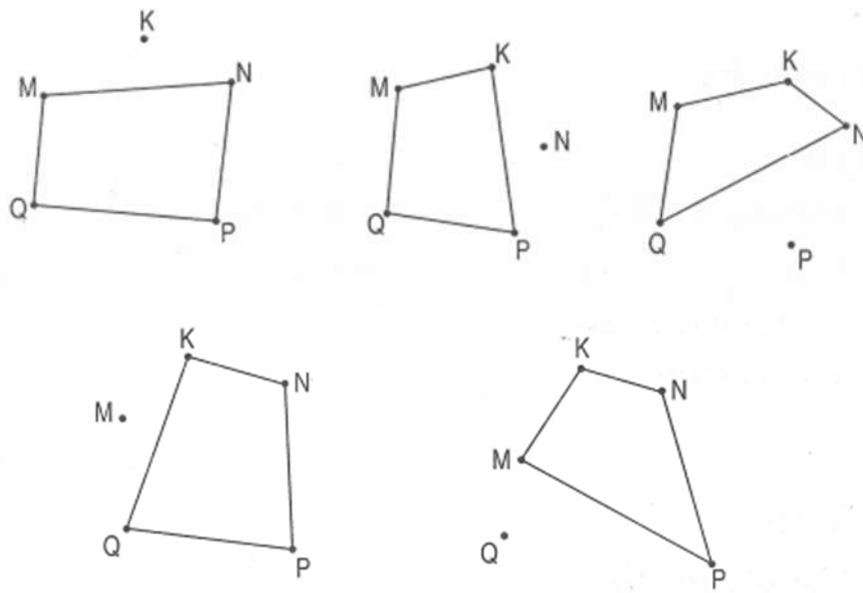
Đáp án tuần 5 – Đề B

1. **D** 4 cạnh
2. **C** 3 hình tứ giác
3. **C** 3 hình chữ nhật
4. b) 25 cm **Đ**
5. Nối A với B ; B với C ; C với D ; D với A được hình chữ nhật ABCD

E.




Có thể nối 4 điểm sau để được một hình tứ giác :

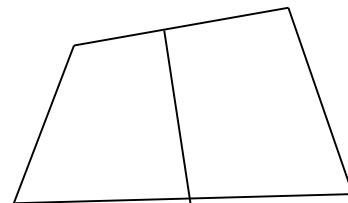
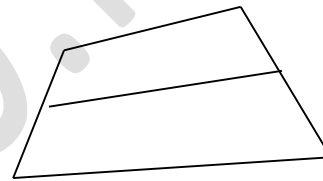


(Học sinh chỉ vẽ một hình tứ giác)

6 a)



b) Học sinh chỉ vẽ 1 trường hợp



$$7. 58 + 20 = 78 \text{ (cm)}$$

8

19	+	8	=	27
----	---	---	---	----

18	+	9	=	27
----	---	---	---	----