

ĐỀ KIỂM TRA CUỐI TUẦN TOÁN 4

Tuần 8 – Đề A

Phần I. Trắc nghiệm

1. Khoanh vào chữ đặt trước câu trả lời đúng

Tổng của hai số là 82. Hiệu của hai số đó là 14. Hai số đó là :

- A. 33 và 49 B. 32 và 50 C. 34 và 48 D. 45 và 37

2. Nối mỗi góc với tên gọi của nó :



Hình A

góc tù



Hình B

góc vuông



Hình C

góc nhọn

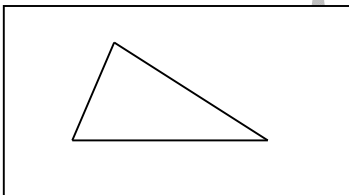


Hình D

góc bẹt

3. Nối mỗi ô ở cột trái với một ô ở cột phải để được khẳng định đúng :

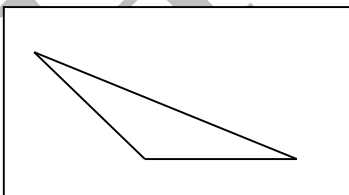
A.



Hình tam giác có góc tù

(1)

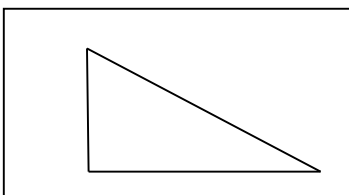
B.



Hình tam giác có góc vuông

(2)

C.



Hình tam giác có 3 góc nhọn

(3)

Phần II. Trình bày chi tiết các bài toán

1. Đặt tổng rồi tính tổng :

a) $3654 + 2547 + 1968$

b) $16852 + 27349 + 5178$

c) $9172 + 3461 + 589$

d) $35198 + 24734 + 6589$

a)..... b)..... c)..... d).....
.....
.....

2. Tính bằng cách thuận tiện nhất :

a) $2785 + 1946 + 1215$

b) $23764 + 136 + 16236$

.....
.....
.....

3. Tổng số tuổi của hai mẹ con là 48 tuổi. Tính tuổi của mỗi người. Biết rằng mẹ hơn con 30 tuổi.

.....
.....
.....

4. Hãy kể tên góc nhọn, góc tù và góc vuông trong hình bên :

.....
.....
.....
.....

