

Bài 1: Nối ô chữ:

a. Ghé lá

Mẹ mua nhảy dây

Tia trái ổi

Bé Hà gỗ

b. Mẹ may bơi lội

Bầy cá áo mới

Cây táo qua khe đá

Suối chảy thổi xôi đỗ

Bà nội sai trĩu quả

Bụi tre

Bài 2: Chọn âm hay vần thích hợp điền vào chỗ trống:

a. **g** hay **gh**:

.....àô, bànế, ...ồề,i nhớ

b. k, c, q:

tổua. Coniến,ây gỗ, phóồ

c. ua hay **ư**:

ca m....., bò s....., cà ch.....; quả d.....

d. ay hay **ây**:

suối ch.....; x..... nhà; đi c.....; c..... cái

ôn tập toán lớp 1

1. Đặt tính rồi tính:

87- 45 93- 62 77- 22 68- 43 55- 32 49- 36

67- 40 93- 80 78 - 50 46- 30 85 - 82 99 - 90

29 - 6 34 - 4 68-7 72- 2 99 - 5 86 - 4 78 - 6

2. Điền dấu >, < =

82 - 41..... 53 - 12 87- 36 42- 21 63- 20..... 97- 53
99 - 89..... 27- 15 96- 74.....36 - 24 68- 21 59 - 12
88 - 48..... 75- 22 86 - 80 19- 3 75- 25..... 63 -33
70 - 2090- 40 80-70..... 30- 20 50 - 10..... 90 - 80

3. Lớp 1B có 36 bạn, trong lớp có 24 bạn gái. Hỏi lớp có bao nhiêu bạn trai?

4. Một quyển truyện có 80 trang. Tùng đã đọc được 30 trang. Hỏi còn bao nhiêu trang Tùng chưa đọc?

5. Gà mẹ ấp 18 quả trứng. Đã nở 8 chú gà con. Hỏi còn lại mấy quả trứng chưa nở?

.....
.....
.....
6. Trên cành cao có 25 con chim đậu, cành dưới có 11 con chim đậu. Có 4 con chim bay từ cành trên xuống cành dưới đậu. Hỏi:

- a. Cành trên còn lại bao nhiêu con chim đậu?
- b. Cành dưới còn bao nhiêu con chim đậu?

.....
.....
.....
7. Đoạn đường dài 78 mét. Em bé đã đi được 50 mét. Hỏi bé còn phải đi bao nhiêu mét nữa thì tới nơi?

- 8. a. Một tuần lễ có mấy ngày?.....
- b. Viết tên các ngày trong tuần lễ bắt đầu từ thứ hai

.....
.....
.....
c. Gạch chân những ngày em không đến trường?

.....
.....
.....
9. Viết tên những ngày em đi học trong một tuần?

.....
.....
.....
b. Viết tên các ngày em không đi học?

10. Một tuần lễ có hai ngày em không tới trường. Hỏi một tuần lễ em tới trường mấy ngày?

.....
.....
.....
11. Mỗi tuần em đi học 5 ngày. Hỏi một tuần có mấy ngày em không đi học?

.....
.....
.....
12. Trên tờ lịch ngày hôm nay ghi: tháng, ngày trong tháng là ngày thứ, hôm nay là thứ trong tuần.

13. Đọc tờ lịch ngày hôm nay, em ghi: Ngày mai là ngày thứ..... của tuần, ngày thứ..... của tháng, tháng này là tháng thứ..... của năm.

14. Hôm nay là ngày 17 của tháng và là ngày thứ tư

Ngày mai là ngày của tháng và là ngày thứ

Ngày kia là ngày của tháng và là ngày thứ

Hôm qua là ngày của tháng và là ngày thứ

Hôm kia là ngày..... của tháng và là ngày thứ

15. Ngày 16 của tháng 7 năm 2001 là ngày thứ hai của tuần

Ngày 17 tháng 7 năm 2001 là ngày thứ của tuần

Ngày 18 tháng 7 năm 2001 là ngày thứ của tuần

Ngày 19 tháng 7 năm 2001 là ngày thứ của tuần

Ngày 20 tháng 7 năm 2001 là ngày thứ của tuần

16. Hôm nay là ngày Chủ nhật. Mấy ngày nữa thì đến ngày chủ nhật liền sau? Vì sao?

17. Hôm nay là thứ năm. Mấy ngày trước đây là thứ năm liền trước? Vì sao?

18. Ngày 5 tháng 8 là ngày chủ nhật.

Ngày 4 tháng 8 là ngày thứ.....

Ngày 3 tháng 8 là ngày thứ.....

Ngày 2 tháng 8 là ngày thứ.....

Ngày 1 tháng 8 là ngày thứ.....

19. Lúc 8 giờ kim ngắn chỉ vào số....., kim dài chỉ vào số.....

Lúc 2 giờ kim ngắn chỉ vào số....., kim dài chỉ vào số.....

Lúc 11 giờ kim ngắn chỉ vào số....., kim dài chỉ vào số.....

Lúc 9 giờ kim ngắn chỉ vào số....., kim dài chỉ vào số.....

Lúc 12 giờ kim ngắn chỉ vào số....., kim dài chỉ vào số.....

20. Số gồm 3 chục và 0 đơn vị là 30

Số gồm 4 chục và 0 đơn vị là

Số gồm 5 chục và 0 đơn vị là

Số gồm 9 chục và 0 đơn vị là

Số gồm 7 chục và 0 đơn vị là

21. Hình bên có:

- Số hình vuông là.....

- Số hình tam giác là.....

22. Cho các số: 5, 11, 9, 97, 76, 54, 23, 55

a. Viết các số theo thứ tự từ nhỏ đến lớn.....

b. Viết các số theo thứ tự từ lớn đến nhỏ

23. Tìm một số biết rằng lấy số đó cộng với 15, được bao nhiêu trừ đi 10 thì được kết quả là 25.

24. Trong một tháng ngày 12 trong tháng là thứ hai. Hỏi ngày 19 trong tháng đó là thứ mấy?

25. Đàn gà có 65 con. Người ta đã bán đi một số gà thì còn lại 23 con gà. Hỏi người ta đã bán đi bao nhiêu con gà?

Bài 1: Chọn âm hay vần thích hợp điền vào chỗ trống:

e. **g** hay **gh**:

.....àô, bànế, ...ồề,i nhớ

f. **k,c,q**:

tổạ. Coniến,ây gỗ, phóồ

g. **ua** hay **ư**:

ca m....., bò s....., cà ch.....; quả d.....

h. **ay** hay **ây**:

suối ch.....; x..... nhà; đi c.....; c..... cái

Bài 2: Đặt câu với từ: yêu thương, bạn bè.

.....
.....
.....

Bài 3: Tìm các từ có tiếng: thân

.....
.....
.....

Bài 4: Trong gia đình em, em yêu ai nhất? Hãy viết khoảng 5 câu giới thiệu về người đó.

.....
.....

5. Gạch dưới từ viết sai chính tả:

Ngượng ngịu

quai xách

cong queo

Quai sách

quả lịu

ngập ngừng

Ôn tập cuối năm Lớp 1

bài 1 : Điền dấu + , - thích hợp vào ô trống:

$12 \square 5 \square 3 = 14$

$32 \square 30 \square 2 = 4$

$14 \square 4 \square 1 = 11$

$45 \square 20 \square 4 = 69$

$16 \square 3 \square 2 = 17$

$84 \square 10 \square 3 = 71$

bài 2 :

Tìm 1 số biết rằng lấy số đó cộng với 5 rồi trừ đi 8 được kết quả là 11?

bài 3 : Điền dấu > , < , = thích hợp vào ô trống:

$12 + 6 \square 6 + 4 + 7$

$30 + 40 \square 80 - 20$

$15 + 0 \square 15 - 0$

$90 - 50 \square 10 + 40$

$18 - 5 \square 14 - 4 + 5$

$70 - 40 \square 90 - 60$

$0 + 10 \square 10 + 0$

$30 + 20 \square 10 + 40$

bài 4 :

Nối phép tính với số thích hợp:

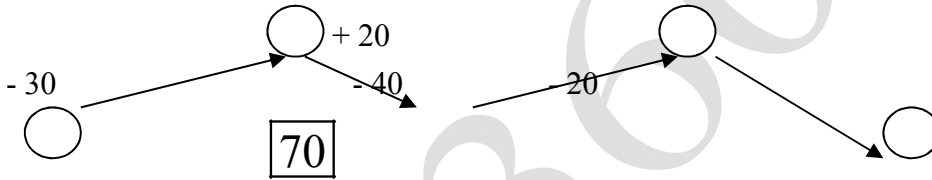
80 - 60

20 + 30 20 | 60 30 + 30

10 + 40 50 | 70 50 + 20

60 - 40 80 - 10 90 - 30

bài 5 : số ?

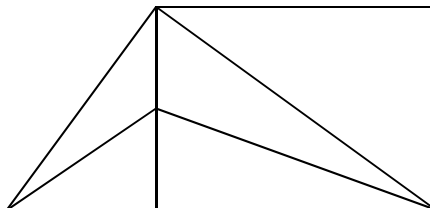


$32 + 46 < \square < 22 + 40$

bài 6 : Điền số thích hợp vào ô trống sao cho cộng các số theo hàng ngang , theo cột dọc , theo đường chéo của hình vuông có các kết quả đều như nhau:

		14
	23	
32	14	

bài 7 :



Hình vẽ trên cótam giác.

Đó là các tam

giác

.....

.....

.....

bài 8 :

Đọc tên các điểm đoạn thẳng có trong hình vẽ sau:

Cóđiểm

Là các điểm.....


.....

Có đoạn thẳng

Là các đoạn thẳng

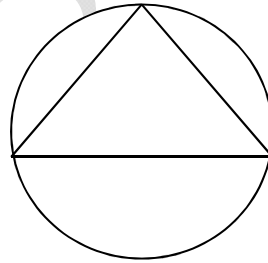
.....

.....



bài 9 :

Vẽ 5 điểm sao cho có 3 điểm ở trong đường tròn và 4 điểm ở ngoài hình tam giác.



Bài 10 *: Con gà mái của bạn An sau 2 tuần 1 ngày đã đẻ được 1 số trứng. bạn An tính rằng cứ 3 ngày nó đẻ được 2 quả trứng. Hỏi con gà đó đã đẻ được mấy quả trứng ?

.....

.....

.....

.....

.....

Bài 11 *: Hè vừa rồi , bạn Bình về thăm ông bà nội được 1 tuần 2 ngày và thăm ông bà ngoại được 1 tuần 3 ngày .
Hỏi bạn Bình đã về thăm ông bà nội ngoại được bao nhiêu ngày ?

Bài 12 *: An có ít hơn Bình 4 hòn bi, Bình có ít hơn Căn 3 hòn bi. Hỏi Căn có mấy hòn bi, biết rằng An có 5 hòn bi .

Bài 12 *: Số tuổi của An và Ba cộng lại bằng số tuổi của Lan và của Hương cộng lại.
An nhiều tuổi hơn Hương. Hỏi Ba nhiều tuổi hơn hay ít tuổi hơn Lan ?

Bài 13 *: Anh có 15 hòn bi đỏ và 10 hòn bi đen. Anh cho em 5 hòn bi . Hỏi anh còn bao nhiêu hòn bi?

11:

12:

Bài 14 *:

Điền số thích hợp vào chỗ trống:

} ...3 7
÷ ÷ ÷ ÷
}) † }

Bài 15 *: Lớp 2 A có 15 học sinh giỏi. Lớp 2 B có ít hơn lớp 2 A là 4 học sinh giỏi. Lớp 2 C có ít hơn lớp 2 A là 3 học sinh giỏi. Tính số học sinh giỏi của 3 lớp đó ?

Bài 15*: Nhà bạn Nam nuôi vịt , ngan , ngỗng. Có 36 con vịt, số ngan ít hơn số vịt 6 con, số ngỗng ít hơn số ngan 10 con. Hỏi nhà bạn Nam có tất cả bao nhiêu con vịt, con ngan ?

Bài 16*: Có 3 loại bi màu xanh, đỏ, vàng đựng trong túi. Biết rằng toàn bộ số bi trong túi nhiều hơn tổng số bi đỏ và bi vàng là 5 viên. Số bi xanh ít hơn số bi vàng là 3 viên và nhiều hơn số bi đỏ là 4 viên. Hỏi trong túi có bao nhiêu viên bi ?

Bài 17*: Điền dấu <, >, = vào ô trống:

$23 + 23 = 11$ $22 + 22 = 10$

$56 + 21 - 15 \quad \square \quad 21 + 56 - 15$

$44 + 44 - 22 \quad \square \quad 46 + 41 - 26$

Bài 18*: Cho số có 2 chữ số, mà chữ số hàng chục thì lớn hơn chữ số hàng đơn vị là 5. Tính tổng 2 chữ số của nó .

Bài 19 : Nối các điểm dưới đây để được 5 đoạn thẳng sao cho các đoạn thẳng không cắt nhau:

A

B

C

D

Bài 20 : Em hãy nghĩ một số nào đó từ 1 đến 7 . Em cộng số đó với 3 , được bao nhiêu đem trừ đi 1 rồi lại trừ tiếp số đã nghĩ . Kết quả cuối cùng bằng 2, có đúng không ?

Giải

Bài 21: Hùng hỏi Dũng : “ Em bé của bạn mấy tuổi rồi ? ” Dũng đáp “ Nếu bỏ chữ số là số nhỏ nhất có một chữ số ở số nhỏ nhất có 2 chữ số thì được tuổi em mình ”. Hỏi em bé của Dũng mấy tuổi?

Giải

22 : Năm khoe với Bốn “ Ba năm nữa thì mình có số tuổi bằng số lớn nhất có một chữ số ”. Hỏi bạn Năm tuổi ?